
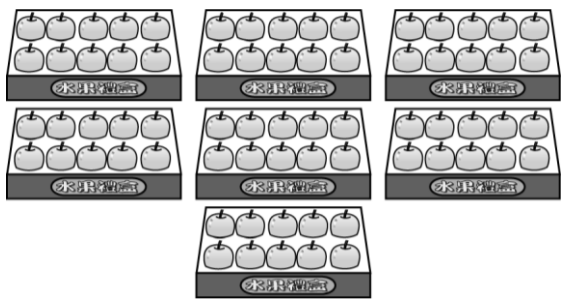


一、圈出圖中看(每題 2 分，共 8 分)

1. 把形狀不同的東西圈起來。



2. 圈出正確的答案。



有 ( 70 , 80 , 90 ) 顆

3. 下列哪一個物品像圓柱？(2分)



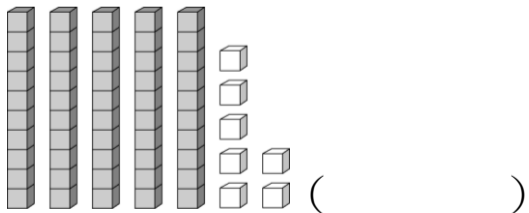
4. 安安想買一個 69 元的水彩，她的錢夠嗎？



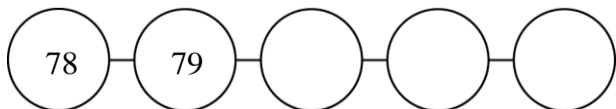
安安的錢 ( 夠 , 不夠 )。

二、填填看看(每格 1 分，共 18 分)

1. 寫出積木表示的數。

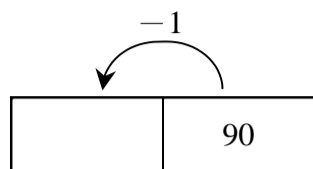


2. 按照數字的順序填填看看。



3. 73 可以分成 ( ) 個十和 ( ) 個一。

4. 寫出比右邊的數少 1 的數。



5. 寫出 3 個比 40 大的二位数。

( )、( )、( )

6. 有一個二位数比 23 小，它的个位数

數字是 5，十位數字是多多少？在

位值表上填入答案。

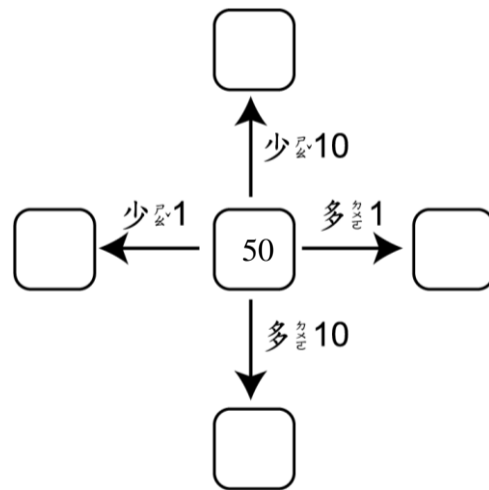
十位	个位
	5

7.

十位	个位
3	0

可以分成 ( ) 個十和 ( ) 個一。

8. 按照指示填填看看。



三、算算看看

(第 1-5 題每題 2 分，第 6-7 題每小格 1 分，共 18 分)

1.  $9+5=( )$

2.  $13-6=( )$

3.  $8+7=( )$

4.  $12+8=( )$

5.  $19-3=( )$

6. 寫出下面心算卡上算式的答。

$2+9=( )$   
 $3+9=( )$   
 $4+9=( )$   
 $5+9=( )$


7. 寫出下面心算卡上算式的答。

$12-3=( )$   
 $12-4=( )$   
 $12-5=( )$   
 $12-6=( )$

四、畫畫看看(每題4分,共8分)

1. 看價目表把多的錢打X,不夠的

用10表示,用1表示補畫上去。



2. 用10表示,用5表示,用1表示,畫出要付的錢。



五、連連看看(11分)

1. 下面立體積木灰色的面可以畫出什麼形狀?(每條線1分,共3分)

①	·	·	勺長方形
②	·	·	勺圓形
③	·	·	門正方形

2. 把符合下面敘述的連起來。(每條線1分,共4分)

① 十位數字是7	·	·	勺91
② 個位數字是7	·	·	勺47
③ 十位數字是9	·	·	門29
④ 個位數字是9	·	·	匚73


3. 依照指示連連看看。(每條線1分,共4分)

① 36	·	·	勺比49大
② 71	·	·	勺比49小
③ 48	·	·	
④ 55	·	·	

六、看看圖做做看看(22分)

1. 10個10圈起來,數完後記在位值表上。

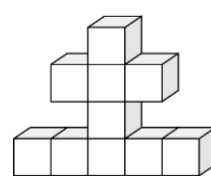
(10個10圈起來2分,其他每小格1分,共5分)



十位	個位

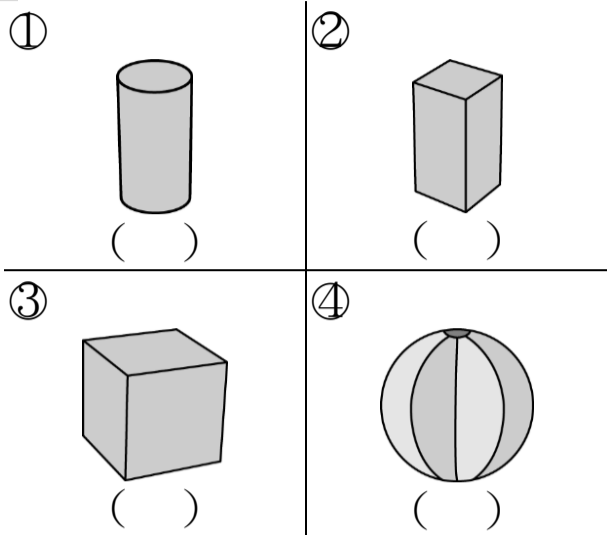
共有( )隻

2. 下面幾形體中有幾個?

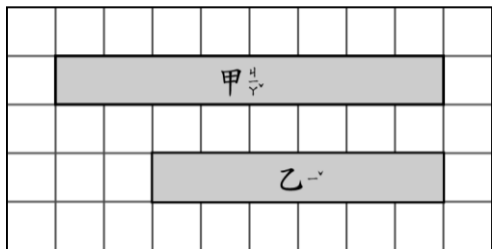


有( )個

3. 下面物體中，可以滾動的在( )  
 裡打✓，不可以滾動的在( )裡  
 打✗。(每格1分，共4分)




4. (3分)



- (1) 甲緞帶有( )格長。  
 (2) 乙緞帶有( )格長。  
 (3) ( )緞帶比較短。

5. 看圖數一數有多少少? 記在位值表上。(每格1分，共8分)



十位	個位	十位	個位
十位	個位	十位	個位

七、把算式和答案記下來。(每題3分，共15分)

1. 繩子繞爸爸腰帶一圈和18塊 一樣長，繩子繞妹妹腰帶一圈和9塊 一樣長，妹妹的腰帶比爸爸的腰帶少幾塊 長?

算式: \_\_\_\_\_

( ) 塊

2. 阿寶早上吃了8片海苔，下午吃了5片，他共吃了幾片海苔?

算式: \_\_\_\_\_

共吃了( )片

3. 鉛筆盒裡有8枝原子筆和17枝鉛筆，原子筆比鉛筆少幾隻?

算式: \_\_\_\_\_

( ) 枝

4. 16瓶果汁，喝掉9瓶，剩下幾瓶果汁?

算式: \_\_\_\_\_

剩下( )瓶

5. 樹上原有18隻小鳥，飛走9隻後，剩下幾隻?

算式: \_\_\_\_\_

( ) 隻

小朋友~ 寫完之後不要忘記  
 了再檢查一次喔!

