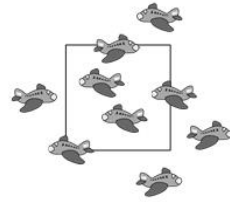
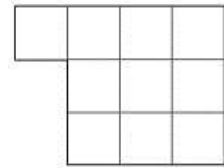


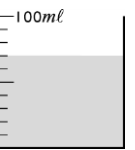
一、是非題(共10分/每題2分)

- () 1. $\frac{14}{14}$ 和 1 一樣大。
- () 2. 在除法算式中，餘數不一定要比除數小。
- () 3. 右圖每一格代表 1 公分，圖形的周長是 10 公分。
- () 4. $\frac{4}{8}$ 讀作「八分之四」，代表分成 8 份。
- () 5. 右圖正方形周界上的飛機有 4 架。



二、選擇題(共14分/每題2分)

1. () 請問邊長 12 公分的正方形，周長是多少公分？ ① 24 公分 ② 36 公分
③ 48 公分 ④ 60 公分。
2. () 一條手鍊有 8 顆珍珠，32 顆珍珠可以串成幾條手鍊？ ① 3 條 ② 4 條
③ 8 條 ④ 5 條。
3. () 右邊的量杯中裝了多少毫升的水？ ① 100ml ② 7ml ③ 700ml ④ 70ml。
4. () $48 \div 6 = 8$ ， $48 \div 8 = \square$ ， \square 中的數是多少？ ① 6 ② 7 ③ 8 ④ 9。
5. () 請問括號裡要填上多少，算式： $\frac{(\quad)}{15} = 1$ 才算成立？ ① 1 ② 14 ③ 15 ④ 16。
6. () 下列哪個數可以被 9 整除？ ① 54 ② 20 ③ 48 ④ 82。
7. () 阿玉原有 1800 元，買了一件 899 元的洋裝後，爸爸又給她 1200 元，阿玉現在有多少元？ ① 2099 元 ② 2101 元 ③ 3899 元 ④ 1499 元。



二、綜合題(共26分)

(一) 填上正確答案。(共25分/第(12)題2分，全對才給分；其餘每格1分)

- (1) 5 公升的水和 () 毫升的水一樣多。
- (2) 1 瓶養樂多的容量是 100ml，45 瓶養樂多的容量是 () ml，也可以記作 () 公升 () 毫升。
- (3) 有一座正三角形的金字塔，邊長是 25 公尺，周長是 () 公尺。
- (4) 蜜蜂在數線上 501 的位置向左飛了 309，最後會停在 250 的 () 邊。
- (5) 姿伶老師和逸菁老師各有一包巧克力餅乾，姿伶老師平均分成 7 天吃完，逸菁老師平均分成 10 天吃完，姿伶老師每天吃 () 包，逸菁老師每天吃 () 包。
- (6) 1 條道路平均分成 15 段，分成 3 天施工。
-
- ① 第 1 天完成 () 條道路。 ② 第 2 天完成 () 條道路。
- ③ 第 3 天完成 () 條道路。 ④ 第 () 天施工的道路長度最長。
- (7) 一籠包子有 15 個，振傑吃了 3 個，柏智吃了 $\frac{6}{15}$ 籠，誰吃的比較少？少多少籠？答：() 吃的比較少，少 () 籠。

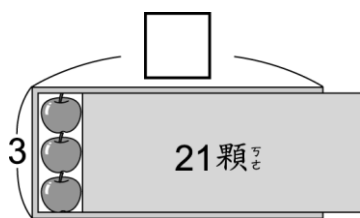
(8) $7 \times 4 = 28$

$4 \times (\quad) = 28$

$28 \div 7 = (\quad)$

$28 \div 4 = (\quad)$

(9) \square 是多 少 ?



(10) 比 大 小 ?

① $3605ml \square 3 \text{公升} 650 \text{毫升}$

② $56 \div 7 \square 63 \div 9$

③ $\frac{4}{7} \square \frac{7}{7}$

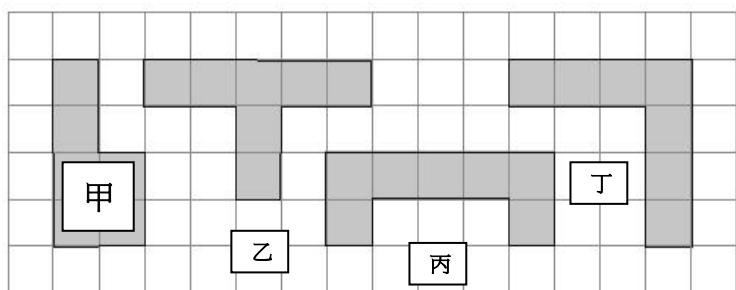
(11) 請 按 照 順 序 填 入 正 確 的 答 案。 $\frac{2}{8} \rightarrow (\quad) \rightarrow \frac{4}{8} \rightarrow \frac{5}{8} \rightarrow (\quad) \rightarrow \frac{7}{8} \rightarrow (\quad)$

(12) 請 把 右 邊 比 $\frac{6}{12}$ 小 的 分 數 圈 起 來。(2分) $\frac{5}{12} \quad \frac{3}{12} \quad \frac{12}{12} \quad \frac{6}{12} \quad \frac{1}{12}$

三、畫 出 題 目 指 定 的 要 求。(共8分/每題2分)

<p>① 1500 毫 升</p>	<p>② 畫 出 周 界</p>	<p>③ 畫 出 $\frac{8}{12}$</p>	<p>④ 畫 出 一 個 周 長 是 16 公 分 的 正 方 形。</p>
-------------------	------------------	--	--

四、看 圖 填 看 看，下 面 每 個 小 方 格 的 邊 長 都 是 1 公 分。(共8分/每題2分)



(1) 圖 形 甲 的 周 長 是 () 公 分。

(2) 圖 形 乙 的 周 長 是 () 公 分。

(3) 圖 形 丙 的 周 長 是 () 公 分。


(4) 圖 形 丁 的 周 長 是 () 公 分。

五、計 算 題，請 寫 出 直 式(共18分/每題3分，其中①~②要驗算，全對才給分)

<p>① $55 \div 7 = (\quad) \dots (\quad)$</p> <p>驗 算：</p>	<p>② $46 \div 6 = (\quad) \dots (\quad)$</p> <p>驗 算：</p>	<p>③ () + 3021 = 6537</p>
<p>④ $4 \text{ l } 902 \text{ ml} + 100 \text{ ml}$</p>	<p>⑤ $10 \text{ l} - 400 \text{ ml}$</p>	<p>⑥ $7050 \text{ ml} + 2999 \text{ ml}$</p>

六、應用題 (共16分/每題4分)

① 下面長方形的周長是多少公分?



② 54位小朋友搭摩天輪，每個摩天輪車廂坐8位，最少需要幾個車廂才夠坐?

③ 一包海苔有10片，小文分到 $\frac{4}{10}$ 包，小玉分到5片，誰分到的比較多?

④ 聖誕老人今天下午送了179個禮物，上午比下午少送48個，他今天一共送了多少個禮物?(請列成一個算式)

— 作答完畢 —