


澎湖縣望安鄉將軍國民小學 104 學年度第 1 學期期末定期評量

一年級數學領域試卷

座號：_____ 姓名：_____

一、填填看看：每格 1 分，共 14 分

1. 依照順序填數字。(5分)

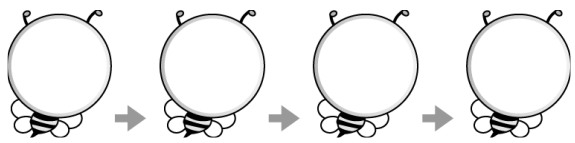



2. 魚缸裡有 3 條魚，再放進 5 條魚，一共有多少條魚？(4分)

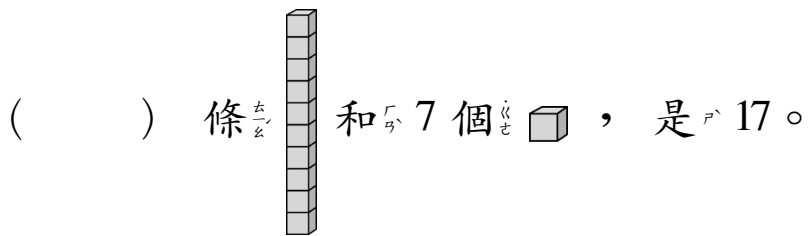
原有 (\quad) 再放進 (\quad) 一共 (\quad)

一共 (\quad) 條

3. 順著數，把數到的數按照順序寫出來。(4分)



4. 用積木表示數，填填看看。(1分)



二、算算看看：每小題 2 分(畫○ 1 分，答案 1 分)，共 4 分

1. 畫○算算看看。

$2 + 2 = (\quad)$

2. 畫○算算看看。

$3 + 7 = (\quad)$

三、配配題：每格 2 分，共 4 分

1. 下面做法可以用來表示哪一題？填入正確的代號。

ㄅ ○○ ○○○○	ㄆ ○○○○○
ㄇ ○○○○○ ○○ ○○	ㄏ ○○○○○ ○○○

(1) 魚缸裡有 5 條魚，送給朋友 3 條後，還剩下多少條魚？

()

(2) 公園裡有 7 個人，在溜滑梯，

2 個人在玩翹翹板，合起來


有幾個人？ ()

四、圈圈看看：共 24 分(每答 2 分)

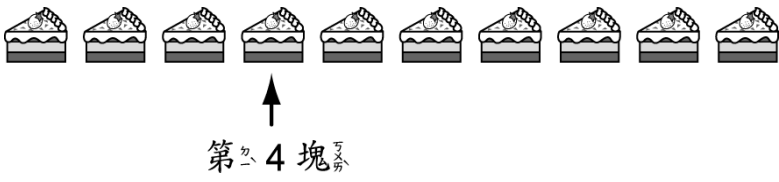
1. 圈出和數字一樣多的球。(8分)

2	
5	
4	
9	

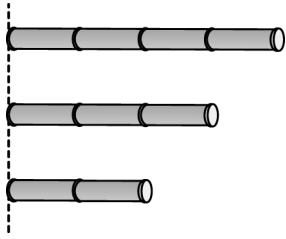
2. 從右邊算起，把第 2 顆圈起來。




3. 圈出第8塊蛋糕。



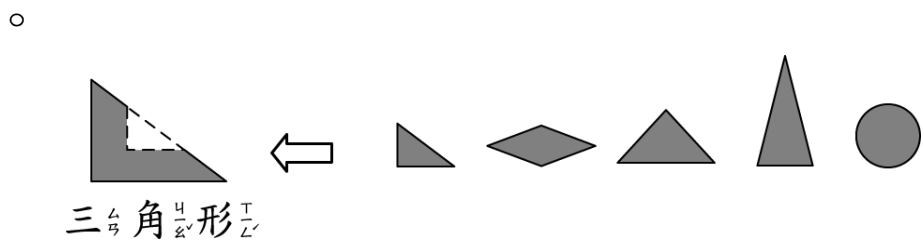
4. 把最短的圈起來。



5. 把最厚的圈起來。




6. 把缺的部分補起來，圈圈看。



7. 順著數，哪個數會先數到？

(20 , 11)

8. 數數看，圈出正確的答案。



(1) 哪種動物的數量是2？ (2分)

(兔 , 熊 , 豬)

(2) 哪種動物的數量是5？ (2分)

(豬 , 熊 , 兔)

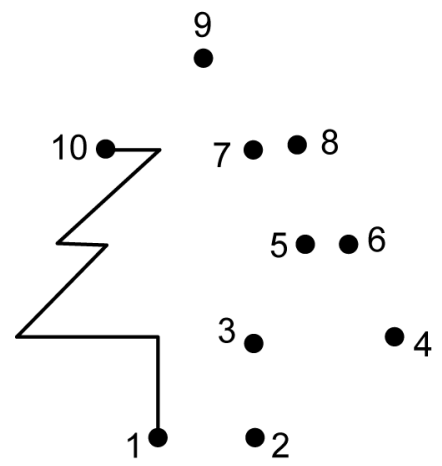
五、比比看：每格1分，共4分

1. 把比25大的數打√。(4分)

24 ()	23 ()
30 ()	26 ()

六、連連看：共17分

1. 按照順序連連看。(3分，錯1條線扣1分，扣完為止)




2. 數數看，連到正確的國字。(4分)

(4分)

① 	·	· ㄅ	六
② 	·	· ㄨ	九
③ 	·	· ㄇ	三
④ 	·	· ㄘ	十

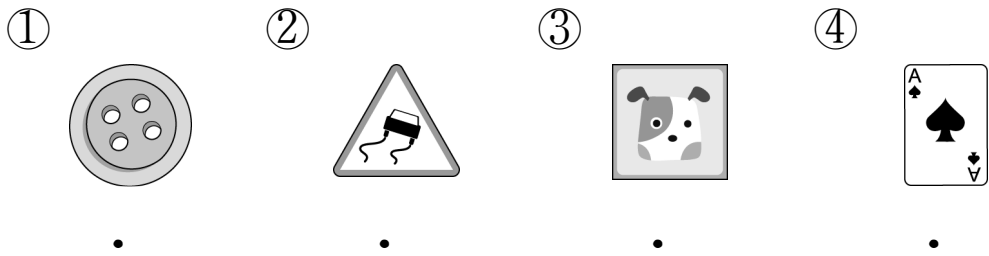
要細心看清楚題目喔~

加油!!



3. 下面的東西像哪一種形狀？

連連看。(4分)

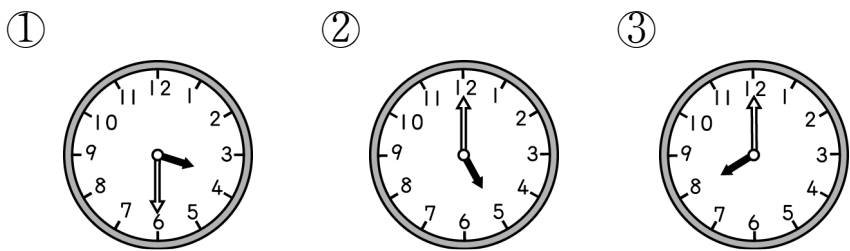


△ 三角形	○ 圓形	□ 長方形	□ 正方形
-------	------	-------	-------

4. 把合起來是10的連起來。(3分)

① ☆☆	△ ☆
② ☆☆ ☆☆	△ ☆☆☆☆ ☆☆☆☆
③ ☆☆☆☆ ☆☆☆☆	□ ☆☆☆ ☆☆☆


5. 把正確的時刻連起來。(3分)



① 3點半	② 8點	③ 5點
-------	------	------

七、看圖做做看看：共24分

1. 10條魚圍一圈，寫出有多少少。(2分)




2. 有幾隻小熊玩偶？寫出數字。(每小題各1分，4分)

① ☆☆☆☆ () 隻	② ☆☆ () 隻
--------------------	------------------


③ ☆☆☆☆ ☆☆☆☆ () 隻	④ ☆☆☆☆ ☆ () 隻
----------------------------	-------------------------

3. 數數看看，一共有多少？(3分)




原有 () 個杯子，再買 () 個杯子，一共有 () 個杯子。

4. 看圖，寫出正確的時刻。(2分)




() 點半

5. 看右圖，10點半時，短針指向 () 和 () 中間。(2分)



6. 小動物們在爬山。(4分)



- (1) 兔在第()個臺階。
- (2) 貓在第()個臺階，
- (3) 熊在第()個臺階。
- (4) 鼠在第()個臺階，

7. 在()中用1、2、3表示事情

發生的順序。(3分)

開花 ()	花謝了 ()	長葉子 ()
---------------	----------------	----------------

8. 下雪了，艾莎想要到城堡外堆雪人，把正確的鐘面時刻打

✓，並回答問題。(每答2分)



ㄅ ()	ㄆ ()
--------------	--------------

艾莎堆雪人的時間是()點。

八、畫○做做看，並把算式和

答案記下來：每題3分，共9分

1. 外婆家有5隻白狗和3隻黑狗，共有幾隻狗？畫○做做看。

共有()隻

2. 魚缸裡有9隻金魚，撈走4隻，剩下幾隻？先畫○再畫掉。

() 隻

3. 阿豪手上有4顆氣球，飛走3顆，還剩下幾顆？先畫○再畫掉。

() 顆

小朋友~ 寫完之後不要忘了
再檢查一次喔!!
準備開心放寒假啦!!

