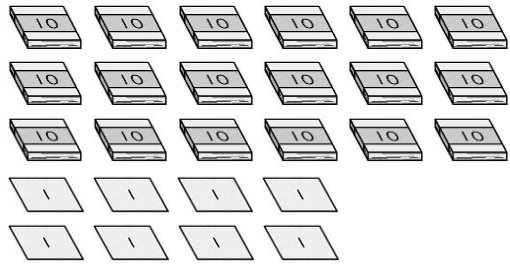


澎湖縣望安鄉將軍國民小學 104 學年度第 1 學期期中定期評量
二年級數學領域試題 座號：_____ 姓名：_____

一、圈出圈看：(每個圈看答答案案 2 分，共 30 分)

1. 圈出指定數量的數量。(2 分)

137 張彩色紙。



2. 圈出正確的數。

(1) 比 135 大。(2 分)



(2) 比 181 小。(2 分)



3. 哪一個數最接近正確答案？把它圈起來。(2 分)

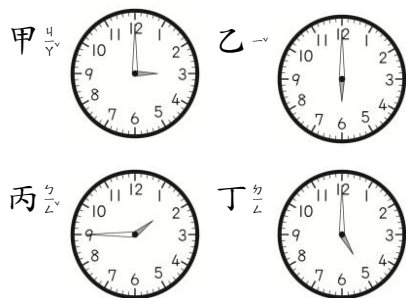
59 + 58

100 110 120


4. 哪兩個數相減最接近 50？(4 分，要兩個答案同時達對才給分)

81 49 39 92

5. 哪些鐘面的分指針有鉛直線？(8 分)



6. 下圖中，哪裡有平行現象？圈出 3 個有平行的地方。(6 分)



7. 哪些英文字母裡有垂直現象？

把它們圈起來。(4 分)



二、畫畫看看，做做看看：(每個圈看答答案案 2 分，共 10 分)


1. 用 100、50、10 和 1 的圖畫出指定的錢數。(4 分)

(1) 128 元

(2) 197 元

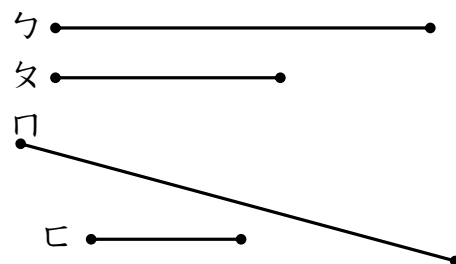
2. 用尺畫出 6 公分長的線段。(2 分)

3. 把兩點連起來，再量量看有多長？(4 分)



三、量量看看，再回答問題：(每個圈看答答案案 2 分，共 10 分)

1. 用 ㄅ、ㄆ、ㄇ、ㄉ 回答問題。



- (1) () 和 () 合起來是 9 公分。
- (2) ㄆ 和 () 合起來和 ㄅ 一樣長。
- (3) () 和 () 合起來比 ㄇ 長。

四、比比看看：(每個答案 2 分，共 8 分)

1. 在 \square 裡填入 $>$ 或 $<$ 。
- (1) $163 \square 136$
 - (2) $155 \square 129$
 - (3) $129 \square 131$
 - (4) $107 \square 110$

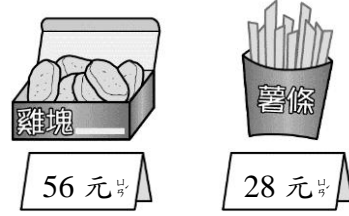
五、計算題：(每個答案 3 分，共 18 分)

1. $37 + 55 = (\quad)$
2. $62 + 28 = (\quad)$
3. $75 - 29 = (\quad)$
4. $54 - 16 = (\quad)$
5. $25 + 66 + 15 = (\quad)$
6. $80 - 23 - 29 = (\quad)$

六、應用題：(每個答案 4 分，共 24 分)

1. 信安 今年 15 歲，媽媽比她大 23 歲，媽媽今年幾歲？

2. 如圖，佳欣 各買一份，共要多少元？



3. 元元 買早餐花了 36 元，還剩下 84 元，元元 原來有幾元？
4. 每一條緞帶長 86 公分，2 條緞帶接起來共長多少公分？
5. 將軍車隊 去年有 42 個隊員，今年比去年少 25 個，今年和去年共有多少個隊員？
6. 老師吃早餐花了 35 元，吃午餐花了 58 元，還剩下 77 元，老師原有多少元？

活用加分題(10 分)

1. 我們的教室裡，哪裡有垂直現象？舉出兩個例子，寫寫看看。

