

澎湖縣望安鄉將軍國民小學 104 學年度第 1 學期期中定期評量

五年級社會領域試題 座號：_____ 姓名：_____

一、是非題：(每題 2 分，共 20 分)

- () 1. 從地圖上可以發現，臺灣在中國大陸的東北方。
- () 2. 日本人到臺灣旅遊，距離最短的飛機航線應該是要從日本往南飛。
- () 3. 世界上的三大洋中，以大西洋最大，是地球上最大的海洋。
- () 4. 經緯線是用來標示位置的假想線，並非實際存在於地球表面。
- () 5. 小型車的前、後座乘客，都必須繫上安全帶，以保護乘客的安全。
- () 6. 因為父母平日工作忙碌，所以我可以自行在考試卷上簽名。
- () 7. 不同文化背景會有不同的規範，像東方人常以親吻、擁抱作為打招呼的方式。
- () 8. 臺灣西部海岸大多為海岸線平直、海底平淺的沙岸。
- () 9. 有珊瑚礁的海岸，船隻航行時較容易觸礁而發生船難。
- () 10. 新竹縣 新埔鎮的農民會利用東北季風，將柿子風乾成柿餅。
- () 5. 在同一緯度上，高山的四季氣溫與平地相較，下列敘述何者正確？
①高山氣溫較高 ②高山氣溫較低
③高山與平地氣溫一樣 ④無法相比。
- () 6. 下列哪個地方因為氣候溫暖、海水清澈，適合珊瑚生長，而有珊瑚礁海岸？ ①恆春 ②基隆 ③花蓮 ④臺中。
- () 7. 如果你被別人勒索，下列哪一個答案是正確的處理方法？ ①隱忍不說 ②再向別的同儕勒索，以免吃虧 ③告訴父母、老師或報警，請求處理 ④邀同儕設法報復。
- () 8. 法律與我們的生活息息相關。下列敘述何者錯誤？ ①每個人對於法律都應有基本的認識，即使是小學生也不例外 ②不知道法律的規定，即使做錯事也不算犯法 ③子女做錯事，父母因未盡監督之責，所以也有責任 ④偷竊他人財物是一種犯罪的行為。
- () 9. 國華家鄉有一條河川，大雨過後，流量變大；好幾天不下雨，流量變小，請問這個現象符合臺灣河川的哪一個特性？ ①長度短 ②坡度陡 ③流速急 ④季節流量變化大。
- () 10. 有關臺灣氣候的敘述，下列何者錯誤？ ①颱風多發生於夏、秋間 ②夏天常吹西南季風 ③基隆的年雨量比高雄多 ④春季常吹東北季風。

二、選擇題：(每題 2 分，共 20 分)

- () 1. 下列何者是臺灣與菲律賓之間相隔的海域？ ①臺灣海峽 ②太平洋 ③南海 ④巴士海峽。
- () 2. 下面哪一個離島距離臺灣最遠？ ①龜山島 ②琉球嶼 ③綠島 ④南沙群島。
- () 3. 下列何者不是造成基隆和高雄兩地氣候差異的原因？ ①地形 ②緯度 ③季風 ④人口。
- () 4. 「現在每天的氣溫都高的嚇人，偶爾吹來一陣西南季風，風吹來的依然是熱氣，只有午後的一場驟雨過後，才能稍解暑氣。」由上述，可知描述的是何種季節？ ①春 ②夏 ③秋 ④冬。

三、題組題：(每個答案1分，共5分)

1. 臺灣主要的地形型態主要可成五大類，分別是：山地、台地、丘陵、平原及盆地，請依其地理特徵來判斷並回答下列問題。(3分)

() (1) 臺灣島的地形以哪一種地形面積較為廣大？ ①山地 ②平原 ③盆地。

() (2) 承上題，造成此種現象主要原因是什麼？ ①板塊推擠 ②河水侵蝕 ③風化現象。

() (3) 臺北市夏季氣溫居高不下，主要是因為其為何種地形型態導致散熱不易？ ①台地 ②丘陵 ③盆地。

2. 自古以來，雅美族(達悟族)人所居住的蘭嶼，是一個風雨頻繁，並且常有颱風的火山小島，地形和氣候的限制使得雅美族(達悟族)人發展出深具特色的地下屋文化。「地下屋」指的是把房舍建築在地下，地面只露出屋頂的住屋。這種建築由於屋頂露出地面，而且正面朝向大海，不僅不會遮住視線、影響通風，更能有效抵禦強風對房子的破壞。(2分)

() (1) 蘭嶼是哪一個原住民族居住的地方？ ①阿美族 ②雅美族(達悟族) ③卑南族 ④拉阿魯哇族。

() (2) 早期蘭嶼的居民興建地下屋，主要是為了抵禦下列哪一種災害？ ①地震 ②火山爆發 ③強風 ④豪雨。

四、活用題：(每個答案1分，共11分)

1. 下列行為分別觸犯了什麼法律？請以代號填入()中。(3分)

甲、中華民國刑法強盜搶奪罪

乙、中華民國刑法恐嚇罪

丙、著作權法

() ①大勝用言語讓小奇心中產生恐懼。

() ②姿妤拷貝遊戲光碟給文君。

() ③冠明騎車搶劫路人的皮包。

2. 緯度和氣候有密切的關係，請選出正確的代號，填入下列的敘述()中。(4分)

甲、炎熱 乙、南極或北極

丙、寒冷 丁、赤道

①緯度愈高，氣候愈()，愈接近()。

②緯度愈低，氣候愈()，愈接近()。

3. 關於經緯度的說明，請選出正確的代號，填入下列()中。(4分)

甲、南半球和北半球 乙、較低緯度

丙、較高緯度 丁、東半球和西半球

①北極地區屬於()國家。

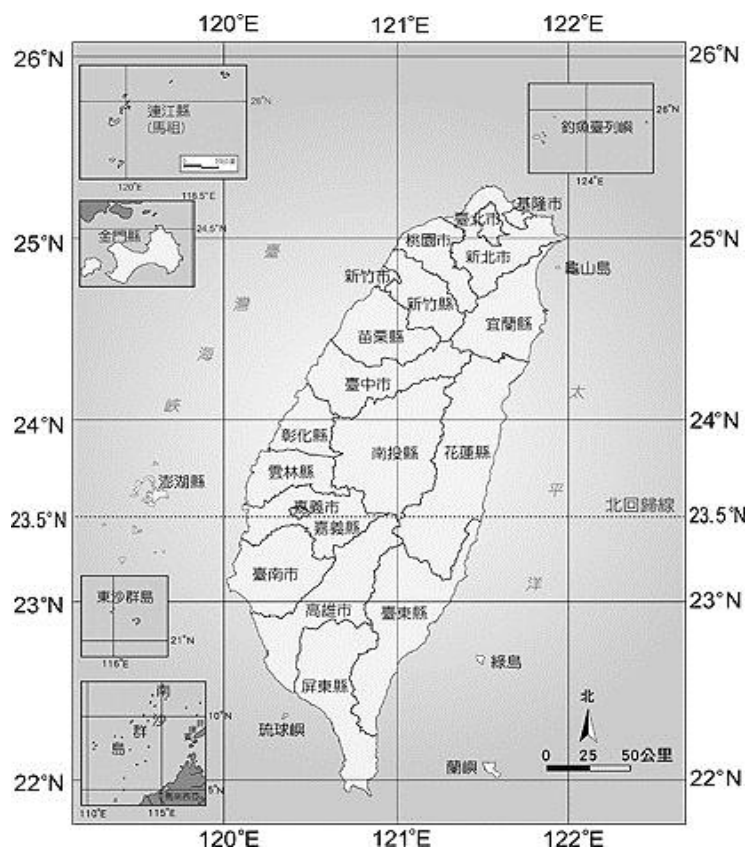
②泰國屬於()國家。

③0度經線是()的分界。

④赤道是()的分界。

五、看圖回答問題：(每個答案1分，共17分)

1. 請觀察「臺灣地區經緯度圖」，用經緯度表示雲林縣的範圍。(以整數回答)(4分)



(1) 北緯()度到()之間。

(2) 東經()度到()之間。

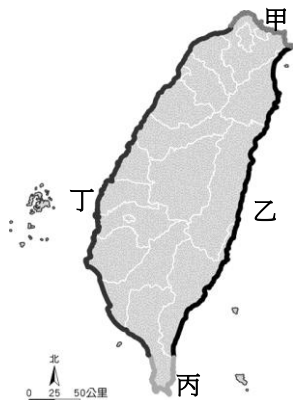
2. 請依下圖填入臺灣五大山脈名稱：(5分)



◀臺灣五大山脈分布圖

- 1.A : ()。
- 2.B : ()。
- 3.C : ()。
- 4.D : ()。
- 5.E : ()。

3. 請在參考下方地圖，將代號填入對應的海岸類型：(4分)



- ①珊瑚礁發達：()
- ②沙洲與瀉湖遍布：()
- ③曲折多灣：()
- ④斷崖連綿：()


4. 請根據以下四張圖，判斷與哪一種社會規範有關，並將代碼填入該圖上方的空格中：(4分)

- 甲、風俗習慣 乙、倫理道德
丙、宗教信仰 丁、法律

① ()



② ()



③ ()



④ ()



六、回答問題：(27分)

1. 請寫出世界可分為哪五大洲?(5分)

答：

2. 臺灣地區的氣候，南部和北部在雨量與氣溫方面，夏季與冬季各有什麼不同處？(4分)

答：

3. 臺灣周圍的離島主要是由哪兩種型態形成的？並請各列出一個島嶼名稱。(4分)

4. 你在日常生活中有做到遵守倫理道德的行為嗎？請列舉兩項例子。(4分)

答：

5. 請寫出臺灣河川的特性？並寫出兩項河川的功能。(6分)

答：

6. 請寫出臺灣東部四大河川。(4分)

答：