

澎湖縣望安鄉將軍國民小學 104 學年度第 1 學期期中定期評量

四年級社會領域試題

座號：_____ 姓名：_____

一、是非題：每格 2 分、共 24 分

- () 1. 閱讀地圖時，地圖上的圖例可有可無。
- () 2. 為防禦盜匪，先民多分散居住。
- () 3. 建築物設計騎樓的主要目的，是方便擺攤。
- () 4. 山區的居民通常選擇坡度較小，且有水源的地方居住。
- () 5. 住在河邊或海邊的人多選擇居住在容易淹水的地方。
- () 6. 小安常到臺中市旅遊，所以臺中市可以算是她的家鄉。
- () 7. 地名中有「東、西、南、北」等字，通常與地形樣貌有關。
- () 8. 澎湖群島夏天炎熱，冬天風強，降雨量少，作物較難生長。
- () 9. 基隆市 八斗子岩壁的「海國容才」刻字，顯現當地居民期待移民海外的想法。
- () 10. 屏東縣 恆春地區流傳的民謠思想起，主要在傳唱早期男女之間的愛情故事。
- () 11. 高雄舊稱「打狗」，是因為早期當地有許多野狗出沒，「打狗」是當地居民常進行的活動。
- () 12. 今臺南市 安平區早期因有重要的煤炭資源，吸引先民聚居，形成市街。

二、選擇題：每格 2 分、共 30 分

- () 1. 下列哪一個地方較適合設置風力發電廠？(①海邊②深山③高樓住宅間④商圈中心)。
- () 2. 住在臺南市 安平區的李仁發現家族族譜的封面記載「隴西」兩字，下列哪一個是「隴西」代表的意義？(①祖先的名字②祖先的發源地③祖先開墾家鄉的方向④祖先開發家鄉的心情)。
- () 3. 下列哪一個較可能是促使城鎮規模擴大的原因？(①人口外移②地形平坦③房價低④生產活動沒落)。
- () 4. 下列哪一個可能是先民聚集居住的原因？(①採集天然資源②防禦盜匪③分享水資源④以上選項都有可能)。
- () 5. 下列哪一個是諸羅山改名為嘉義的原因？(①當地居民喜歡做善事②當地居民發起推翻清廷的運動③當地首長輪替④清皇帝嘉勉當地居民守城義行)。
- () 6. 下列哪一項不屬於三鐵共構車站中的項目？(①捷運②臺鐵③鐵馬④高鐵)。
- () 7. 先民為解決農耕水源不足的問題，採取下列哪一種做法？(①四處買水②引用自來水③修築水圳④興建水塔)。
- () 8. 下列哪一個是近年來水生動物資源逐漸枯竭的主要原因？(①水生動物繁殖過量②水生動物停止產卵③漁民過度捕撈水產④漁民私自放養水產)。
- () 9. 從下列哪一項較無法了解先民開發家鄉的心情？(①民謠②傳說③早期詩歌④現代流行樂)。
- () 10. 從下列哪一張地圖可以清楚看到家鄉地表的起伏和山脈、河流的分布情形？(①產業地圖②行政區域圖③地形圖④觀光地圖)。
- () 11. 下列有關氣候的敘述哪一項是錯誤的？(①靠近海邊的地方風力較強②山區的氣溫較平地低③夏天多吹西南風，冬天多吹東北風④所有地方的降雨量都相同)。
- () 12. 下列哪一個是新竹市北區生產優質米粉的條件？(①人口多②交通設施完善③終年低溫④陽光和風力充足)。
- () 13. 澎湖地區的居民為因應強風，採取下列哪一種建築方式？(①廣設庭院②增建梁柱③加大門框④縮小窗戶)。
- () 14. 下列哪一個是花蓮縣鳳林鎮近年來增加了許多民宿的主要原因？(①當地居民找不到工作②當地空屋過多③林田山林業文化園區開放④政府規定居民經營民宿)。
- () 15. 下列哪一種資料無法從「資源分布圖」中獲知？(①各鄉鎮市區的位置②各鄉鎮市區擁有的資源種類③各種資源的分布情形④各鄉鎮市區首長的姓名)。

三、連連看：每格2分、共16分

1. 下列地名的由來分別和哪一種因素有關？

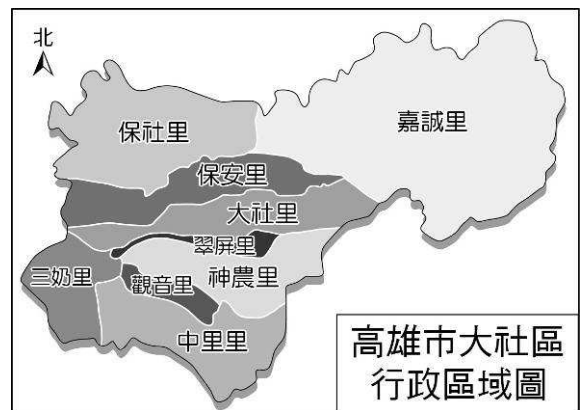
- ①恆春。
- ②深坑。
- ③臺中。
- ④五股。
- ⑤竹山。
- ⑥新埤。
- ⑦霧社。
- ⑧新營。

- ㄅ. 地理方位
- ㄆ. 地形樣貌
- ㄇ. 當地氣候
- ㄉ. 早期灌溉設施
- ㄊ. 當地常見植物
- ㄊ. 曾有軍隊駐紮
- ㄋ. 早期土地開發資本
- ㄌ. 曾為原住民部落

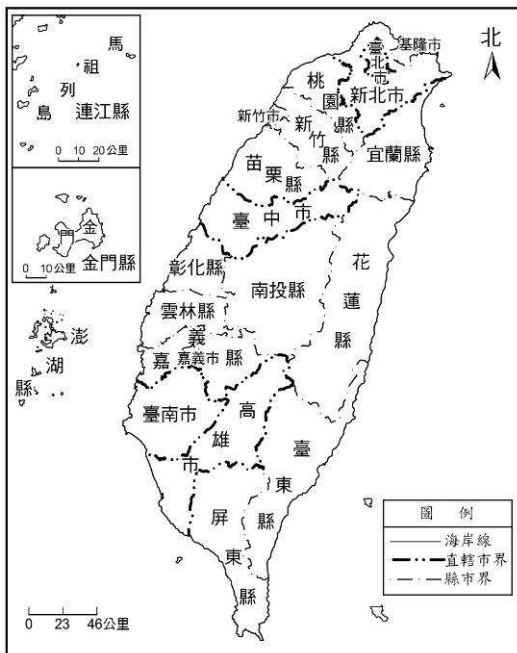
四、活用題：共30分

1. 根據左圖回答問題，敘述正確的在□裡打✓：(4分)

- ①上圖缺少了哪一項地圖要素？
 ㄅ. 比例尺。 ㄆ. 地圖名稱。
- ②下列哪一里與保社里相鄰？
 ㄅ. 神農里。 ㄆ. 嘉誠里。
- ③中里里位於大社里哪一個位置？
 ㄅ. 南部。 ㄆ. 東部。
- ④哪一里的區域範圍較大？
 ㄅ. 嘉誠里。 ㄆ. 翠屏里。



2. 看圖回答問題：




- ①哪一個縣市與屏東縣相鄰？(4分)
 答：()
- ②上列地圖少了哪一項地圖要素？(2分)
 答：()

3. 依據題目回答問題，將代號填入以下所有空格裡：(共10分)

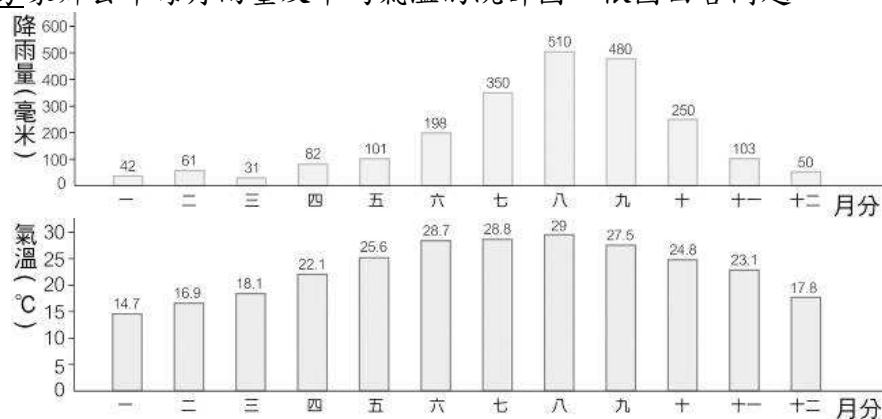
ㄅ. 平地 ㄆ. 山區 ㄇ. 河邊或海邊

(1) 下圖各屬於哪一個地區的生活景象？



- (2) 哪一個地區具「地勢變化較大，土地受地形限制，發展較少」的特徵？()
- (3) 哪一個地區的土地被用以耕作或設置工廠，人口密集，交通設施完善？()
- (4) 哪一個地區建有漁船停泊區？()
- (5) 哪一個地區引水養殖水產，以捕撈為生的居民較多？()

4. 下圖是小芳家鄉去年每月雨量及平均氣溫的統計圖，依圖回答問題：



(1)請問此地的的降雨最多的是哪一個月？降雨量是多少？（2分）

(2)請問此地最高溫的月份是哪一個月？是幾度C呢？（2分）

5. 請寫出一項居民會因為不同季節而有不同的生活方式或發展出不同的活動，請舉一個實際的例子。（2分）

6. 城鎮的開發與建設會讓社會更加現代化，更進一步使得我們的生活更加方便與舒適，可是為什麼現在政府還是依然花費許多資源在「保留傳統文化」或者是「鄉村特色」呢？請用完整句子告訴老師你的想法。（4分）

四、加分題：共5分

◆ 老師曾經在社會課課堂上與大家一起討論過將軍的特色，按照你對自己家鄉（將軍）的了解，你覺得我們這個地方可以怎樣發展，或者是我們該怎麼樣做，才能讓家鄉的特色更加被大家看見，請詳細說出你的想法，或是告訴老師我們該怎麼做。

