

澎湖縣將軍國民小學 103 學年度第 1 學期第三次定期評量

四年級社會領域試題 座號：_____ 姓名：_____

家長請簽章：			
社會領域評量分數分布統計表			
分數	人數	分數	人數
90-100 分		60-69 分	
80-89 分		60 分以下	
70-79 分			

一、是非題【30分；每題2分】

1. () 將軍村永安宮廟會的歌仔戲團表演，是保存傳統民俗藝術的方法之一。
2. () 「兒童節」是國家社會為了關懷兒童所定的節日。
3. () 隨著時代的進步，我們應該捨棄傳統的文化，不再理會。
4. () 只有使用農曆的漢人才有自己的節慶，原住民並沒有屬於自己的祭典活動。
5. () 各行各業大多有屬於自己的節日，如「行憲紀念日」就是屬於警察的節日。
6. () 澎湖的達悟族，每年都會舉辦一年一度的土魷魚祭來慶祝一年來的豐收。
7. () 沒有圖框的地圖，可以利用地圖上的方向標找到方向。
8. () 母親節和父親節的訂定，是為了表達對父母的敬意及感謝親恩。
9. () 我們可以從地圖上的比例尺來判斷出將軍國小到光正碼頭的實際距離。

10. () 中元節的放水燈、祭孤魂，是一個普渡亡靈、富有人情味的日子。
11. () 現代的社會大多是按照農曆來安排工作和休閒的。
12. () 我們應該保存優良的傳統習俗，使家鄉文化繼續傳承。
13. () 苗栗縣的「客家桐花祭」，就是將文化活動融入傳統產業的例子。
14. () 我們應該要尊重社會上各行各業的人，在他們分工合作下，才能讓我們的生活更美好。
15. () 農曆春節時，家家戶戶大多會在除夕夜吃年夜飯、發紅包、說好話，希望有個好新年。

二、選擇題【30分；每題2分】







1. () 我們應該以怎樣的態度來看待家鄉的文化？
 - ① 傳統就是過時
 - ② 保存優良傳統
 - ③ 死守、不改變傳統文化
 - ④ 不予理會。
2. () 下列哪一項不是地圖中常被用來作為圖例符號的景物？
 - ① 重要的建築物
 - ② 河川
 - ③ 自己的住家
 - ④ 道路。



3. () 下列哪一項不是中元節的傳統活動？
 ① 掃墓祭祖
 ② 放水燈
 ③ 搶孤
 ④ 普渡。
4. () 下列哪一個節日，可以幫助我們了解國家發展的歷史與重大事件？
 ① 清明節
 ② 行憲紀念日
 ③ 端午節
 ④ 母親節。
5. () 下列哪一項不屬於原住民的傳統活動？
 ① 豐年祭
 ② 大獵祭
 ③ 飛魚祭
 ④ 中元節。
6. () 家嘉想要找到學校圖書室的所在位置，她閱讀學校地圖時，應該特別注意下列哪一項訊息？
 ① 圖例
 ② 地圖顏色
 ③ 比例尺
 ④ 圖名。
7. () 下列哪一個節日，不是現代才有的節日？
 ① 教師節
 ② 勞動節
 ③ 元宵節
 ④ 律師節。
8. () 下列哪一個節日，受到外來文化的影響？
 ① 清明節
 ② 元宵節
 ③ 中元節
 ④ 耶誕節。
9. () 下列哪一項是保存家鄉傳統文化的方法？
 ① 將老街全面拆除
 ② 興建化學工廠
 ③ 排斥與現代生活做良好的結合
 ④ 傳承傳統技藝。
10. () 透過傳統的節慶活動，可以體會先民的什麼精神？
 ① 敬天
 ② 惜福
 ③ 惜物
 ④ 以上皆是。
11. () 關於比例尺的敘述，下列哪一項錯誤？
 ① 了解地圖比實際情形縮小幾倍
 ② 可以了解自己的目的地的門牌號碼
 ③ 比例尺符號通常用線段的長度來表示實際距離
 ④ 計算地圖中各地點間的實際距離。
12. () 春節哪一項活動有「除舊布新」的意義？
 ① 吃湯圓
 ② 祭拜祖先
 ③ 拜訪親朋好友
 ④ 貼春聯。
13. () 在沒有圖框的地圖中，想要了解地圖的方向，應該找尋哪一個線索？
 ① 比例尺
 ② 圖例
 ③ 方向標
 ④ 圖名。
14. () 下列哪個地方，結合了阿美族的豐年祭、環鎮自行車道及親水公園，帶動當地的文化觀光活動？
 ① 臺東縣 關山鎮
 ② 屏東縣 霧臺鄉
 ③ 苗栗縣 三義鄉
 ④ 臺南市 白河區。

15. () 阿銘想到澎湖旅遊，他攜帶下列哪一份地圖最有幫助？
- ① 世界地圖
 - ② 東臺灣旅遊地圖
 - ③ 澎湖旅遊地圖
 - ④ 臺灣航空照片圖。

三、連連看【12分；每小題2分】

宜靜在多啦a夢提供的藏寶地圖上看到這些圖例，請你幫助她找出它們最可能代表的地點。

- | | |
|---|--------|
| (1)  | • ①橋樑 |
| (2)  | • ②寺廟 |
| (3)  | • ③醫院 |
| (4)  | • ④郵局 |
| (5)  | • ⑤體育場 |
| (6)  | • ⑥公園 |



四、配合題【16分；每個答案2分】

請將下列活動和傳統節慶配對，把正確代號填入適合的()中。(可複選)

- ① 貼春聯、吃年夜飯
- ② 吃粽子
- ③ 放水燈
- ④ 插艾草、喝雄黃酒
- ⑤ 賞月、吃月餅
- ⑥ 划龍舟
- ⑦ 祭拜孤魂野鬼
- ⑧ 掃墓祭祖

- | | |
|------------|-----|
| (1)端午節：() | () |
| (2)中元節：() | () |
| (3)春節：() | () |
| (4)中秋節：() | () |
| (5)清明節：() | () |

五、簡答題【12分】

各位四年甲班的小朋友，隨著農曆新年即將到來，請你設計一張有祝福話語的祝福小卡片，送給你這一年來最想感謝的家人、老師或朋友吧！（空間不夠可在試卷背面作答）