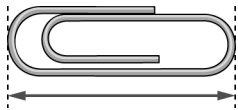


澎湖縣將軍國民小學 103 學年度第 1 學期第二次定期評量  
 二年級數學科試題 二年甲班 座號：\_\_ 姓名：\_\_\_\_\_


一、量量看看(每格 2 分，共 4 分)

(1) 量量看看，有多長？



( ) 公分

(2) 量量看看，這枝彩色筆長幾公分？



( ) 公分

二、圈圈看看(每小題 1 分，共 6 分)

(1) 柏智和振傑用自己的腳掌量教室書櫃的長，他們量出來都是 12 個腳掌長，誰的腳掌比較長？( 柏智，振傑，一樣長 )

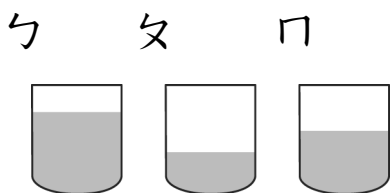
(2) 用鉛筆盒和彩色筆量書桌的長。

書桌和 32 塊鉛筆盒一樣長。  
 書桌和 24 個彩色筆一樣長。

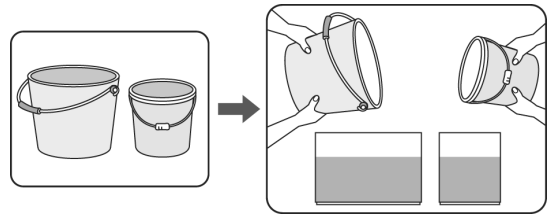
哪一樣物品比較短？

( 鉛筆盒，彩色筆 )

(3) 把下面裝最多水的容器圈起來。



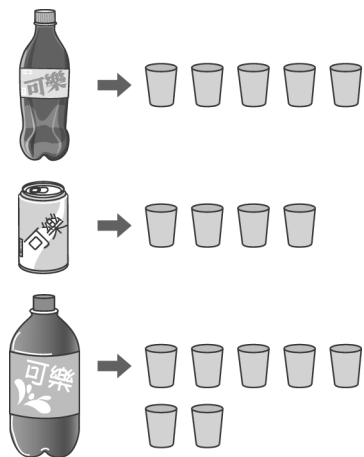
(4) 兩個不同大小的水桶裝滿水後，分別倒進不同的魚缸裡。



哪一個水桶的容量比較大？

(  ,  )

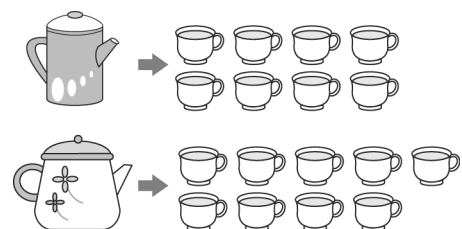
(5)





哪一瓶可樂的容量最大？

(  ,  ,  )

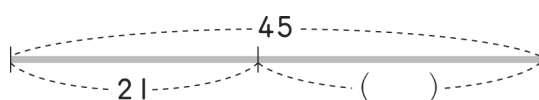
(6) 哪個水壺的容量比較大？



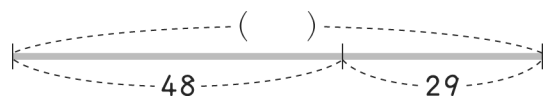
(  ,  ) 的容量比較大。

三、算算看看(每小題 2 分，共 10 分)

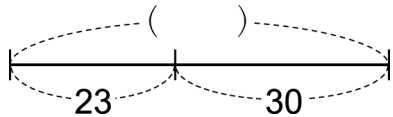
(1)  $21 + ( ) = 45$



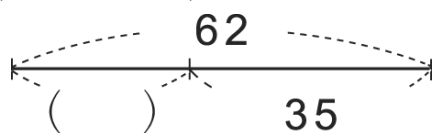
(2) ( ) - 48 = 29



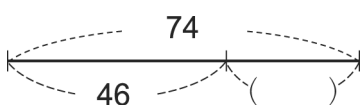
(3) ( ) - 23 = 30



(4) 62 - ( ) = 35




(5) 46 + ( ) = 74



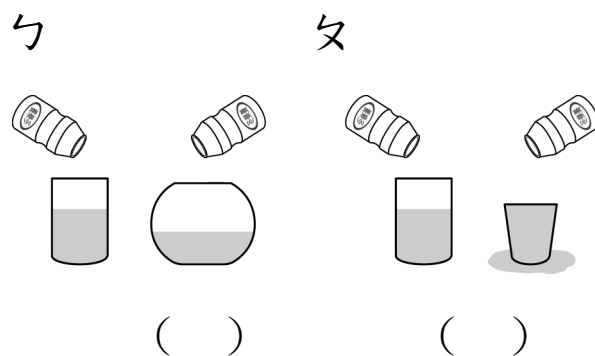
四、勾選題(共6分)

(1) 哪一杯裝的水比較多? 請打✓。(1分)




(2) 兩個容器裡的養樂多一樣多

的打✓。(1分)

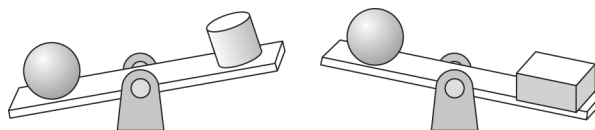


(3) 哪一個比較輕? 在( )裡

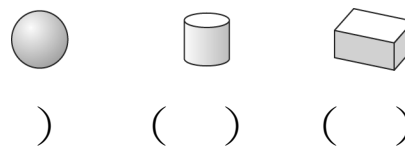
打✓。(1分)



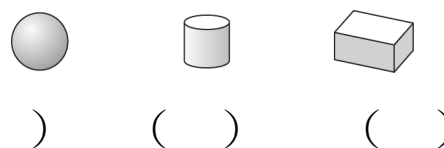
(4) 看圖比比看, 在( )裡打✓。



① 哪一個積木最重?(1分)



② 哪一個積木最輕?(1分)



(5) 哪一個容量比較少? 在□中

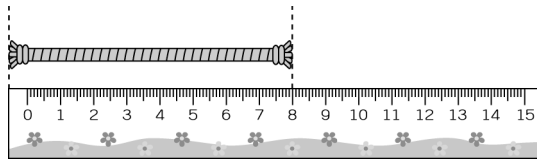
打✓。(1分)



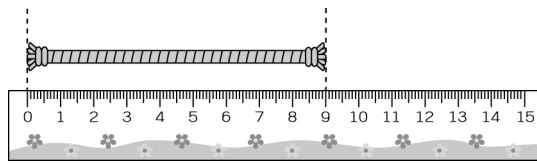
五、看圖做做看(共32分)

(1) 哪一種量法才對? 對的畫○, 錯的打✕。(2分)


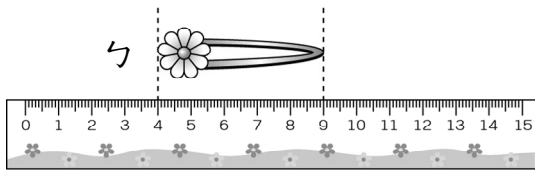
ㄅ ( ) 繩子長8公分。



ㄆ ( ) 繩子長9公分。




(2) 髮夾分別長幾公分? 填填看, 並把比較長的在□中打✓。(4分)



① □ 髮夾長 ( ) 公分

② □ 髮夾長 ( ) 公分


(3) (3分)




① 黑熊和 ( ) 隻松鼠一樣高。

② 黑熊和 ( ) 隻兔子一樣高。

③ 兔子和松鼠, 誰比較高?



(4)

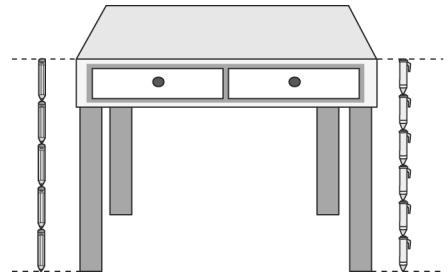


① 甲壺可以倒滿 ( ) 個紙杯。(1分)

② 乙壺可以倒滿 ( ) 個紙杯。(1分)

③ ( 甲壺, 乙壺 ) 裝的水比較少。(1分)

(5) 用不同的筆量同一張桌子的高度, 看圖回答問題。(3分)

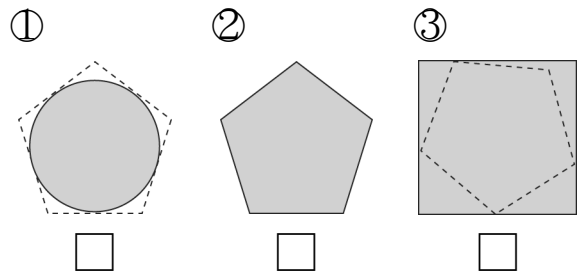


① 桌子的高和 ( ) 枝筆一樣長。

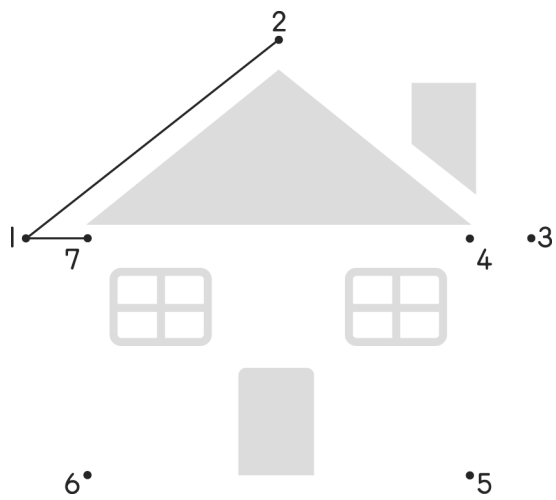
② 桌子的高和 ( ) 枝筆一樣長。

③ 用哪一枝筆量, 用的個數比較多? ( ) 比較多。

(6) 比灰色部分, 最大的面打✓, 最小的畫○。(2分)

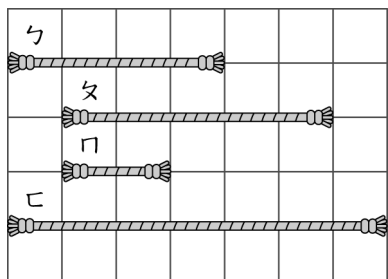


(7) 按照數字順序，畫直線把點連起來。(4分)



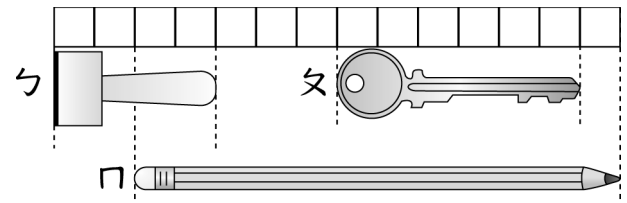
- ① 量量看，點2到點3的線段大概長( )公分。
- ② 量量看，點3到點4的線段大概長( )公分。
- ③ 量量看，點4到點5的線段大概長( )公分。
- ④ 量量看，點5到點6的線段大概長( )公分。

(8) 一格代表長1公分，數數看，繩子分別長多少公分？(4分)



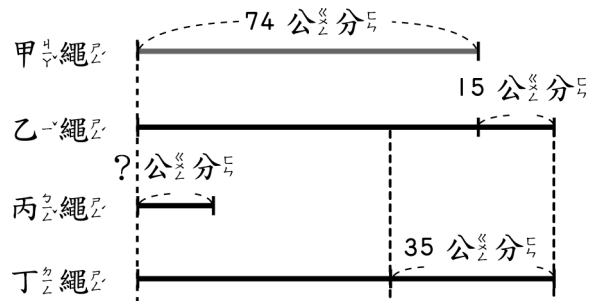
- ① ㄅ繩長( )公分。
- ② ㄆ繩長( )公分。
- ③ ㄇ繩長( )公分。
- ④ ㄊ繩長( )公分。

(9) 一個□代表長1公分，下面的物品各有多長？(3分)



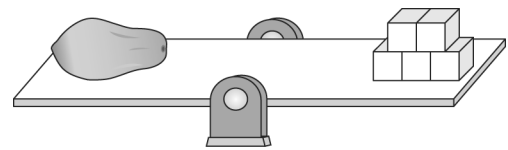
- ① ㄅ長( )公分。
- ② ㄆ長( )公分。
- ③ ㄇ長( )公分。

(10) 甲繩長74公分：(3分)



- ① 乙繩比甲繩多15公分，乙繩長( )公分。
- ② 甲繩和丙繩接起來和乙繩一樣長，丙繩長( )公分。
- ③ 丁繩的長度是乙繩長度再少35公分，丁繩長( )公分。

(11)



一顆木瓜和( )個積木一樣重。(1分)

六、對的打√，錯的打×

(共4分)

(1) 一枝鉛筆19元，元豪買了2枝，拿50元給老闆，可以找回多少元？(2分)

① $19+2=21$	② $19+19=38$
$50-21=29$	$50-38=12$
( )	( )

(2) 佳欣有30張遊戲卡，信安有22張，淳瀚有40張，佳欣和信安的遊戲卡合起來比淳瀚多幾張？(2分)

① $30-22=8$	② $30+22=52$
$8+40=48$	$52-40=12$
( )	( )

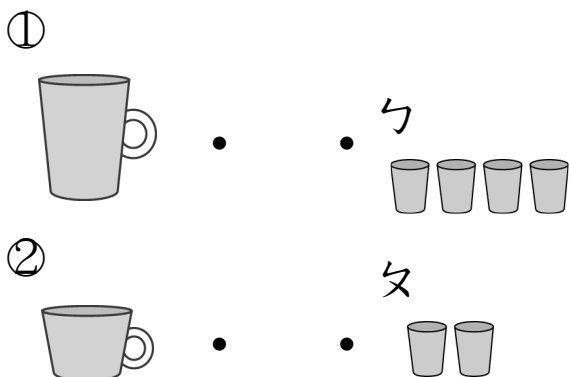
七、畫畫看看(每題2分，共4分)

(1) 用尺畫出一條長3公分的直線

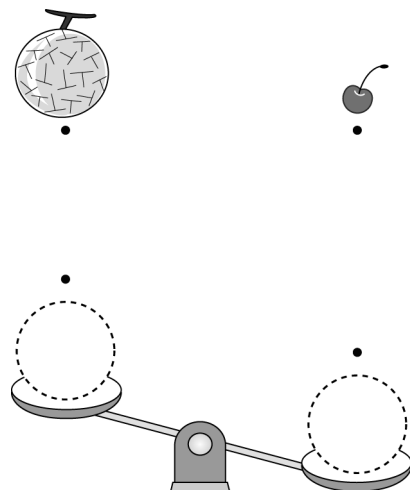
(2) 用尺畫出一條長7公分的直線

八、連連看看(共7分)

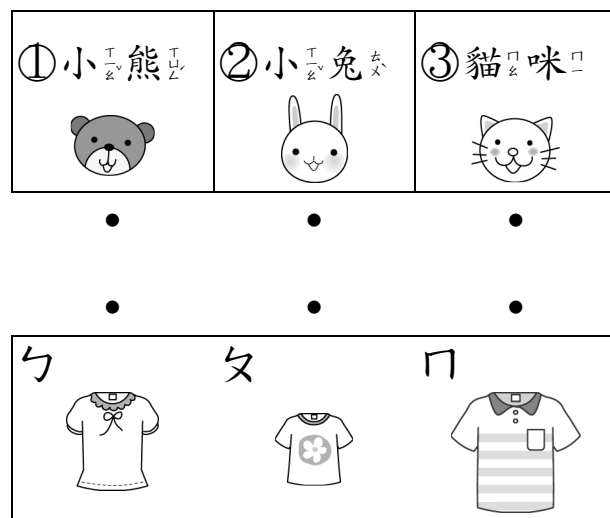
(1) 可以倒滿幾杯水？(2分)



(2) 把物品連到天平上正確的那一邊。



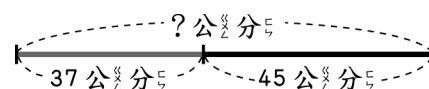
(3) 小兔的衣服比貓咪大，小熊的衣服比小兔大，貓咪的衣服最小，幫他們找到自己的衣服。



九、用算式將先算，再算記下來，算算看看。

(每題3分，共27分)

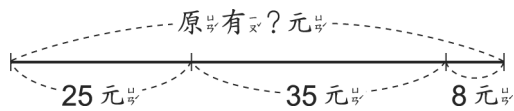
(1) 媽媽把一條繩子剪掉37公分後，剩下45公分，繩子原來的長度是幾公分？



(2) 弟弟原有 25 元，爺爺先給他 27 元，奶奶又給他 23 元後，現在弟弟有幾元？

(3) 一包洋芋片 25 元，翔翔買了 3 包，要付多少元？

(4) 詠詠買了一個 25 元的三明治和一個 35 元的雞排後，還剩下 8 元，他原有多少元？




(5) 糖果罐裡有 32 顆軟糖、20 顆牛奶糖和 14 顆巧克力糖，糖果罐裡共有多少顆糖果？


(6) 阿丫元的爺爺今年 66 歲，爸爸比爺爺少 24 歲，姑姑又比爸爸少 12 歲，阿丫元的姑姑今年幾歲？

(7) 爸爸抓了 87 隻土魷魚，昨天賣出 39 隻，今天又賣出 28 隻，還剩下幾隻土魷魚？

(8) 用 15 公分的尺量書本，量完一次後，剩下的量出來是 6 公分，書本有多長？



(9) 一條聖誕彩帶 30 公分，老師用了 3 條彩帶佈置教室，請問一共用了多少公分？



寫完之後，請再細心的檢查一次喔！

分數	人數
90~100 分	
80~89 分	
70~79 分	
60~69 分	
60 分以下	