

澎湖縣將軍國民小學 103 學年度第 1 學期第二次定期評量  
二年級生活科試題 二年甲班 座號：\_\_ 姓名：\_\_\_\_\_

一、是非題：(每題 2 分，共 28 分)

- ( ) 1. 操場上的大樹早上和中午時的影子會完全相同。
- ( ) 2. 光線從右方照射過來，我的影子也會出現在右邊。
- ( ) 3. 在陽光下活動比在教室裡容易流汗。
- ( ) 4. 物體動的時候，影子也會跟著動。
- ( ) 5. 站在陰影下，影子會消失不見。
- ( ) 6. 到圖書館去要穿著正式的衣服。
- ( ) 7. 每個人學校附近的景象會一模一樣。
- ( ) 8. 便利商店(7-11)是運動的好地方。
- ( ) 9. 發生火災時，消防員會以最快的速度趕到現場滅火。
- ( ) 10. 廟口有時候會演出歌仔戲。
- ( ) 11. 住在海邊的人，住家附近會有很多高樓大廈。
- ( ) 12. 圖書館的職員在派出所上班。
- ( ) 13. 不同的學校附近，有不同的景觀和居民。
- ( ) 14. 將軍島上的居民要加油時，要到將軍島上的加油站去。

分數	人數
90~100 分	
80~89 分	
70~79 分	
60~69 分	
60 分以下	

二、選擇題：(每題 2 分，共 46 分)

- ( ) 1. 在太陽下活動時，應該注意什麼？  
 ①直接看著太陽  
 ②穿厚外套防晒  
 ③做好防晒工作  
 ④晒越久越好。
- ( ) 2. 什麼時候的影子最清楚？  
 ①晴天  
 ②陰天  
 ③雨天  
 ④颱風天。
- ( ) 3. 玩影子遊戲前，要注意什麼事？  
 ①鞋帶有沒有綁好  
 ②眼睛不可以直接看太陽  
 ③跟同學討論好遊戲規則  
 ④以上皆是。
- ( ) 4. 站在樓梯看自己的影子，影子會有什麼變化？  
 ①摺起來了  
 ②變小了  
 ③變大了  
 ④變紅了。
- ( ) 5. 物體在什麼地方下不會有影子？  
 ①陽光下  
 ②燈光下  
 ③櫃子裡  
 ④蠟燭下。

- ( ) 6. 下列哪一個可以作為光源？ ①榕樹 ②涼亭 ③電燈  
④書本。
- ( ) 7. 光源位置不動，手靠近布幕，影子會有什麼變化？ ①比較小 ②比較大 ③比較模糊 ④變不見。
- ( ) 8. 把球放在光源與布幕之間，當球越靠近光源時，影子會有什麼變化？ ①變大變模糊 ②變大變清楚 ③變小變清楚 ④變小變模糊。
- ( ) 9. 哪一項遊戲與光影有關？ ①玩手影 ②玩手偶 ③過關遊戲 ④兔子舞。
- ( ) 10. 右手比二，左手拿個大紙盤，容易做出什麼動物的影子？ ①大象 ②老鷹 ③蝸牛 ④兔子。
- ( ) 11. 哪一個地方可以讓我們借書、看書？ ①警察局 ②公園 ③圖書館 ④便利商店。
- ( ) 12. 哪一項敘述是錯誤的？ ①教堂是看病的地方 ②在圖書館可以看書 ③在菜市場可以買到水果 ④在公園可以散步、遊戲。
- ( ) 13. 警察的工作是什麼？ ①巡邏 ②抓小偷 ③指揮交通 ④以上皆是。
- ( ) 14. 奶奶早上想運動，到哪裡最適合？ ①公園 ②教堂 ③加油站 ④圖書館。
- ( ) 15. 誰會為我們住家環境巡邏，讓我們過安全的生活？ ①郵差 ②醫生 ③警察 ④圖書館員。
- ( ) 16. 下列哪一個人會在你生病的時候幫你治療？ ①醫生 ②消防人員 ③警察 ④導護志工。
- ( ) 17. 巧虎家附近有好多高樓大廈，他可能住在哪邊？ ①海邊 ②都市 ③農村 ④山上。
- ( ) 18. 住家附近哪個地方的服務是免費的？ ①圖書館借書 ②麵包店賣麵包 ③診所看病 ④郵局寄信。
- ( ) 19. 哪一個不是將軍村會看到的景象？ ①有很多高樓大廈 ②大大小小的寺廟 ③甘蔗田 ④一間又一間的便利商店。

( ) 20. 怎麼做會破壞住家環境環境的美觀？ ①在電線桿上貼宣傳單 ②種植花草 ③遛狗時隨手清狗便 ④垃圾不落地。

( ) 21. 下面哪個做法可以讓住家環境更美好？ ①把垃圾放在路邊 ②愛惜遊樂器材 ③大聲吵架 ④對鄰居惡作劇。


( ) 22. 如果看到小妹想把路邊的花摘下來，應該怎麼做？ ①鼓勵她 ②勸告她 ③不理她 ④大聲罵她。

( ) 23. 哪一件事情是小學生可以為住家環境做的事？ ①幫忙抓小偷 ②修理路燈 ③不亂丟紙屑 ④修理壞掉的秋千。

三、填填看看：(共 26 分)

1. 下圖中哪些人是愛護住家環境的表現？

請在□中畫○；不是的請畫×。(10分)



2. 發揮創意一把「一二三木头人」

改成其他玩法，從下面各個小朋友的影子，猜猜看他們在玩的是哪一種遊戲？請將代號填在右下圖的□中。(5分)


(1) 一二三稻草人

(2) 一二三睡美人

(3) 一二三小矮人


(4) 一二三小超人

(5) 一二三機器人



3. 太陽出來了，在操場上的影子，哪些是正確的？

請在□中打✓，不對的請打×。(6分)


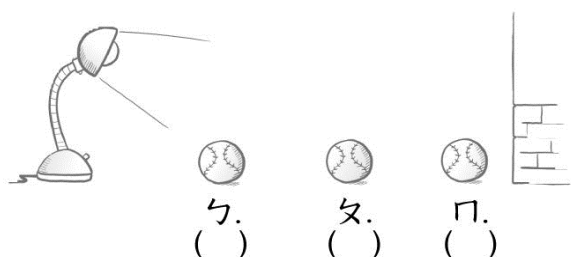


4. 連連看，右圖這些小朋友可以

做出哪些創意影子的造形？(4分)

5. 光源照射在球上，下列哪一個位置物體的影子會最大？(1分)

請在( )內打✓。



寫完之後，請再細心的檢查一次喔！

