

澎湖縣將軍國民小學 103 學年度第 1 學期第 1 次定期評量

四年級數學科試題 四年甲班 座號：__ 姓名：_____

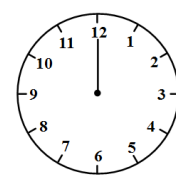
一、選擇題(共20分/每題2分)

- ()下列對於「65860132」的描述，哪一個選項正確？ ①數字「5」在十萬位，代表50萬 ②百位數字是3
③共有6個一萬 ④百萬位、百位的數字分別是「6」和「1」。
- ()看右圖，請用量角器量量看，哪一個角最大？ ①角1 ②角2 ③角3 ④一樣大。
- ()一顆蘋果12元，老師買了111顆，共要付幾元？ ①132元 ②1332元 ③13332元 ④133332元。
- ()「 648×80 」和「 8×6480 」，哪一個算式的答案比較大？ ① 648×80 ② 8×6480 ③一樣大 ④無法比較。
- ()時針從數字「3」以順時針方向轉到數字「7」，請問轉了幾度？ ① 120° ② 4° ③ 5° ④ 150° 。
- ()100000000是100的多少倍？ ①100000倍 ②1000000倍 ③10000000倍 ④100000000倍。
- ()下面哪一個角度是鈍角？ ① 25° ② 62° ③ 90° ④ 148° 。
- ()王叔叔收成了4825公斤的稻米，每6公斤包成一袋，如果要全部裝完，王叔叔必須要準備幾個袋子？
①802個 ②803個 ③804個 ④805個。
- ()四年甲班的寵物兩隻烏龜一星期必須吃掉4501公斤的飼料，平均一天吃掉幾公斤的飼料？ ①743公斤
②643公斤 ③753公斤 ④653公斤。
- () $121 \div 12$ 的商和 $625 \div 25$ 的商，合起來是多少？ ①30 ②20 ③21 ④36。



二、填填看(共30分/每格2分)

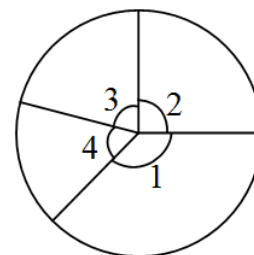
- 「四千七百零六萬八千零五十三」記作()，「4298107」讀作()。
- 39260有()個萬、()個千、()個百、()個十和()個一。
- 908顆巧克力平分給36人，每人可以得到()顆，還剩下()顆巧克力。
- 一個周角是()度，可以等於()個平角，也可以等於()個直角。
- 方校長買5桶油漆一共花了2275元，一桶油漆是()元。
- 右邊鐘面上的時針從12開始，逆時針轉6大格，時針停在()位置，一共轉()度。



三、綜合題(共9分/每格1分)

(一)右圖先用量角器量量看，再依照角度大小，填入代號由小排到大。

角() < 角() < 角() < 角()



(二)用 1、4、6、7、9 五張數字卡排出五位數，請問：

- 排出的最大的五位數是()。
- 排出的最小的五位數是()。
- 最大和最小五位數的相差多少()。

(三)下面哪一組角合起來是平角？請打勾(錯兩組以上不給分)

- ①角 1= 130° ，角 2= 50° ②角 1= 95° ，角 2= 60°
- ③角 1= 125° ，角 2= 55° ④角 1= 105° ，角 2= 70°

(三)請使用量角器，畫指定的角度(共2分/每題6分)

1. 120°

2. 45°

3. 145°

四、計算題，寫成直式(共15分/第一題3分，第2、3題2分、第4-5題要驗算每題4分)

① $548137 + 184209 - 1772$

② 2246×41

③ 8400×62

④ $470 \div 24$

驗算：

⑤ $6280 \div 30$

驗算：

五、應用題(共20分/每題4分)

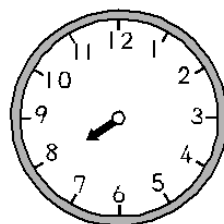
①將軍國小和馬公國小四年級參加城鄉交流的人一共有402人，一輛遊覽車最多可以坐42人，請問兩間學校最少需要幾輛遊覽車才夠坐？

②五月天樂團舉行演唱會，昨天賣出7萬1千張門票，今天賣出3萬9千張門票，兩天共賣出幾張門票？

③麗龍小吃部的員工今天包了一些水餃，每48顆裝一盒，共裝了15盒，還剩下21顆，請問員工今天共包了幾顆水餃？

④一包米賣135元，5個人合買25包米送給孤兒院，平均每人要付多少元？

⑤時針從8開始，沿逆時針方向轉到3的位置，時針共轉了幾度？



分數級距	人次
100分	人
90 ~ 99分	人
80 ~ 89分	人
70 ~ 79分	人
60 ~ 69分	人
60分以下	人

家長簽章：