

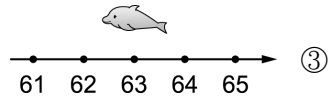
澎湖縣將軍國民小學 一0三學年度 第一學期 數學科 第一次定期評量

___年 ___班 座號：___ 姓名：_____

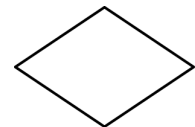
一、選出正確的答案(選擇題)(共12分/每題2分)

1. () 4992 加上 8 是多少? ① 4998 ② 4000 ③ 5000 ④ 6000。

2. () 小海豚從 63 游到 43, 是 ① 向右游了 20 格 ② 向左游了 20 格
 ③ 向右游了 20 公尺 ④ 向左游了 20 公尺。

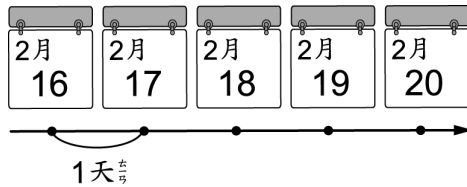


3. () 右邊的圖形中, 可以找到幾個直角? ① 4 個 ② 3 個 ③ 2 個 ④ 0 個。

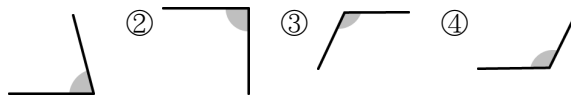


4. () 有一個圓的半徑是 8 公分, 直徑是幾公分? ① 16 公分 ② 4 公分 ③ 8 公分 ④ 64 公分。

5. () 今天是 2 月 16 日, 再過幾天是 2 月 28 日? ① 28 天 ② 16 天 ③ 13 天 ④ 12 天。

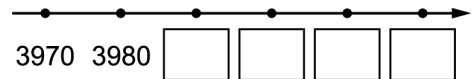


6. () 下面哪一個角是直角? ① ② ③ ④





二、填填看(共53分/除備註外, 餘每格2分)

1. 3970 加 50 是多少? → 3970 加 50 是 ()。
 (每格1分)



2. 小欣花了 2070 元買了一雙鞋子, 又花了 1500 元買一個背包, 共花了幾元?



分數級距	人次
100 分	人
90 ~ 99 分	人
80 ~ 89 分	人
70 ~ 79 分	人
60 ~ 69 分	人
60 分以下	人

家長簽章: _____

答: () 元

3. 照數的順序填填看。

9997 → () → 9999 → () (每格1分)

4. (1) 在數線上, 735 在 573 的右邊或左邊? () (1分)

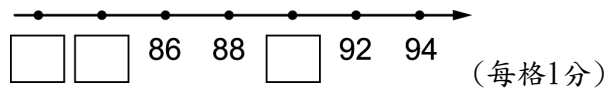
5. (2) 735 和 573, 哪一個數比較小? () (1分)

6. 有一個四位數如下位值表, 這個數比 2408 還大, 比 7408 還小, 這個數可能是多少?

請寫出2個答案。 → ()、()

千位	百位	十位	個位
?	4	0	8

7. 用2個一數，在 中填入代表點的數。



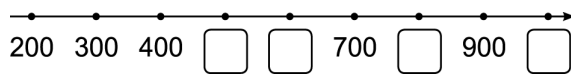
8. 8個千8個一合起來是()，讀作()。

9. 圓規兩腳張開6公分畫一個圓，這個圓的直徑是()公分。

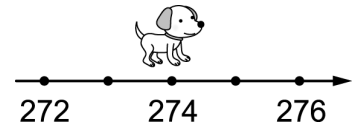
10. 7002是()個千()個百()個十()個一，讀作()。

(每格1分，最後1格2分)


11. 在 中填入代表點的數。(每格1分)



12. 小狗從274開始，向右走10格，會走到()的位置。



13. 用0、2、5、7寫出兩個四位數，數字不能重複，一個比6800大，一個比3000小。




(1) 比6800大的數是

千位	百位	十位	個位

(2) 比3000小的數是

千位	百位	十位	個位

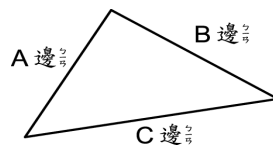
13. 右邊的圖形中，哪些地方有角？圈圈看



14. 比較長度，用圓規做做看。

哪一個邊最長？

(A邊，B邊，C邊) 最長



三、填入>、<或=(共8分/每題2分)

1. 7208 () 6995

2. 2930 () 2943

3. 3186 () 4186

4. 3509 () 3590


四、畫畫看(共15分/第1、2、3每題2分，餘每題3分)

1. 媽媽皮包裡有(3025)元，請用 1000、100、10和 1 畫出指定的數。

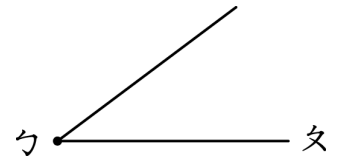
2. 下面圖形中，哪些是直角？用 來表示。



3. 在右邊的正方形裡，
畫出一個圓。



4. 以勺為頂點，勺線
為一邊，畫出一個
比下圖的角還要大的
角。



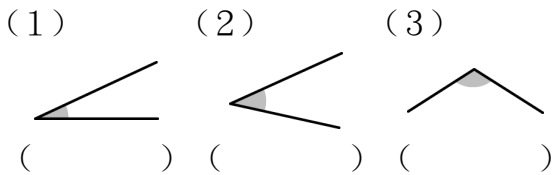
5. 用直尺畫出一個角。

6. 以下面線段為半徑，畫出一個圓。

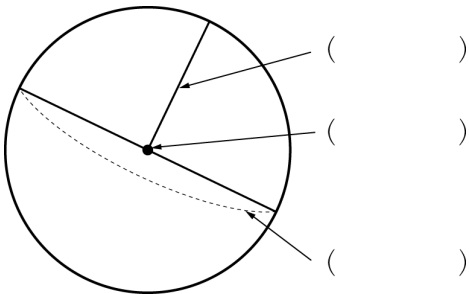


五、看圖做做看(共12分/第2、3題每題3分，餘每題2分)

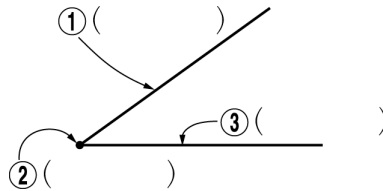
1. 用三角板的直角比比看，下面哪些角比直角大？請打√；比直角小的打×。




2. 根據下圖填填看。



3. 寫出角的各部位名稱。




4. 下面圓的半徑有多長？



半徑是 () 公分

5. 下面圓的直徑有多長？



直徑是 () 公分