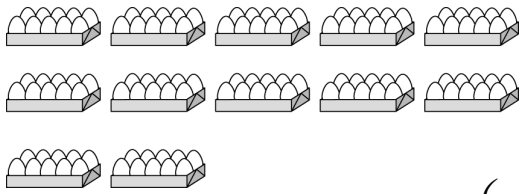


一、看圖填填看(每格 1 分，共 16 分)

1. 10 個一數，有多少少？填填看。



()

2. 數數看，有多少少？記在位值表上。

百 位	十 位	個 位

3. 數數看，有多少錢？

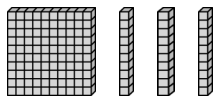


()元

4. 右邊的圖有多少少？寫寫看

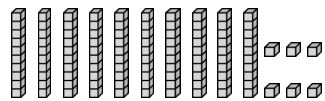
() 個百和 ()

個十是 ()。



5. 下面的積木代表哪個數？

填填看。



()

6. 123 的 2 在十位，表示 ()

7. 100 個 可以換 () 張



8. 按照由大到小的順序排出

下列三個數。



() > () > ()

9. 在 150 中，數字「5」在

() 位，表示 ()。

二、填填入 >、< 或 =

(每格 2 分，共 8 分)

1. $108 \square 180$

2. $125 \square 139$

3. $23 + 58 \square 28 + 53$

4. $63 \square 44 + 22$

三、先算減法，再用加法驗算

(每小題 3 分，直式計算 2 分、驗算 1 分，共 9 分)

1. $78 - 54 =$	驗算：
----------------	-----

2. $52 - 39 =$	驗算:
----------------	-----

3. $70 - 29 =$	驗算:
----------------	-----

四、寫出直式計算算式看
(每小題3分，共18分)

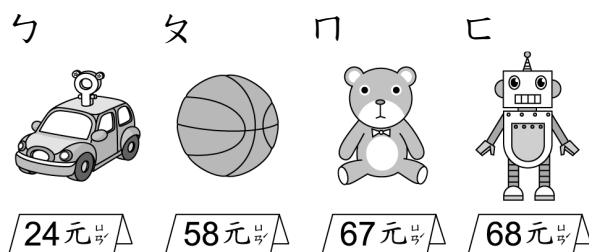
1. $82 + 13 =$	2. $33 + 26 =$
----------------	----------------

3. $61 - 38 =$	4. $116 + 8 =$
----------------	----------------

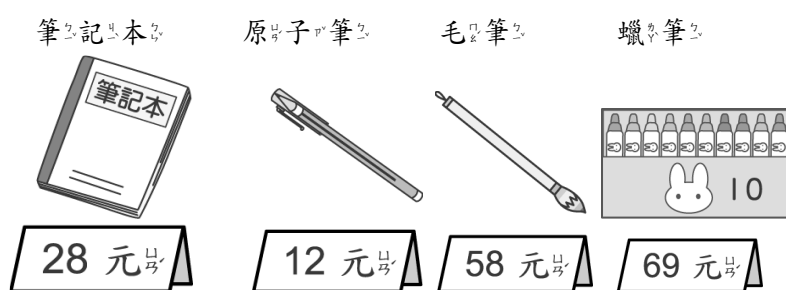
5. $9 + 37 =$	6. $92 - 37 =$
---------------	----------------

五、圈出圈看(每小題2分，共12分)

1. 老皮花了92元剛好買兩樣玩具，他買的是哪兩樣？圈出圈看。



2. 將小文具店有下列商品：



(1) 一盒蠟筆大約幾十元？

(60元, 70元, 80元)

(2) 阿寶有53元，買了一枝

原子筆後，大約剩下幾十元？

(40元, 50元, 60元)

(3) 一盒蠟筆比一本筆記本

大約貴幾十元？

(20元, 30元, 40元)

3. 一輛大快艇可以坐39人，

一輛小快艇可以坐18人，

大、小快艇各一輛，大約

一共可以坐幾十人？

(40人, 50人, 60人)

4. 校長買了一本 187 元的書

，怎麼付錢才會剛好？



六、連連看(每個答案 1 分，共 8 分)

1.

① 160	•	• ㄅ 一百零六
② 106	•	• ㄆ 一百一十六
③ 116	•	• ㄏ 一百六十六

2.

① 119	•	
② 150	•	• ㄅ 比 120 大
③ 123	•	
④ 102	•	• ㄆ 比 120 小
⑤ 200	•	

七、用 100、⑩ 和 ① 畫畫看，再比較多的在 中打 \checkmark ：

(畫錢幣部分各 1 分，比較部份各 1 分，共 8 分)

1.

167		176	
-----	--	-----	--

2.

121		119	
-----	--	-----	--

八、做做看，把橫式、直式和答案記下來

(每題 3 分共 21 分)

1. 喜羊羊有 50 元，想買一盒彩色筆，但是不夠 49 元，一盒彩色筆多少元？

橫式：

直式：

答：

2. 南海之星上原有 39 位乘客

，又上來 25 位，現在船上共有幾位乘客？

橫式：

直式：

答：

3. 雜貨店裡的架子上有
 雞蛋和鴨蛋，雞蛋有 90
 顆，雞蛋比鴨蛋多 9 顆，
 鴨蛋有幾顆？

橫式：

直式：

答：

4. 30 張獎勵卡可以換一個小
 禮物，懶羊羊有 51 張獎勵
 卡，換了一個小禮物後，
 還剩下幾張獎勵卡？

橫式：

直式：

答：

5. 美羊羊有 62 元，買了早餐後
 ，還剩下 18 元，美羊羊買早餐
 花了多少元？

橫式：

直式：

答：

6. 爸爸早上釣了 12 條魚，晚
 上比早上多釣了 15 條，晚
 上釣了幾條魚？

橫式：

直式：

答：

分數	人數
90~100 分	
80~89 分	
70~79 分	
60~69 分	
60 分以下	

寫完之後，請再
 細心的檢查一次！

