

澎湖縣將軍國民小學 102 學年度第 1 學期第一次定期評量

四年級社會科試題 四年甲班 座號：___ 姓名：_____

一、是非題：(每題2分，共20分)

1. () 居住在旱作地區的農民，由於照顧作物的時間較短，所以居民可以分散居住，僅靠自己的力量就可以完成農事。
2. () 先民因為無法避免生老病死，而興建廟宇，以祭拜神明，祈求平安，獲得心靈的安慰。
3. () 交通、地形、產業型態等，都是影響家鄉人口分布及居住型態的原因。
4. () 早期家鄉先民使用的材料大多就地取材，例如：竹子、木頭、稻草、磚瓦等。
5. () 稻田旁邊的財神廟，是保佑農夫作物收成的神明。
6. () 從事養殖漁業的居民為彼此方便照顧，大多分散居住。
7. () 曉君的家鄉氣候夏天熱，冬天冷，她的家鄉可能位在臺灣北部。
8. () 三合院內房間的分配是依照輩分安排的，輩分愈低，居住愈外層。
9. () 臺灣各地的老街建築，雖然興建時間不同，但呈現的風貌卻相同。
10. () 老街都是純做生意買賣的商店街，跟住宅區是分開的。

二、選擇題：(每題2分，共40分)

1. () 高樓林立、人口眾多，這是形容哪一類居住型態的景象？
(1) 丘陵地區 (2) 山地

- 地區 (3) 海岸地區 (4) 都市地區。
2. () 有關三合院的敘述，下列何者錯誤？ (1) 是傳統農村社會理想的生活空間 (2) 正廳的地位最崇高 (3) 廁所通常位於長輩房間旁邊 (4) 隨著社會的發展，三合院逐漸被改建成公寓大樓。
3. () 小雯的爺爺以栽種水蜜桃維生，請問他可能的居住地點在哪裡？ (1) 盆地地區 (2) 山地地區 (3) 平原地區 (4) 海岸地區。
4. () 為了使老街呈現新的風貌，家鄉居民可以採用的方法有哪些？ 甲. 改建與更新老街上的建築物 乙. 規畫商店街，販賣傳統手工產品等 丙. 刻意保持原有建築風貌 丁. 全部拆除重建成商業大樓 (1) 甲乙丙 (2) 乙丙丁 (3) 甲乙丁 (4) 甲乙丙丁。
5. () 關於屏東縣 霧臺鄉的地形特色，下列敘述何者正確？
(1) 屬地勢高聳的山地
(2) 屬地面起伏不平的丘陵
(3) 屬平坦的平原 (4) 屬四周高、中間低平的盆地。
6. () 對於家鄉老街，下列敘述何者正確？ (1) 老街就是現代化的街道 (2) 老街是家鄉重要的文化資產 (3) 臺灣已經沒有老街了 (4) 老街

- 過去是工廠。
7. () 就家鄉建築而言，下列何者不是家鄉的古老建築物？ (1) 臺北101大樓 (2) 林安泰古厝 (3) 板橋林家花園 (4) 三峽老街。
8. () 下列敘述，哪一個錯誤？ (1) 臺東縣海端鄉利稻村是山地原住民的部落，居民多聚集而居 (2) 人口的分布，隨著各地產業有別，而有不同 (3) 水稻農業地區的居民，容易形成集中的居住型態 (4) 家鄉各地的居住型態各有不同。
9. () 三合院是早期家鄉最理想的生活空間。下列哪一項不是當時三合院反映出的生活特色？ (1) 講究自然和諧的生活 (2) 力求自給自足 (3) 先民大多從事工商業 (4) 重視長幼有序的精神。
10. () 黃奶奶到南山福德宮拜拜時，發現燒紙錢用的金爐已經被關閉。請問金爐關閉的主要原因是什麼？ (1) 廟方即將搬遷，暫停提供信徒拜拜 (2) 用金爐燒金紙是對神明不敬的行為 (3) 金爐只限男性才能使用 (4) 廟方響應環保，請信徒不要再燃燒金紙。
11. () 下列何者不是老街的特色？ (1) 大多位在人潮較少的地方 (2) 多設有騎樓供行人遮陽避雨 (3) 多數房屋前面是店面，後面為住家 (4) 居民在此進行交易買賣的活動。
12. () 關於盆地的敘述，下列何者正確？ (1) 地面起伏不平 (2) 四周高而中間低平 (3) 地勢稍高且中央廣闊平坦，四周以陡坡和低地相接 (4) 平坦寬廣且地勢低。
13. () 下列哪一條河川位於臺灣南部？ (1) 高屏溪 (2) 頭前溪 (3) 淡水河 (4) 花蓮溪。
14. () 小英的爸爸很重視孩子的教育問題，選擇居住地時他會優先考慮哪一個因素？ (1) 就業機會 (2) 醫療機構 (3) 鄰近學校、圖書館 (4) 交通便利。
15. () 家鄉先民普遍信仰的土地公又稱為什麼？ (1) 媽祖 (2) 福德正神 (3) 宋江 (4) 基督。
16. () 關於臺灣南部雨量的分布情形，下列敘述何者正確？ (1) 夏季多雨，冬季少雨 (2) 夏季少雨，冬季多雨 (3) 終年多雨 (4) 終年少雨。
17. () 美如對鄉村與都市的調查，何者錯誤？ (1) 鄉村生活較悠閒，都市則較緊張 (2) 鄉村隨處可見農田、農舍，都市則是高樓大廈 (3) 鄉村空間開闊，都市空間擁擠 (4) 鄉村內各種行政機關比都市多。
18. () 下列哪一個不是先民傳統家屋的形式？ (1) 土埆厝 (2) 竹管仔厝 (3) 茅草屋 (4) 鋼筋水泥屋。

19. () 下列何者不是早期先民在三合院的外側飼養雞、鴨、豬等家畜的原因？ (1) 過年過節拜拜時宰殺 (2) 補充平常不易吃到的肉類營養 (3) 動物的糞便可以當作土壤養分的來源 (4) 當作寵物來飼養。
20. () 張叔叔逛街經過臺南市中西區的「大天后宮」，請問他可以進入裡面敬拜哪一位神明？ (1) 真主阿拉 (2) 石頭公 (3) 媽祖 (4) 耶穌。

三、連連看：(每題2分，共16分)

1. 下列廟宇的做法是屬於傳統，還是現代創新的做法？

- (1) 紙錢燒愈多愈好 ●
- (2) 結合祭典和家鄉故事 ● ●甲. 傳統做法
- (3) 發售造型新穎的平安符 ● ●乙. 現代創新做法
- (4) 民俗曲藝 ●

2. 下列描述的氣候分別代表什麼地方？

- (1) 夏熱冬冷 ●
- (2) 夏雨冬乾 ● ●甲. 臺灣南部
- (3) 四季炎熱 ● ●乙. 臺灣北部
- (4) 全年雨量均多 ●

四、看圖回答問題：(每題3分，共12分)

看圖回答問題：




上圖為三峽老街的照片，圖中哪一個地方代表的是騎樓？請以代號回答。


答：_____

1. 下面傳統建築房屋的名稱分別是什麼？


(1) _____



(2) _____



(3) _____



五、回答問題：(每題6分，共12分)

1. 家鄉廟宇裡供奉的神明最常見的有哪些？請至少列舉兩種。

2. 都市具有哪些特色？請列舉三種。