

澎湖縣將軍國民小學102學年度第1學期 第一次定期評量 二年級數學科試題

二年甲班 座號：_____ 姓名：_____

家長請簽章：

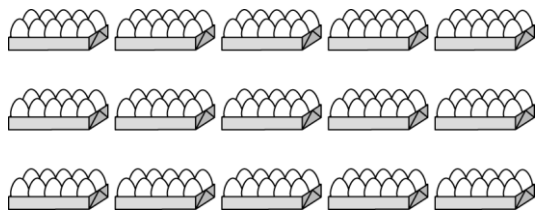
數學科段考分數分布統計表

分數	人數	分數	人數
90-100分		60-69分	
80-89分		60分	
70-79分		以下	

一、選出正確的答案(選擇題)(共6分/每格2分)

1. () 10個一數，數數看，下圖一共有

幾顆雞蛋？ ① 100顆 ② 130顆 ③ 150顆。



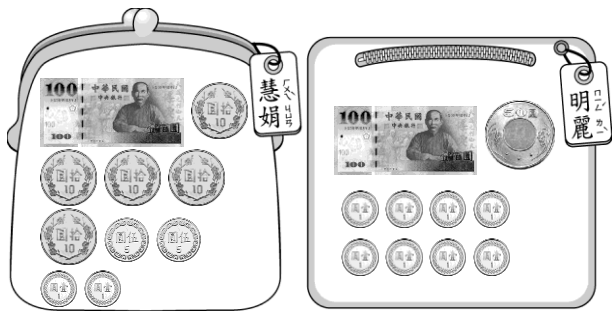
2. () 1個百、3個十和4個一合起來是

① 143 ② 144 ③ 134。

3. () 慧娟和明麗各買了一個158元的

鉛筆盒，誰付完錢後，錢包裡還有錢

？ ① 慧娟 ② 明麗 ③ 兩個都沒有。




二、填填看(共12分/1、2題每格2分，第3題每格1分)

(1) 比140多10的數是()，比140少

10的數是()。

(2) 1個百、6個十是()。

(3) 按照數的順序填填看。



三、填入>、<或=(共4分/第一題2分，二、三題各一分)

(1) $22+17+21 \square 60$

(2) $21+6 \square 29$

(3) $8+35 \square 40$

四、寫出直式算算看(共15分/每格3分)

(1) $39+24+21=()$

(2) $6+53=()$

(3) $52-27=()$

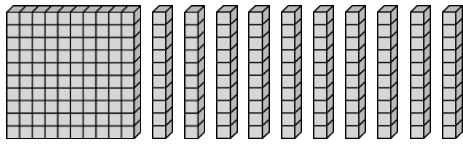
(4) $81-35=()$

(5) $60-7=()$

五、圈圈看(共9分/每格3分)

1. 看數字，圈出正確的數量。

140

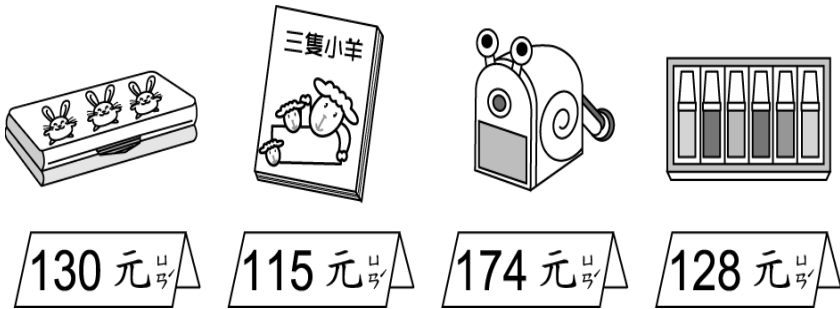


2. 一盒海苔 128 元，要怎樣付錢才會剛好好？圈圈看。

好？圈圈看。

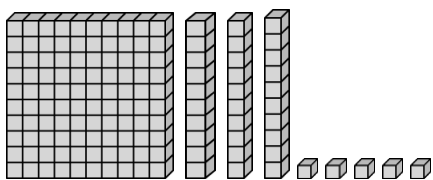


3. 皮包裡的錢可以買什麼？圈圈看。



六、看圖填填看(共22分/每格2分)

1. 有多少？填填看。

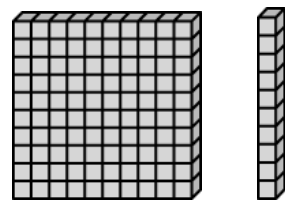


() 個百 () 個十 () 個一 是 () 。

2. 依照數量由少到多在 () 中填入 1、2、3、4。

(1) ()	(2) ()
(3) ()	(4) ()

3. 有多少？寫寫看。



() 個百 () 個十 是 () 。

七、把做法和答案記下來(共32分/每格4分)

1. 摸彩箱裡有 19 顆藍球，黃球比藍球多 5 顆，黃球有幾顆？

2. 國慶有 30 張貼紙，信安比國慶多 15 張，信安有幾張貼紙？

3. 佳臻想買一組焦糖布丁，但是她只有58元，還不夠7元，一組焦糖布丁多少元？

4. 一個便當48元，柏元買了一個便當後，還剩下35元，柏元原有多少元？

5. 佑佑有76元，買了一盒餅乾後，剩下20元，這盒餅乾多少元？

6. 智傑有43張好棒貼紙，志宇有37張，智傑比志宇多幾張好棒貼紙？

7. 嘉欣有30張貼紙，給弟弟12張後，又給妹妹3張，她還剩下幾張貼紙？

8. 雅君有49元，想買一串葡萄，不夠8元，這串葡萄要多少元？

【數學大挑戰—加分題】（第一、二題每格2分，第三題4分，共10分）

(1) 103 讀作 ()。

(2) 173，7在()位，表示()。

(3) 有30個人在排隊買冰淇淋，志宇的後面面排了14個，請問志宇在第幾個？