

澎湖縣將軍國小 101 學年度第二學期第二次定期考查 數學科試卷

班級：三年級潛能開發班 座號： 姓名：

試卷說明：試卷範圍為「除法」、「容量」以及「時間」，共有六面六大題，總分 100 分。請依據題目說明，寫下答案。

本試卷經調整，與原班考卷不同。

一、填填看看，每一小題 2 分，共 12 分。

- ① 1 公升 = () 毫升。
- ② 1000c.c = () 毫升。
- ③ 公升的英文記做 ()。
- ④ 1 天有 () 小時。
- ⑤ 1 小時 = () 分鐘。
- ⑥ 1 分鐘 = () 秒。

二、計算題：請寫出計算過程，每題 3 分，共 30 分。

除法，用直式算算看看

① $3694 \div 9 =$

② $5082 \div 5 =$

③ $2358 \div 4 =$

④ $4270 \div 7 =$

時間、時制與容量的換算

① 63 分鐘 = () 小時 () 分鐘

② 1 小時 29 分鐘 = () 分鐘

③ 3 分鐘 16 秒 = () 秒


④ 15 時 = () 午 () 時

⑤ 5080 毫升 = () 公升 () 毫升


⑥ 2 公升 300 毫升 = () 毫升

三、畫畫看：請塗上指定的水量，每一小題 3 分，共 12 分

① 200c.c



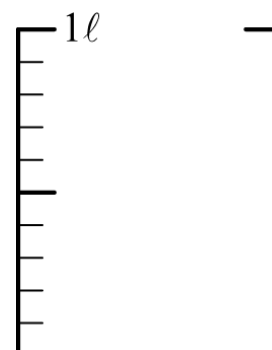
② 800 毫升



③ 600c.c

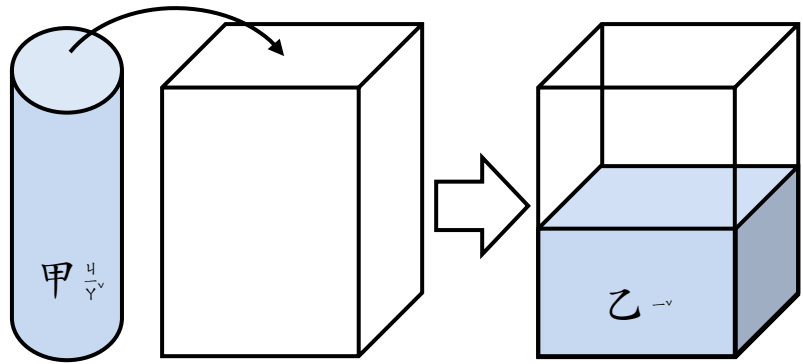


④ 1 公升




四、看圖回答問題：第 1 題 3 分，第 2 小題 4 分，共 7 分。

① 比較哪個裝的多，請打✓



甲 乙 一樣多

② 填上時間



現在時間是：()時()分

過 10 分鐘後：()時()分

五、應用題：每題 3 分，共 9 分。

① 老師買了 432 顆小蕃茄做為營養午餐的水果，要平分給全校 6 班，請問一班可以分到幾顆蕃茄？(請列出直式與橫式)

② 小宇帶了 500 元，買故事書花了 225 元，剩下的錢剛好可以買 5 枝自動鉛筆，請問一枝自動鉛筆多少元？(請列出直式與橫式)

③ 阿奕從下午 4 時 5 分開始打籃球，他告訴媽媽只打 30 分鐘，請問他可以打到幾時幾分？(請列出直式與橫式)

六、活_レ用_ル題_チ：請_ク依_テ據_ヒ題_チ目_ク及_ヒ表_ク格_セ回_ク答_カ問_ス題_チ，每_レ題_チ 10 分_ニ，
共_ク 30 分_ニ。

① 請_ク依_テ據_ヒ下_ニ面_ノ的_カ電_カ視_テ節_セ目_ク表_ク回_ク答_カ問_ス題_チ。

平 _タ 安 _タ 臺 _カ	幸 _シ 福 _ク 臺 _カ
15:00 ~ 16:00 動 _カ 物 _カ 世 _セ 界 _カ	15:30 ~ 16:10 卡 _カ 通 _カ 王 _キ 國 _ク
16:00 ~ 17:20 旅 _カ 遊 _ウ 走 _ウ 透 _ウ 透 _ウ	16:10 ~ 17:00 運 _ウ 動 _カ 快 _ク 報 _カ
17:20 ~ 18:00 美 _ク 味 _ク 特 _カ 派 _カ 員 _カ	17:00 ~ 18:20 輕 _ク 鬆 _ク 做 _ウ 主 _シ 廚 _カ
18:00 ~ 19:00 健 _ク 康 _ク 你 _ニ 我 _ニ 他 _ニ	18:20 ~ 19:00 世 _セ 界 _カ 真 _シ 奇 _ク 妙 _ク
19:00 ~ 20:00 全 _ク 球 _ク 新 _シ 聞 _カ	19:00 ~ 20:00 晚 _キ 安 _ク 新 _シ 聞 _カ

ㄅ. 哥哥下_ニ午_ノ 4 點_ニ 30 分_ニ放_ク學_シ到_キ家_ニ，請_ク問_ス他_カ是_レ否_ク可_レ以_テ一_ニ觀_ル賞_メ到_ク卡_カ通_カ王_キ國_ク？ ()

ㄆ. 「美_ク味_ク特_カ派_カ員_カ」是_レ在_レ () 臺_カ播_ク放_ク，播_ク出_ル時_ノ間_ハ是_レ下_ニ午_ノ () 時_ノ () 分_ニ到_キ下_ニ午_ノ () 時_ノ () 分_ニ。

ㄏ. 小奕下_ニ午_ノ 6 點_ニ打_ク開_ク電_カ視_テ，平_タ安_タ臺_カ播_ク的_カ是_レ ()；幸_シ福_ク臺_カ播_ク的_カ是_レ ()。

ㄏ. 媽_カ媽_カ想_メ看_ル的_カ「輕_ク鬆_ク做_ウ主_シ廚_カ」，在_レ下_ニ午_ノ () 時_ノ () 臺_カ播_ク出_ル。

② 下表是三年級的課表，請依據課表回答問題。

星期	一	二	三	四	五
節次 時間					
第 1 節 08:30~09:10	自然	社會	國語	美勞	國語
第 2 節 09:20~10:00	社會	社會	彈性課程	美勞	鄉土語文
第 3 節 10:20~11:00	彈性課程	數學	英語	數學	自然
第 4 節 11:10~11:50	彈性課程	國語	綜合活動	國語	健康
午 休 12:35~13:15	午 休				
第 5 節 13:20~14:00	綜合活動	綜合活動		音樂	資訊
第 6 節 14:10~14:50	體育	國語		體育	自然
第 7 節 15:00~15:40		數學			

ㄅ. 課程表的時間是採用()時制。

ㄆ. 每天午休的休息時間有()分鐘。

ㄇ. 第 2 節到第 3 節間的下課時間有()分鐘。

ㄏ. 星期二下午 3 點在()課。

ㄏ. 每週()課的節數最多，共有()節。

ㄏ. 每週節數最少的科目是()課、()

課、()課、()課以及資訊課。

③ 下表為運動會節目表，請依據節目表回答問題。

08:30	開幕典禮	12:00	午間休息
09:00	健身操表演	14:00	國小 100 公尺決賽
09:30	幼兒園表演	14:30	國中 400 公尺決賽
10:00	社區趣味競賽	15:30	大隊接力
10:30	跳遠	16:30	閉幕

ㄅ. 運動會從開幕典禮到閉幕，經過了（ ）小時。

ㄆ. 爺爺 9 時 15 分到，會場上正在進行（ ）。

ㄇ. 全校師生要在運動會開始前 1 小時要搭船，是（ ）點（ ）分。

ㄏ. 媽媽想要參加的社區趣味競賽，在（ ）時（ ）分開始。

ㄏ. 大隊接力的時間一共有（ ）分鐘。

ㄏ. 姊姊的國中 400 公尺決賽在（ ）時開始。

ㄏ. 閉幕的時間是下午（ ）時（ ）分。

試卷結束，請再次檢查。