

座號：\_\_ 姓名：\_\_\_\_\_ 家長簽章：\_\_\_\_\_

範圍：康軒三下數學單元四~單元六

100 分	人.	70~79 分	人.
90~99 分	人.	60~69 分	人.
80~89 分	人.	60 分以下	人.

一、勾選題：(每個答案1分，共5分)

1. 哪一個容量比較合理？在□裡打√。

(1) 容量比1000毫升大的容器是

紙杯 飯碗 洗臉盆。

(2) 一瓶易開罐可樂約有

400毫升 40毫升 4公升

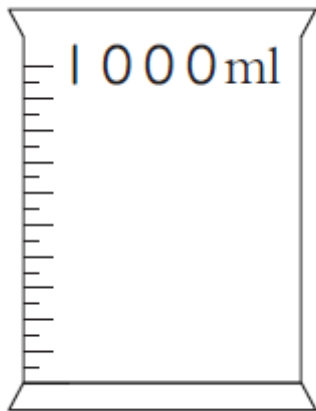
(3) 一桶沙拉油約有3 公升 毫升。

(4) 一瓶洗髮精約有1000 毫升 公升。

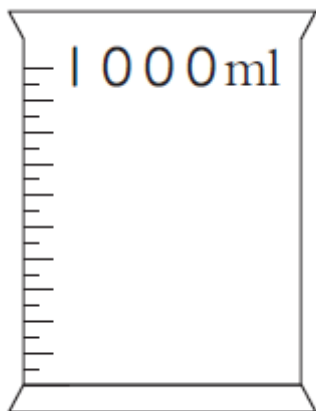
(5) 一瓶醬油約有1500 公升 毫升。

二、畫畫看，做做看：(每個答案2分，共4分)

1. 畫出620毫升的水量。



2. 畫出860毫升的水量。



三、計算題：(每個答案2分，共30分)

1.  $7\text{公升}630\text{毫升} - 3\text{公升}245\text{毫升} = (\quad)\text{公升}$   
 $(\quad)\text{毫升}$

2.  $4\text{分}54\text{秒} - 2\text{分}$

3.  $13\text{分}58\text{秒} - 42\text{秒}$

4.  $10\text{時}43\text{分} - 7\text{時}43\text{分}$

5.  $5\text{時}47\text{分} - 5\text{時}32\text{分}$

6.  $4\text{公升} \div 5 = (\quad)\text{毫升}$

7.  $1\text{公升}388\text{毫升} \times 4 = (\quad)\text{毫升} = (\quad)\text{公升}$   
 $(\quad)\text{毫升}$

8. 5公升 - 850毫升 = ( )公升( )毫升

9. 2公升700毫升 - 1805毫升 = ( )毫升

10.  $5848 \div 8 = ( )$

11.  $7239 \div 3 = ( )$

12.  $6244 \div 4 = ( )$


13.  $7208 \div 9 = ( ) \cdots ( )$

14.  $2058 \div 9 = ( ) \cdots ( )$

15. 250毫升  $\times 7 = ( )$ 公升( )毫升


四、看圖回答問題：(每個答案1分，共19分)

1.



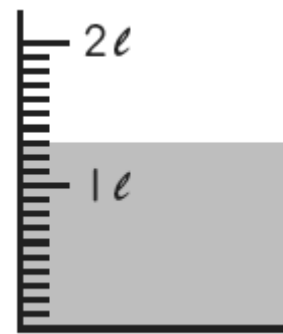
哪一個容器裝得多？( )

2.



( )毫升

3.



量杯裡有( )公升( )毫升，也是( )公升。

4.

上、下午制	24 時制
(1)	9 時
下午 10 時	(2)
(3)	23 時

(1)( )

(2)( )

(3)( )

5.

高鐵南下時刻表	
車次 403	
臺北	06 : 36
板橋	06 : 39
桃園	06 : 52
新竹	07 : 06
臺中	07 : 33
嘉義	07 : 58
臺南	08 : 18
左營	08 : 30

怡鈴想在車次403列車到站前30分鐘趕到臺中站，她什麼時候要到臺中站？( )時( )分

6.



- (1)現在是( )時( )分( )秒。  
 (2)再過1秒，是( )時( )分( )秒。

7.



( )時( )分( )秒

五、應用題：(每題3分，共42分)

1. 媽媽烤了185塊餅乾，吃了11塊之後，剩下每6塊裝成一袋，共可以裝成幾袋？

《答案》

2. 花店買進1000朵玫瑰花，每8朵包成一束，共可包成幾束？

《答案》

3. 銘彥跑400公尺要108秒，欣玲跑400公尺要1分50秒，誰花得時間比較短？相差幾秒？

《答案》

4. 麗麗果園採收了1750顆蘋果，平分裝在6個籃子裡，每個籃子有幾顆蘋果？還剩下幾顆蘋果？

《答案》

5. 郁萍從下午3時45分8秒開始做運動，做仰臥起坐花了46秒，做完時是下午幾時幾分幾秒？

《答案》

6. 爸爸和媽媽去看電影，從下午1:30看到下午3:30，片長是多少分鐘？

《答案》

7. 洗衣機從下午6:07開始運轉洗衣服，到下午6:42洗好，共花了多少時間？

《答案》

8. 小莉要去看20時40分開演的電影，20時40分是上午或下午的幾時幾分？

《答案》

9. 1瓶紅茶和1瓶綠茶的容量分別是300c.c.和500c.c.，念華各買一瓶，共有幾毫升？

《答案》

10. 1瓶礦泉水900毫升，1瓶綠茶560毫升，1箱礦泉水有4瓶，1袋綠茶有6瓶，請問1箱礦泉水和1袋綠茶哪個比較少？少多少毫升？

《答案》

11. 一條長30公尺的道路上，每隔相同距離設置一枝廣告旗，道路頭尾兩端都設置，共設置了6枝，相鄰兩枝的距離是幾公尺？

《答案》

12. 妹妹要在長96公分的繩子上，每8公分畫一個記號，頭尾不用畫，一共要畫幾個記號？

《答案》

13. 麵包坊製作了400個麵包，每8個裝成一盒，賣掉21盒後，還剩下幾盒？

《答案》

14. 一支廣告片長38秒，廣告播放完是16時25分46秒，廣告開始播放時，是上午或下午幾時幾分幾秒？

《答案》