

澎湖縣將軍國民小學101學年度第2學期第2次定期評量二年級數學科試題二年甲班
座號：_____ 姓名：_____

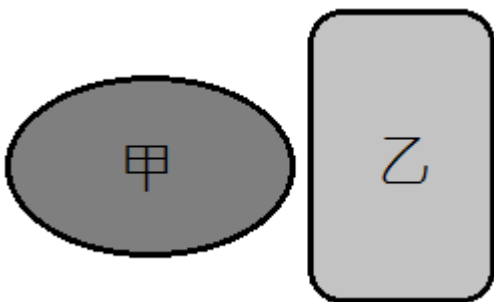
一、畫畫看看，做做看看：

1. 把答案比50小的算式塗上顏色。每格一分，共10分。

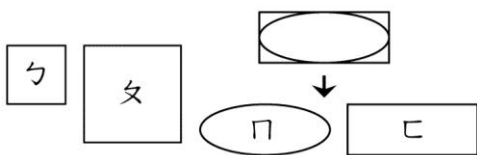
1×0	6×9	5×5	7×8	6×10
0×5	10×3	8×10	10×1	10×6
9×7	10×5	0×9	10×4	6×0
7×10	8×9	9×0	9×9	1×2

三、比比看看：(每格1分，共10分)

1. 描下甲圖，再和乙圖比比看看，比較大的面圈起來。(甲/乙)
(2分)



2. 比比看看。



- (1) ㄅ和ㄆ兩個圖形，誰的面比較大？()
- (2) ㄐ和ㄑ兩個圖形，誰的面比較大？()

3. 下面這些物品的面積數，學課本大的畫○，小的打×。

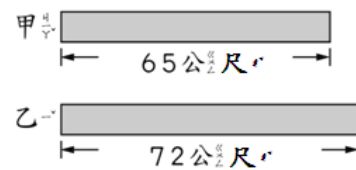
- (1) () 遊戲王卡
- (2) () 教室的書桌

- (3) () 12公分的尺
- (4) () 老師電腦的螢幕
- (5) () 小白板
- (6) () 椅子的一面

四、計算題：(每題2分，共10分)

1. $42 \text{公尺} + 59 \text{公尺} = (\quad) \text{公尺}$
2. $(\quad) - 84 = 471$
3. 甲、乙兩條彩色紙相差多少公尺？

公尺？



答：() 公尺

4. $0 \times 6 = (\quad)$
5. $10 \times 0 = (\quad)$

五、應用題：(每題5分，共30分)

1. 影印機裡有500白紙，印書用去一些後，影印機裡還剩下129張，印書用掉幾張白紙？
用有()的算式記問題，

再算算看。

答：

2. 其緯一天寫1張書法，一個星期寫了多少張書法？請用乘法算式記下來。

答：

3. 家嘉有263顆果凍，送給妹妹一些後，家嘉還剩下198顆果凍，家加送給妹妹多少顆？用有()的算式記下問題，再算算看。

答：

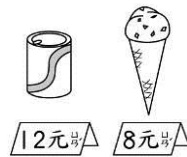
4. 數學課本每本厚10毫米，6本疊起來是多少毫米？用乘法算式記記看。

答：

5. 5個人剛好坐滿一輛轎車，8輛轎車都坐滿後，還有2人沒位置坐，一共需要坐多少車？請用算式把作法記下來。

答：

6. 佑宸買了1瓶飲料和4枝霜淇淋，一共要付多少元？



答：

六、填填看：(40分)

1. 估估看，填入「公分」或「公尺」。(每格2分，共10分)
- (1) 一枝鉛筆大約長12()
- (2) 一支掃把大約長1()。
- (3) 桌子大約長45()
- (4) 姐姐身高152()
- (5) 操場一圈約200()

2. 哪些工具適合用來量長度？在□裡打√。(每格1分，共5分)

(1) 15cm 長的直尺

(2) 溫度計

(3) 量杯

(4) 布尺

3. 在 裡填入 $>$ 、 $<$ 或 $=$ 。(每格 1 分，共 4 分)

(1) 6 公尺 5 公尺

(2) 68 公分 42 公分

(3) 602 公分 60 公尺

(4) 5 公尺 28 公分 53 公尺

4. 小宇用 1 公尺的繩子量哥哥的腳踏車，量了 2 次，這輛腳踏車大約有 公尺長。(1 分)

5. $9 \text{ 公尺} + 3 \text{ 公分} = (\quad) \text{ 公分}$ (1 分)

6. $717 \text{ 公分} = (\quad) \text{ 公尺} (\quad) \text{ 公分}$ (2 分)

7. 連連看：(每條 2 分，共 8 分)


9×2 6×6

7×6 4×6

9×4 6×3

3×8 6×7

8. 數一數(每題 2 分，共 6 分)



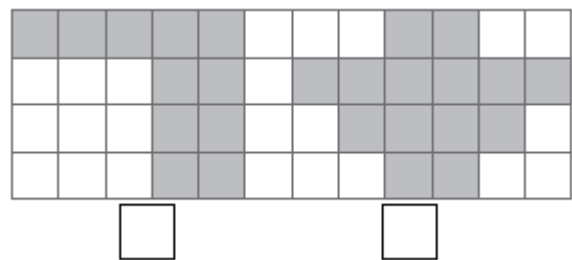
(1) 上面的卡片各和幾個合起來一樣大?

甲： 個；乙： 個

(2) 哪一張卡片的面积比較小?

() 卡片

在面比較大的圖形的 裡打 \checkmark 。(3 分)



分數區間	人數
90~100	
80~89	
70~79	
60~69	
60分以下	
家長簽章：	