

一年甲班 座號：_____ 姓名：_____


家長請簽章：

數學科段考分數分布統計表

分數	人數	分數	人數
90-100分		60-69分	
80-89分		60分	
70-79分		以下	


一、看圖填填看(每格2分，共54分)

1.



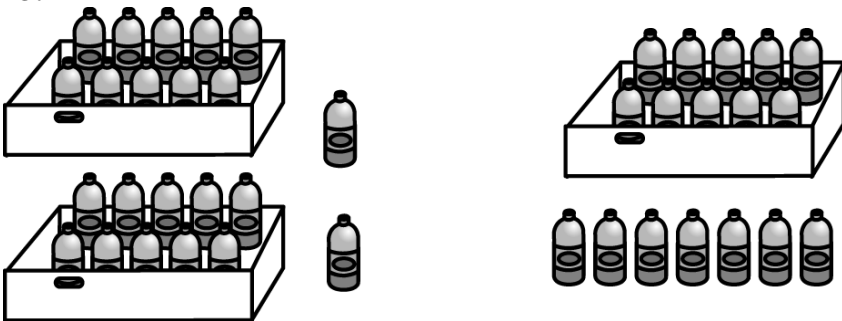
柏元買一罐鮮果汁和一一個漢堡要付幾元?
 () + () = ()
 答：() 元

2.



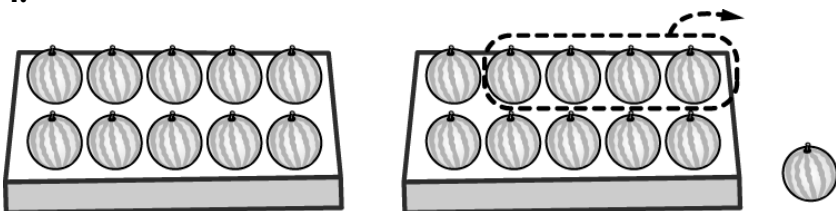
雅君買一隻和一隻要付幾元?
 () + () = ()
 答：() 元

3.



$22 + 17 = ()$

4.



$21 - 4 = ()$

5.







- (1) 上圖是昨天()的日曆，是6月2日的星期()。
- (2) 接第(1)題，今天()月()日的星期()。
- (3) 接第(1)題，明天()月()日的星期()。

6.

民國102年 5月 2013年						
日	一	二	三	四	五	六
			1	2	3	4
5	6	7	8	9	10	11
12	13	14	15	16	17	18
19	20	21	22	23	24	25
26	27	28	29	30	31	

- (1) 這是()月的月曆。
- (2) 5月10日是星期()。
- (3) 這個月的星期日是5月()日、()日、()日。

7.把下面節日的日期按照發生順序在()中填入1~4的數字。

<p>①聖誕節</p> <p>12月25日</p>  <p>()</p>	<p>②兒童節</p> <p>4月4日</p>  <p>()</p>
<p>③教師節</p> <p>9月28日</p>  <p>()</p>	<p>④西洋情人節</p> <p>2月14日</p>  <p>()</p>

二、算算看(共16分/每題4分)

1.先算出橫式，再寫成直式。

$25 + 9 = \square$

	十位	個位
+		
<hr/>		

2.先算出橫式，再寫成直式。

$24 + 5 = \square$

	十位	個位
+		
<hr/>		

3.先算出橫式，再寫成直式。

$45 - 11 = \square$

	十位	個位
-		
<hr/>		

4.先算出橫式，再寫成直式。

$34 - 8 = \square$

	十位	個位
-		
<hr/>		

三、把做法和答案記下來，請寫出直式和橫式(每題5分，共30分)

1.智傑有24張貼紙，妹妹比他多6張，妹妹有幾張？

算式：

()張

2.佑佑有26張色紙，分給小朋友一人一張，結果不夠9張，小朋友有幾人？

算式：

()人

3. 佳臻的口袋裡原有 8 元，媽媽又給她 31

元，現在佳臻一共有幾元？

算式：

4.



13 元

17 元

22 元

35 元



和



相差幾元？

() 元

() 元

5. 冰箱裡有 36 罐紅茶，嘉欣喝了 8 罐，剩下

幾罐？

算式：

罐

6. 國慶媽媽買了 44 顆水餃，煮了一些後，

剩下 31 顆，國慶媽媽煮了幾顆水餃？

算式：

顆

【加分題】(每格 4 分，共 24 分)

1.

民國 102 年 7 月 2013 年						
日	一	二	三	四	五	六
	1	2	3	4	5	6
7	8	9	10	11	12	13
14	15	16	17	18	19	20
21	22	23	24	25	26	27
28	29	30	31			

(1) 一星期有 () 天。

(2) 這個月的星期六是 7 月 () 日、

() 日、() 日、() 日。

(3) 每個星期一都會幫忙拖地，這個月

志宇要拖地 () 次。