

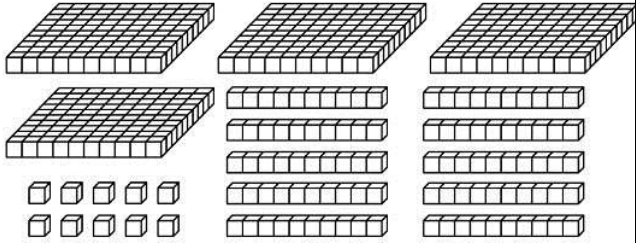
澎湖縣將軍國民小學101學年度第2學期第1次定期評量二年級數學科試題二年甲班
座號：__ 姓名：_____

一、圈出圈看：(每題2分，共10分)

1. 把最大的數圈出來。

909, 99, 990

2. 圈出405個正方形小積木。



3. 終極密碼猜一猜，把比595

大，又比605小的數圈起來。


(6分)

596, 639, 599, 602, 577,
606, 649, 598, 600, 601

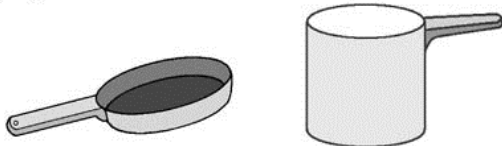
4. 哪個容器可以裝比較多的

水？把它圈起來。

(1)



(2)



二、畫畫看，做做看：(每題3分，

共9分)

1. 用100、10或1畫畫看。

307元

2. 家嘉買下面這個娃娃，要

付多少元？用100、10或1

畫畫看。



540元

3. 小緯的撲滿裡面有4張100

元、6個10元和3個1元，爸爸

又給她4個10元，小如現在

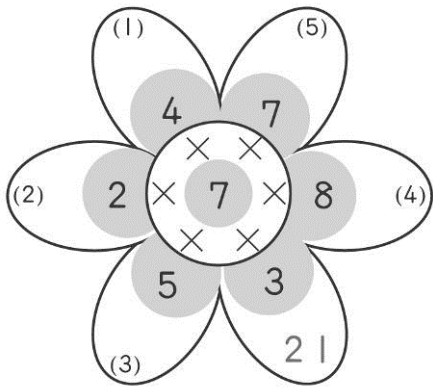
一共有多少元？用100、10

或1畫畫看，再數一數。

三、計算題(每題1分，共8分)：

1. $321 + () = 349$

2. 由內向外乘，完成乘法花。



3. $452 - 69 = (\quad)$

四、應用題(每題5分，共35分)：

1. 好吃的花枝丸，一串有3個。小銘買了5串，一共有幾個？
小銘買了5串，一共有幾個烤肉丸？

答：

2. 停車場裡一共有866臺機車和腳踏車，機車有382臺，腳踏車有幾臺？

答：

3. 小叮噹有9元，大雄的錢是小叮噹的3倍，大雄有幾元？

元？

答：

4. 運動用品店裡有532件運動衫，上星期賣出貨了一些後，還剩下299件運動衫，運動用品店賣出了幾件運動衫？

答：

5. 羚羊跳一步是8公尺，羚羊跳7步，一共跳了幾公尺？

答：

6. 將軍國小有255個小朋友蛀牙，近視的小朋友比蛀牙的小朋友少139個，請問近視學生有幾個人？

答：

7. 將軍農場有286棵白楊樹，還有688顆松樹，請問全部共有幾棵樹？

答：

五、填填看看(每格1分，共38分)：

- 4×3 比 4×7 少 ()。
- 在 \square 裡填上 +、- 或 \times 號，使它成為正確的算式。
 $7 \square 3 = 21$
- 9 的 6 倍比 9 的 3 倍少 () 個 3，是少 ()。
- 爸爸買東西付了 5 張 $\boxed{200}$ ，是 () 元。
- 602 可以分成 () 個百，() 個十和 () 個一。
- 5 個百、14 個十和 9 個一，合起來是 ()。
- 9×4 就是 9 的 () 倍。
- 按照順序填填看。
 $267 \rightarrow 277 \rightarrow () \rightarrow () \rightarrow ()$
- 在 \square 裡填入 $>$ 、 $<$ 或 $=$ 。
(1) $396 \square 369$
(2) $999 \square 1000$
(3) $409 \square 412$

10. 媽媽把烤好的餅乾 10 片裝 1 包，100 片裝 1 盒。

(1) 烤好了 400 片餅乾，可以裝成 () 盒。

(2) 烤好了 540 片餅乾，可以裝成 () 盒又 () 包。

11. 從「1, 2, 3, 4, 5, 6, 7, 8, 9」十個數字中，排出三個比 400 大，比 800 小的三位數，數字不得重複使用。

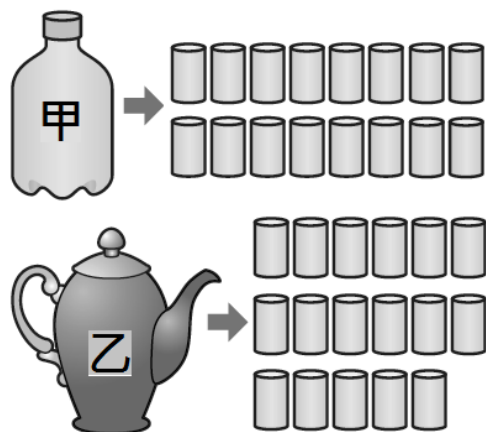
百位	十位	個位	
			→ () (2分)
			→ () (2分)
			→ () (2分)

12. 按照順序從小排到大。
38, 380, 830, 308, 83, 803

$\rightarrow 38 < () < () < () < () < 830$

13. 甲和乙哪一個容器的容量

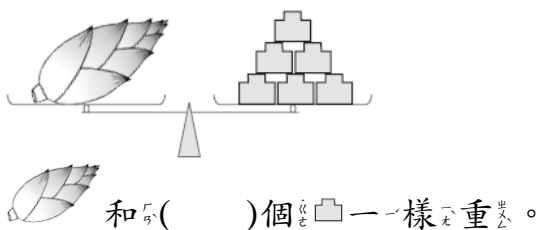
比較大，請你圈起來。(2分)



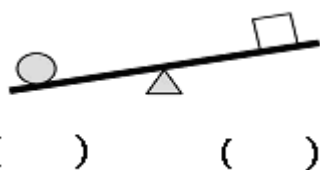
14. 比比看，由重到輕寫上1、2、3。



15.



16. 哪一個比較重？在()裡打√。




17. 下圖中，甲和乙兩個茶壺

先裝滿果汁，再全部倒入

杯子中。哪個容量比較

大？在□裡打√。(2分)



1	85	86	89	16	71	72	45	90	37
83	84	38	17	70	15	8	5	79	91
82	2	81	69	9	53	7	6	80	44
32	55	30	68	50	29	54	73	4	78
57	56	39	31	10	14	3	42	74	43
33	87	11	40	12	65	41	75	34	92
58	22	51	88	52	13	28	46	76	77
96	23	24	18	48	66	61	62	99	35
21	19	59	60	67	27	47	36	95	93
20	97	25	49	98	26	64	63	94	100

親愛的小朋友，上面是一個亂掉的百數表，請你幫世潔老師找出10個有順序的數字，再按照順序排列寫在下面，你有用到的數字請你再上面把它圈起來或塗一塗喔。

