

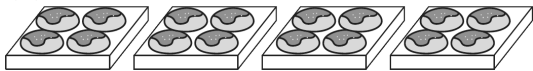
澎湖縣將軍國民小學 101 學年度第 1 學期第 3 次定期評量

二年級數學科試題二年甲班 座號：__ 姓名：_____

一、應用題：(每題5分，共30分)

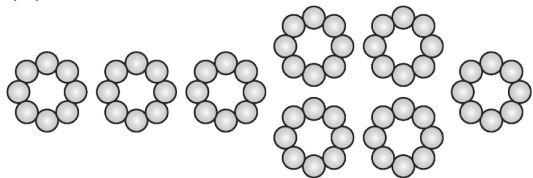
1. 看圖寫出乘法算式，並算一算。

(1) 有幾個泡芙？



答：

2. (2) 有幾顆珠子？



答：

3. 用連加算式計算。

(1) 豪豪今年3歲，哥哥的年齡是豪豪的3倍，哥哥今年幾歲？

答：

(2) 8條小黃瓜裝成一袋，媽媽買4袋，一共有幾條小黃瓜？

4. 用乘法算式計算。

一碗湯圓有5顆，買3碗有幾顆湯圓？

答：

5. 用乘法算式計算。

一輛腳踏車有2個輪子，4輛腳踏車有幾個輪子？

答：

二、換你出題目。請你照圖片的意思出題目，再算一算。(每題5分，共10分)

題目：

6. 用連加算式算看。

(1) 一串糖葫蘆有5顆番茄，小明買6串，一共幾顆番茄。

算一算：

答：

2.



題目：

算一算：

答：

1. 填填看，在□裡填入十或。

(每題2分，共10分)

(1) $2 \square 6 = 12$

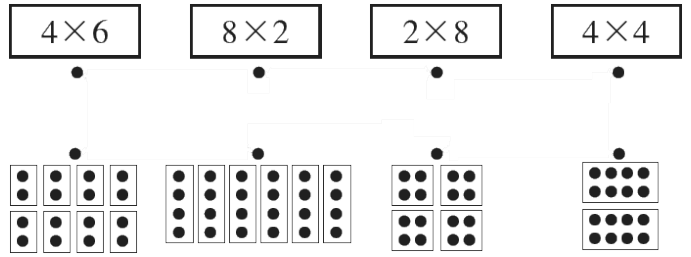
(2) $5 \square 5 = 10$

(3) $5 \square 3 = 8$

(4) $2 \square 8 = 16$

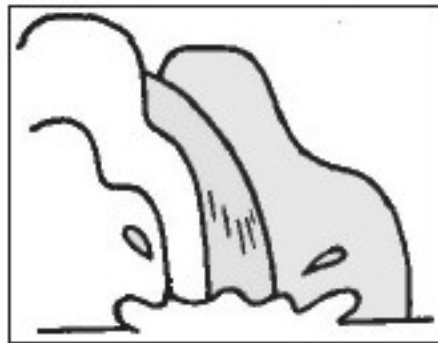
(5) $2 \square 5 = 10$

2. 連連看。(每題2分，共8分)

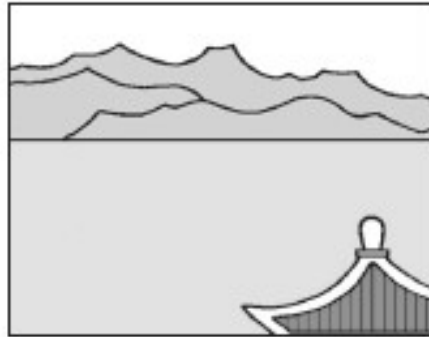


3. 哪些圖片裡有水平面請用藍線描一描，垂直面請用紅線描一描。(每題3分，共12分)


(1) 瀑布



(2) 湖面



(3) 海邊



(4) 魚缸



四、 填 空 題。(每格1分，共20分)

4. 下 面 哪 些 圖 中 有 平 行 的 現 象? 在 裡 打 。

(1)

月

(2)

文

(3)

元

5. 哪 一 條 氣 球 的 線 是 鉛 直 線? 在 裡 打 。(每格1分，共3分)

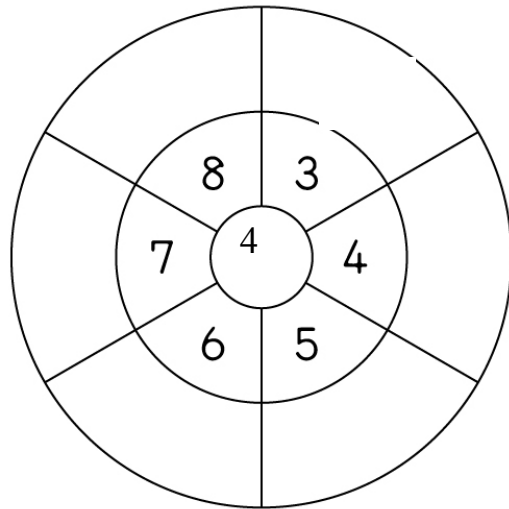


6. 5×2 比 5×4 少 () 個 5, 是 少 ()

7. 8×6 比 8×4 多 () 個 8, 是 多 ()

8. 2 的 7 倍 是 ()

9. 請 完 成 下 面 乘 法 表



10. 一 盒 布 丁 有 3 個, 一 盒 的 3 倍 有 () 個 布 丁, 4 倍 有 () 個, 5 倍 有 () 個。

四、 實 作 題

請 你 在 班 上 找 一 找 哪 樣 東 西 有 水 平 線, 哪 樣 東 西 有 鉛 直 線, 請 你 找 出 兩 樣 物 品 有 水 平 線, 三 樣 物 品 有 鉛 直 線, 每 一 樣 2 分, 共 10

