

一年甲班 座號：_____ 姓名：_____


家長請簽章：

數學科段考分數分布統計表

分數	人數	分數	人數
90-100分		60-69分	
80-89分		60分	
70-79分		以下	

一、圈圈看(共5分/每格1分)

1. 一共有多少顆蘋果？看圖圈出正確的算式。



(2+3=5 , 5+1=6 , 5+2=7)

2. 從 20 開始倒著數，哪一個數會先數到？

- (1) (11 , 15)
- (2) (17 , 12)

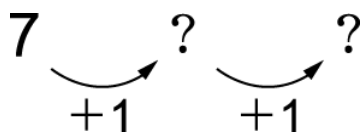
3. 從 1 開始順著數，哪一個數會先數到？

- (1) (20 , 18)
- (2) (16 , 19)

二、填填看(共9分/每格1分)

1. 用 7 向上數，看看。

7+2= ()



- 2. (1) 6+ () = 10
- (2) () + 5 = 10
- (3) () + 3 = 10
- (4) 2+ () = 10


3. 魚缸裡有 3 條魚，再放進 5 條魚，一共有多少條魚？

原有 + 再放進 = 一共
() + () = ()

一共有 () 條


三、看圖填填看(共20分/每格1分)

1. 一共有多少？寫出加法算式。



() + () = ()

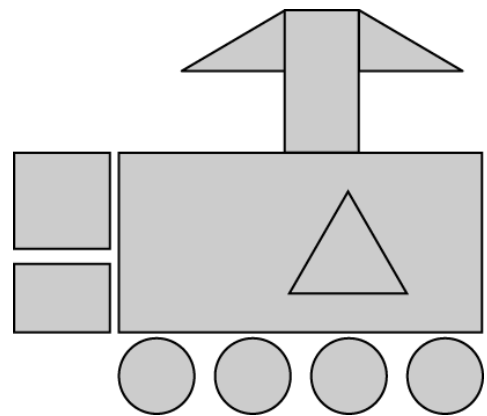
2. 數數看，一共有多少個漢堡？



6+ () = ()

一共有 () 個

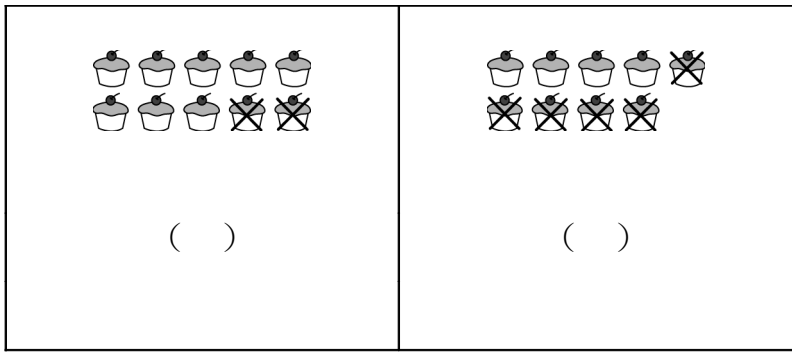
3. 各有幾個？



- (1) 有 () 個三角形。
- (2) 有 () 個長方形。
- (3) 有 () 個圓形。
- (4) 有 () 個正方形。

4. 剩下多少？完成減法算式。

電線桿上有 7 隻小鳥，飛走 2 隻，剩下幾隻？



有 () 隻

$9 - 5 = ()$

八、畫○做做看，把做法和答案記下來(共22分/每題4分【第一題2分】)

1. 智傑昨天蓋了3個好棒章，今天蓋了5個好棒章，兩天一共蓋了幾個好棒章？寫出算式做做看。

算式：

一共蓋了 () 個

2. 志宇家在3樓，他想從家裡走樓梯到9樓找雅君，要走幾樓？寫出算式做做看。

算式：

要走 () 樓

3. 國慶有9張卡片，柏元有5張卡片，國慶的卡片比柏元多幾張？寫出算式做做看。

算式：

多 () 張

4. 排隊搭車，庭佑的前面已經排了7個人，庭佑排在第幾個？

排在第 () 個

5. 動物園裡有8隻牛，3隻是公牛，其他的是母牛，母牛有幾隻？

算式：