

澎湖縣將軍國民小學 101 學年度第 1 學期第 2 次定期評量

二年級數學科試題二年甲班 座號：__ 姓名：_____

1、 選擇題(每題2分，共8分)

1、 () 目前時鐘指著8點半，過了3個小時後是幾點鐘？

- (1)9點半 (2)10點半 (3)11點半
(4)12點半

2、 () 分針(長針)轉一圈，表示過了多少時間？

- (1)1分鐘 (2)1小時 (3)24小時
(4)60小時

3、 () 請你唸完題目之後，想一想下面哪一個圖是正確的？

題目：世潔老師有一些錢，花了38元買鋼鐵人，還剩下33元，請問世潔老師本來有多少錢？

- (1) _____
(2) _____
(3) _____
(4) _____

4、 () 一到三年級一共共有20個小朋友，一年級有8個，二年級有5個，請問三年級有幾個小朋友？下面哪個算式不能算出答案？

- (1) $20-8=12$
 $12-5=7$
(2) $8+5=13$

$20-13=7$

(3) $20-8=12$

$12+5=7$

二、 圖圖看看：(10分)

1. 找出和時鐘上的一樣的時刻。(4分)



- 3點01分 3時5分 2:15 3:05

2. 哪一個數最接近正確答案？把它圈起來。(3分)

$81-48=?$

- (40 30 20)

3. 哪一個數最接近正確答案？把它圈起來。(3分)

$59+58=?$

- (100 110 120)

三、 畫畫看看，做做看看：(4分)

1. 畫出分鐘針來。(每小題2分)

(1)



3:29

(2)



8:04

四、 計算題：(每題3分，共12分)

1. () + 48 = 92

2. 35 + () = 62

3. 87 - () = 49

4. 33 + 51 + 39 = ()

五、 應用題：(每題6分，共30分)

1. 其緯有64元，又銘的錢比其緯少15元，兩人共有多少元？

答：()元

2. 老師準備了80枝鉛筆，送給班上45位同學一人一枝，還剩下幾枝？算一算，再驗算。

驗算：

答：()枝

3. 用()的算式記問題，再算算看。

一根蛋捲長53公分，家嘉

吃掉一些，還剩下38公分，請問家嘉吃了多少公分的蛋捲？

答：()公分

4. 用()的算式記出問題，再算算看。

泉廷有一些機器人，送給佑宸16個後，還剩下17個，泉廷本來有幾個機器人？

5. 校長買了36瓶紅墨水、45瓶藍墨水和29瓶綠墨水，共買了幾瓶墨水？

六、填填看(每格2分，共16分)

1. 電影10:20開演，家嘉10:30到達，她是早到還是晚到？(早到/晚到)

2. 圖中的時鐘在數字鐘上會是什麼時刻？



():()

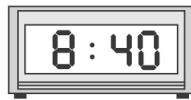
(1)



():()

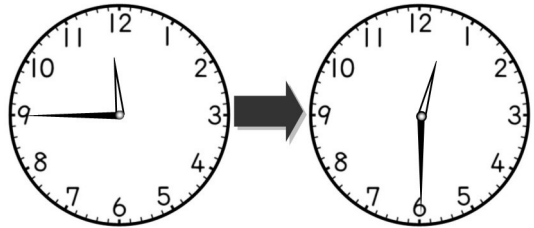
(2)

3. 下圖數字鐘是()時()分，同一個時間時鐘上的分針應指在哪個數字？()

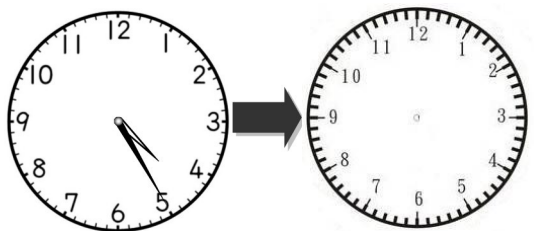


七、看看圖回答問題(每格1分，共10分)

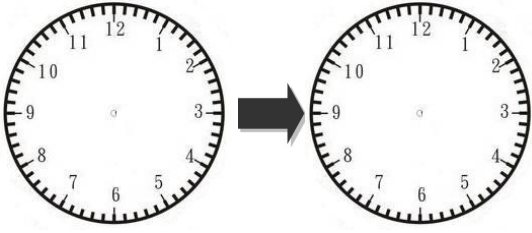
1. 經過幾分鐘？()分




2. 經過幾小時？()時



3. 經過幾分鐘？()分



4.



剪刀 釘書機 橡皮擦

53 元

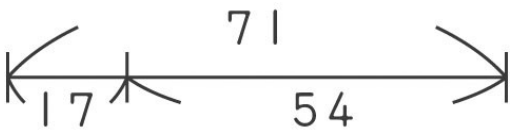
71 元

18 元

小希有 90 元，夠不夠買一個釘書機和一個橡皮擦？
在□裡打✓。

夠 不夠 不一定

5. 看圖填填看。



$17 + 54 = (\quad)$

$71 - (\quad) = 17$

$(\quad) - 17 = 54$

$54 + (\quad) = 71$

八、勾選題：(每格 1 分，共 10 分)

1. 做這些事可能需多少時間？在□裡打✓。

(1) 寫一份國語考卷

1 分鐘

30 分鐘

(2) 洗碗

20~30 分鐘

4~5 小時

(3) 中午睡

8~10 小時

30~40 分鐘

2. 各是幾點幾分？在□裡打✓。

(1)



8 點 1 分

8 點 5 分

(2)



11 點 38 分

11 點 13 分

分數區間	人數
90~100	
80~89	
70~79	
60~69	
60 分以下	
家長簽章：	