

請家長簽名：

澎湖縣將軍國民小學101學年度第1學期第一次定期評量四年級 數學科試題 四年甲班 號 姓名_____

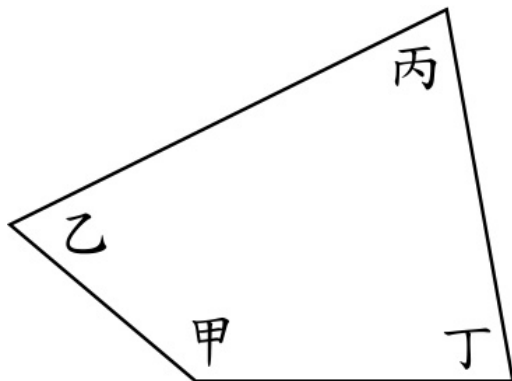
一、畫畫看，做做看：(共5分)

1. 以黑點為頂點，畫出一個55度角。



二、量量看，再回答問題：(共10分)

1.



- (1) \angle 甲是()度。
- (2) \angle 乙是()度。
- (3) \angle 丙是()度。
- (4) \angle 丁是()度。
- (5) \angle 甲 + \angle 丁 = ()度。
- (6) \angle 乙 + \angle 丙 = ()度。
- (7) \angle 甲 + \angle 乙 + \angle 丙 + \angle 丁 = ()度。
- (8) 最大的角是()，又稱()角。

【請填鈍角、直角或銳角】

(9) 最小的角是 \angle 乙，又稱()角。【請填鈍角、直角或銳角】

三、比比看【在□裡填入>、<或=】：(共5分)

【1】30700000 □ 三千零七十萬

【2】600 ? 308 □ 601 ? 208

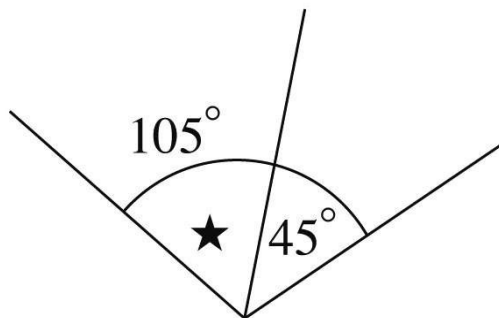
【3】73 ? 106 □ 78 ? 906

【4】八千三百二十五萬 □ 83330000

【5】9999900 □ 1000000

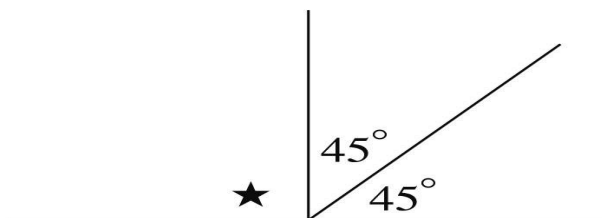
四、計算題：(共30分)

【1】下面的★是幾度？



答：

【2】圖中做上★記號的角是幾度？



答：

【3】11萬5千 + 9萬6千 = ()

【4】8萬4千 - 4萬9千 = ()

【5】7208 × 13 = ()

【6】2345 × 63 = ()

五、應用題：(共30分)

1. 小鈞和12個朋友去參加南海七日遊的旅行，一人要1850元，整團一共要付多少元？

2. 萱萱買了一臺洗衣機，分成12期付款，每期要付1066元，這臺洗衣機要幾元？

3. 將軍村的船帆嶼民宿去年接待的遊客約有1萬8千人，今年接待的遊客約有2萬2千人，這兩年一共接待遊客多少人？

4. 一塊畫板賣199元，老師買了15塊，付了3000元，可以找回多少元？

5. 小宇家距離學校335公尺，小宇這星期到學校5次，來回共走了多少公尺？

六、填填看：(共10分)

【1】 9個千萬、7個千和7個十合起來是()。

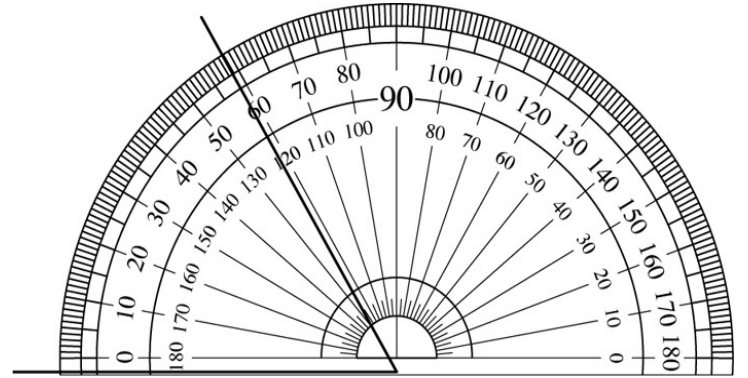
【2】 40870000讀作()。

【3】 「一千二百零三萬四千零五」用阿拉伯數字記作()。

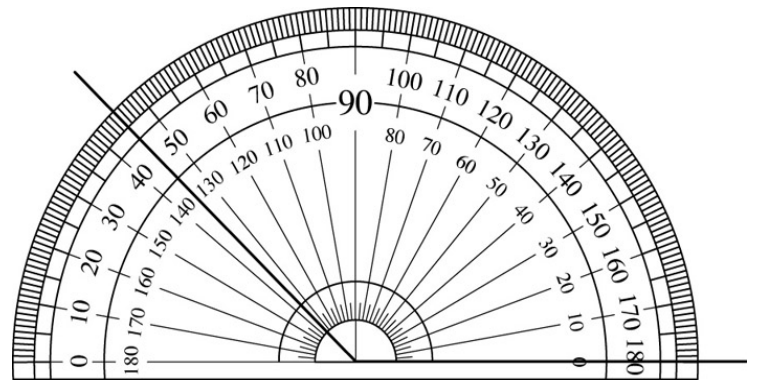
【4】 用7、8、2、3、0、1排成的六位數中，最大的數是()，最小的數是()。

七、看圖回答問題：(共10分)


1. 下圖使用量角器的方式是不是正確?() (填是或不是)



2. 如圖，下面的角度是多少度?()度



3. 下圖的鐘面的指針由刻度12轉至刻度3，是往()方向旋轉，轉了()度，我們稱為()角。



分數級距	人次
100分	人
90 ~ 99分	人
80 ~ 89分	人
70 ~ 79分	人
60 ~ 69分	人
60分以下	人