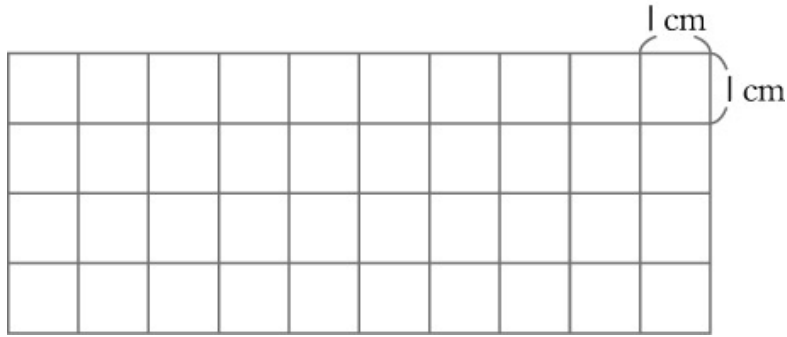



一、畫畫看，做做看：(每題2分，共10分)

1. 在方格紙上畫一個周長是15公分的長方形。




2. 畫一畫，比比看。

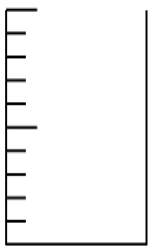
(1) 小玉：我喝了0.4杯果汁



(2) 小青：我喝了 $\frac{1}{2}$ 杯果汁



(3) 阿怪：我喝了 $\frac{7}{10}$ 杯果汁



(4) 誰喝的果汁最多？()

二、比比看：(每格1分，共5分)

* 在定位板上記記看，並在□裡填入>、<或=。

(1) 1.5 和 0.9

個 位	十 分 位		個 位	十 分 位

三、寫出直式算算看：(每題3分，共15分)

【1】 $2.3 + 5.8 = (\quad)$

【2】 $3.6 - 0.5 = (\quad)$

【3】 $8431 \div 4 = (\quad) \dots (\quad)$

【4】 $36 \times 25 = (\quad)$

【5】 $1613 \times 6 = (\quad)$

四、把做法和答案記下來：(每題5分，共40分)

【1】 有一條跑道，每隔15公尺做一個記號，從第1個記號到第10個記號之間，相距多少公尺？

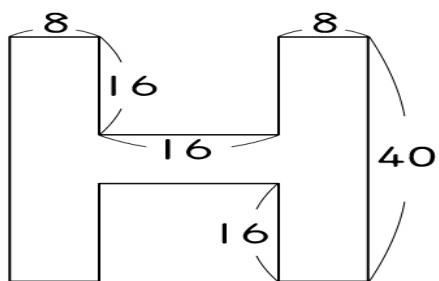
【2】 有黃、綠兩條緞帶，分別長5.3公尺和8.2公尺，這兩條緞帶相差多少公尺？

【3】 姐姐打工一小時可以賺97元，這個月共打工84小時，共可賺多少元？

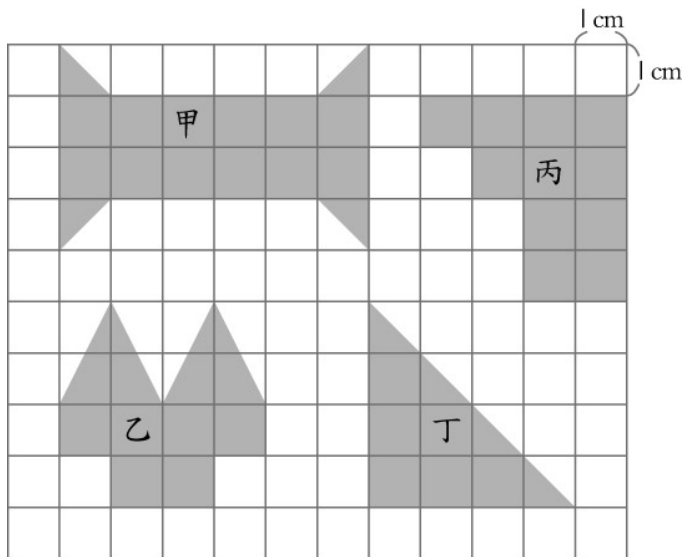
【4】把2842張圖畫紙平分給7個班級使用，每個班級可分到幾張圖畫紙？

【5】哥哥有136元，弟弟有143元，兩人的錢合起來，剛好可以買9瓶奶茶。1瓶奶茶多少元？

【6】圖中英文字母 H 的周長是多少公分？(單位：公分)



【7】把下面各圖形的面積由小到大排出來：
() < () < () < ()



【8】一盒水果糖有10顆，小君買了3盒，吃了一些後還剩下2.2盒，她吃了多少盒？

五、填填看：(每小題1分，共10分)

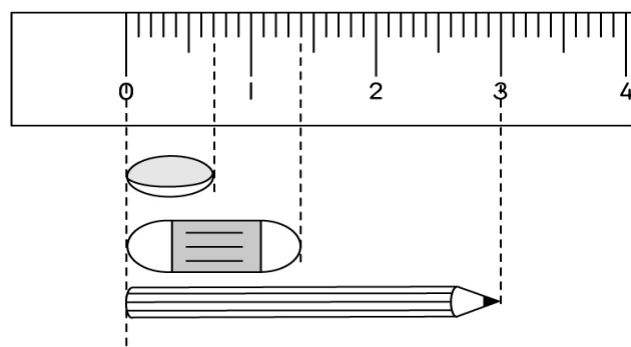
【1】寫寫看。

- (1) 0.2 讀作()。
- (2) 7.6 讀作()。
- (3) 14.9 讀作()。
- (4) 2.7 讀作()。

- 【2】(1) 5個1和6個0.1合起來是()。
- (2) 7.8是7個()和()個0.1合起來的。
- (3) 按照順序寫出一位小數：
2.2 → 2.1 → () → 1.9 → () → 1.7。

【3】量量看，再用小數回答。

- (1) 豆子是()公分。
- (2) 橡皮擦是()公分。
- (3) 鉛筆是()公分。



六、連連看：(每線2分，共10分)

1. 哪兩個數合起來是1？把它連起來。

$\frac{6}{10}$	0.9	0.7	$\frac{5}{10}$	0.2
0.3	$\frac{1}{10}$	0.5	0.4	$\frac{8}{10}$

七、看圖回答問題：(每格2分，共10分)

1. (1) 甲：() cm^2 ，乙：() cm^2 ，
丙：() cm^2 ，丁：() cm^2 。
- (2) () 的面積最小。

