

澎湖縣將軍國民小學 100 學年度第 2 學期第 1 次定期評量 一年級數學科試題 一年甲班 座號：_____ 姓名：_____

1、連連看看：(每條線2分，共8分)

1. 把答案不一樣算式連起來。


$12-5$	$9+4$
$7+6$	$15-8$
$8+3$	$17-9$
$16-8$	$5+6$

二、圈圈看看：(每個答案2分，共30分)

1. 把被減數是15的減法算式圈起來。

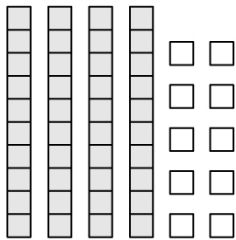
$16-15$ 、 $15+1$ 、 $15-2$ 、 $15-3$ 、
 $15-9$ 、 $15+7$ 、 $15-6$

2.

 代表 10， \square 代表 1，

圈出正確的數量。

47




3. 把 10 個星、10 個圈在一起，再數一數，一共有多少個星？



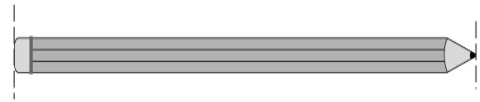
() 個

4. 把答案是 14 的算式圈出來。



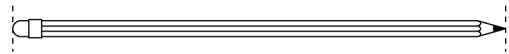
三、量量看看，再回答問題：(每題2分，共4分)

1. 拿出迴紋針量量看，這枝鉛筆有多長？



大約是和 () 個迴紋針一樣長。

2. 拿出迴紋針量量看，這枝鉛筆有多長？



大約是和 () 個迴紋針一樣長。

四、填填看看：(每個答案1分，共23分)

1. 看圖填填看。

$8+7=(\quad)$

$8+9=(\quad)$

$2. 12-7=(\quad)$

$3. 8+9=(\quad)$

$4. 15-5=(\quad)$

$15-6=(\quad)$

$15-7=(\quad)$

六、把做法和答案記下來：(每題3分，共15分)

1. 一盒巧克力有9顆，兩盒共有幾顆巧克力？

()顆

2. 老師買了17杯柳橙汁和9杯西瓜汁，柳橙汁比西瓜汁多幾杯？

()杯

3. 凱凱有一條和11個花瓣一樣長的綵帶，做勞作用掉和5個花瓣一樣長的綵帶後，剩下的綵帶和幾個花瓣一樣長？

()個

七、看圖回答問題：共3分

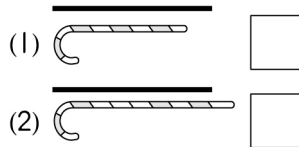
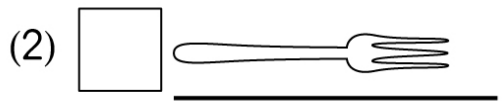
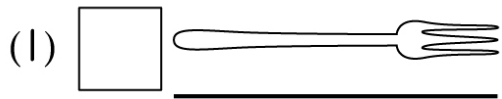
1.



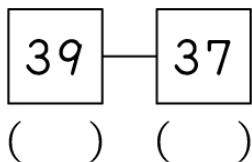
? 應該填上哪一個算式？
()

八、勾選題：(每題2分，共10分)


1. 比一比，比較短的在□裡打。



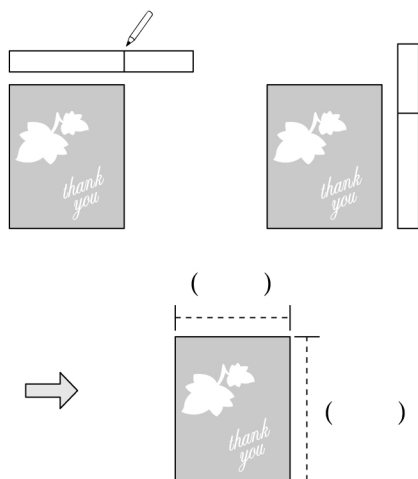
2. 比一比，大的在()裡打。



3. 最大的數打，最小的數畫○。



4. 比比看，在比較長的()裡打。



5. 比一比，比較長的糖果打。