

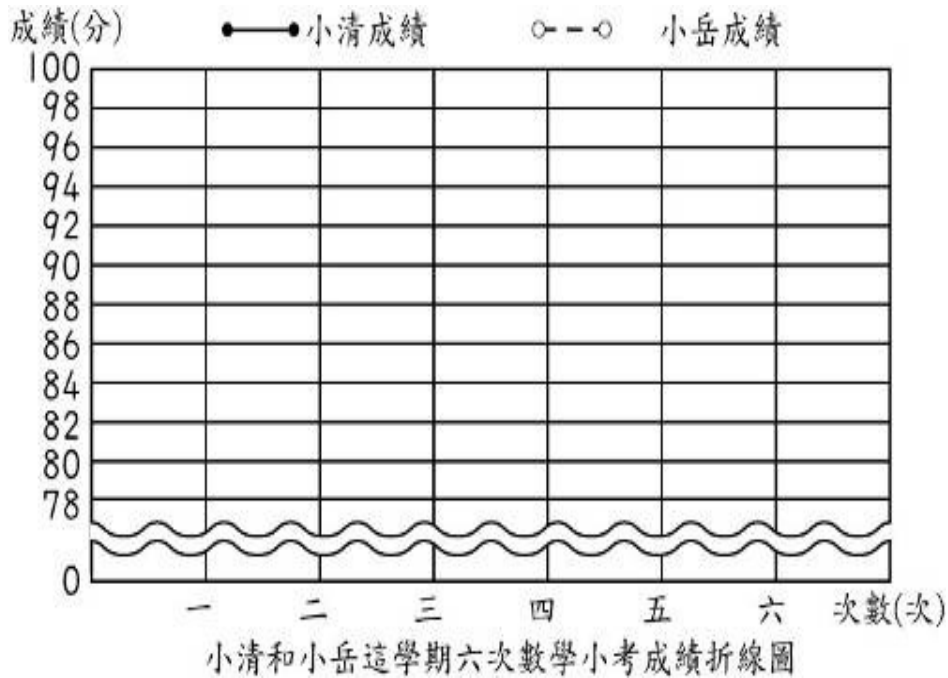
澎湖縣將軍國民小學 100 學年度第 1 學期第三次定期評量

五年級數學科試題五年甲班 座號：__ 姓名：_____

一、畫一畫並回答問題 (共56分)

1. 下面是小清和小岳這學期六次數學小考的成績統計表，根據下表完成折線圖。(16分)

次數(次)	一	二	三	四	五	六
小清的成績(分)	84	92	90	88	96	86
小岳的成績(分)	78	88	92	88	94	100



(1) 哪一次小考的時候兩人拿到一樣的分數?

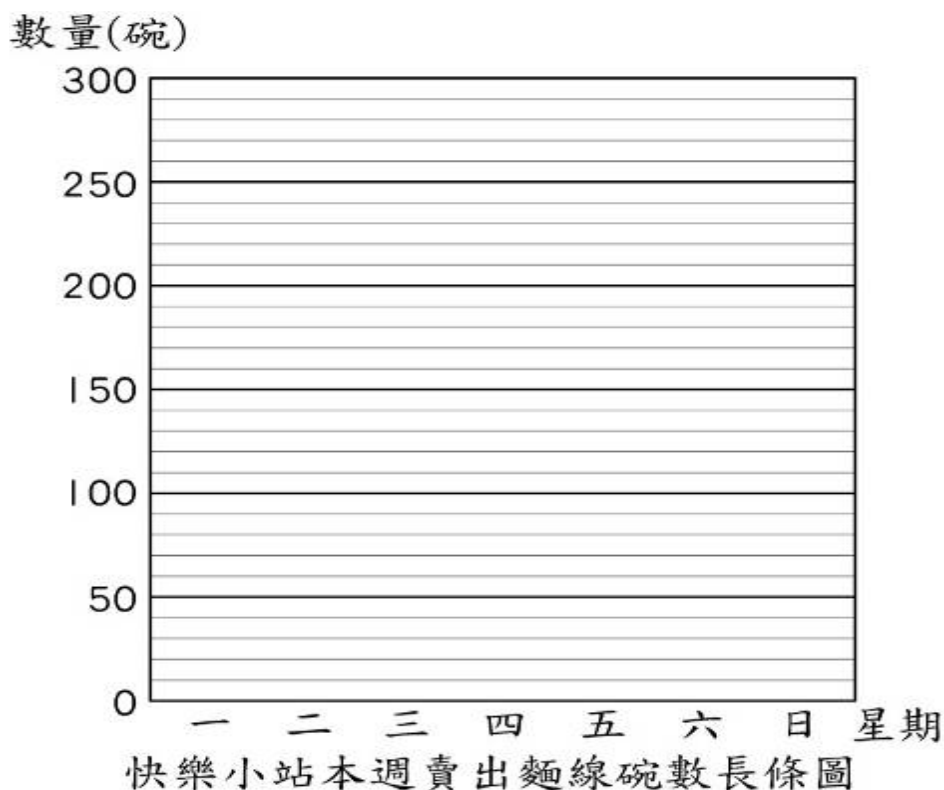
答: 第()次

(2) 哪次段考兩人相差最多分?

答: 第()次

2. 下面是快樂小站本週賣出麵線碗數統計表，根據資料畫成長條圖。(20分)

星期	一	二	三	四	五	六	日
賣出碗數(碗)	240	260	220	240	250	290	280



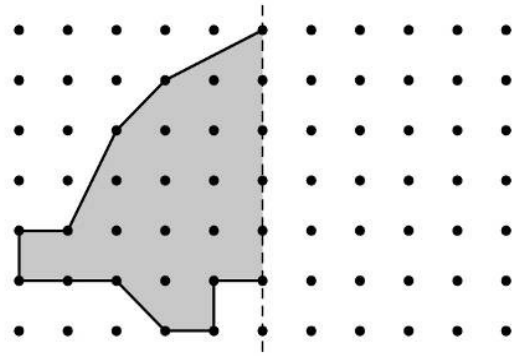
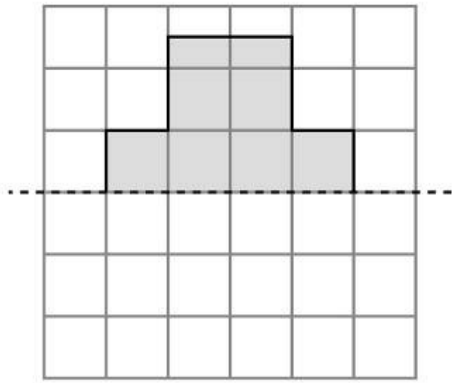
(1) 生意最好的是星期(),
生意最差的是星期()

(3) 禮拜四賣出()碗麵線

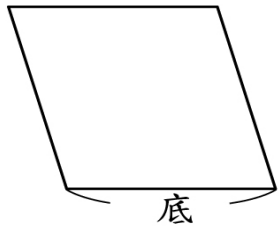
3. 虛線表示對稱軸，完成下面的線對稱圖形。(各5分)

(1)

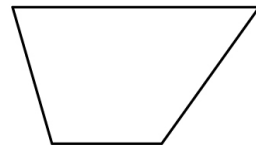
(2)



4. 畫出下面平行四邊形指定底邊上的高。(3分)

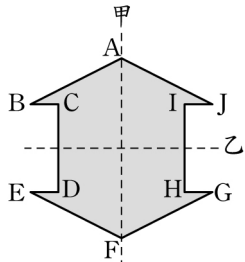


5. 畫出下面梯形指定底邊上的高。(3分)



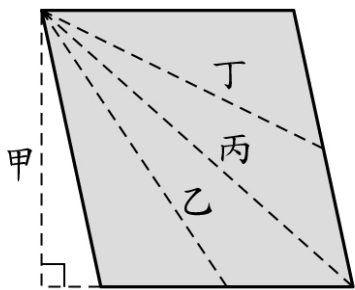
二、填填看：(28分)

1. 下圖是一個線對稱圖形，甲線和乙線都是這個圖形的對稱軸。

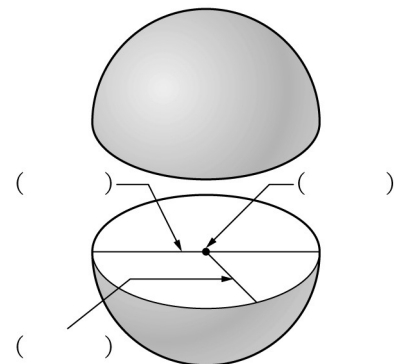


- (1) 沿著甲線對摺後，點B的對稱點是點()，的對稱邊是()。
 (2) 沿著乙線對摺後，點B的對稱點是點()，的對稱邊是()。

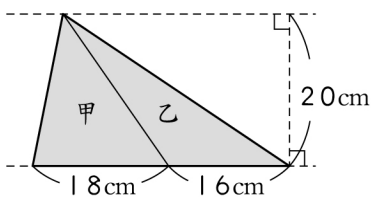
2. 下圖中的哪一條線段，是平行四邊形的高？()



3. 下圖箭頭所指的部位名稱各是什麼？

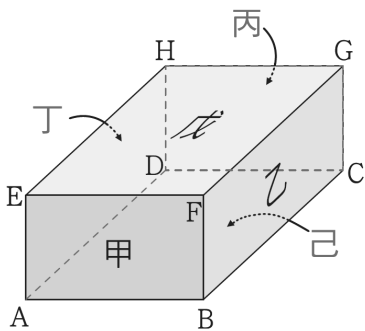


4. 下圖中的兩條虛線互相平行且相距20公分，請問：



- (1) 甲、乙兩個三角形，哪個面積比較小？答：()三角形
 (2) 甲三角形的高是()公分

1. 下面是一個長方體。(填垂直或平行)。

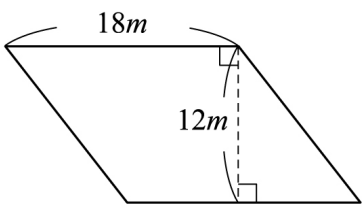


- (1) 甲面與乙面是互相()。

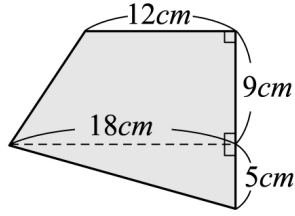
- (2) 邊AE和邊EF互相 ()。
- (3) 甲面和邊FG互相 ()。
- (4) 邊EH和邊FG互相 ()。

三.算算看: (12分)

1. 下圖平行四邊形的面積是多少?



2. 下圖中鋪色部分的面積是多少?



二、連連看: (共8分)

1. 把下面的展開圖和組合後的形體連起來?

