

澎湖縣將軍國民小學 100 學年度第 1 學期第三次定期評量

五年級社會科試題五年甲班 座號：__ 姓名：_____

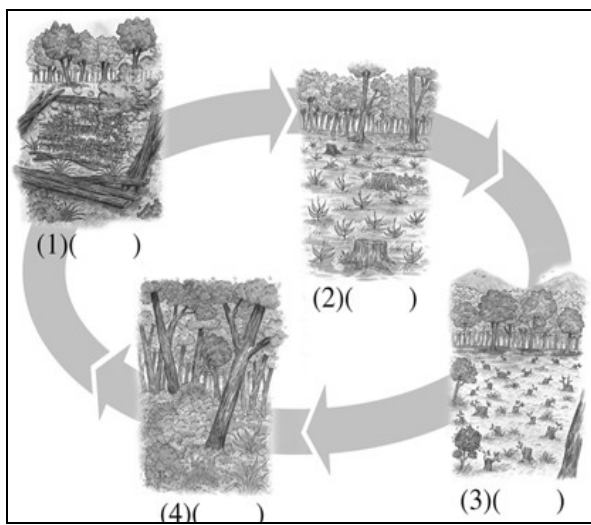
一、連連看：(6分)

1. 請將下列自然災害及其造成的影響畫線連起來。

- (1) 會造成山崩地裂、房屋倒塌。 ● ● ㄅ. 土石流
 (2) 土石傾洩而下，許多房屋和路面被掩埋。 ● ● ㄆ. 地震
 (3) 發生於夏秋之間，常帶來狂風、豪雨。 ● ● ㄇ. 颱風

二、看圖回答問題：

1. 臺灣早期的原住民，在農耕方面常會採取「燒墾」的方式來種植農作物，下圖為「燒墾」的循環示意圖，請依照圖示在左圖空格中填入適當的代號。(8分)




- (A) 種植作物。
 (B) 土地休養後，肥沃度增加。
 (C) 砍伐山坡地的草木，乾枯後放火燒成灰燼。
 (D) 耕種數年後，另外找新的土地，讓原來的耕地休養。

2. 下列的七張示意圖，是臺灣生態環境受到影響的七個原因，請依照圖上所繪，將各種污染原因的正確代碼，


填在適當的空格中：(12分)

- ㄅ. 油輪漏油 ㄆ. 工廠排放汙染 ㄇ. 濫墾濫伐
 ㄏ. 超抽地下水 ㄏ. 珊瑚白化 ㄏ. 汽機車廢氣汙染 ㄏ. 農藥汙染

(1) () (2) () (3) ()



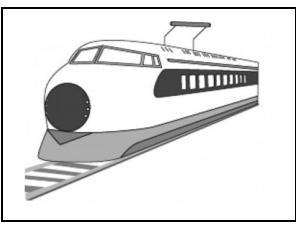


(4) () (5) () (6) ()



3. 一百年前和現代的交通工具有很大的不同，請根據以下五張圖，判斷這個交通工具是一百年前就有的，還是現代才有的交通工具，請將各圖的代碼填入下列的分類選項中：(10分)


(A) 高鐵列車 (B) 背負 (C) 飛機 (D) 牛車 (E) 蒸汽火車



(1) 一百年前的交通工具：_____。

(2) 現代社會的交通工具：_____。

4. 臺灣地區從平地到高山都有許多不同的樹種，請根據下圖，將不同高度所擁有的林相，以代號填入該圖的空格中。(10分)



- (A) 針葉林 (鐵杉)
- (B) 闊葉林 (樟)
- (C) 高山草原
- (D) 針葉林 (冷杉)
- (E) 闊葉、針葉混合林 (楓、檜)

三、回答問題：

1. 請列舉臺灣特有種的動物和植物各兩種。(8分)

動物：() ()

植物：() ()

2. 請寫出兩種可再生資源和兩種不可再生的資源。(8分)

可再生資源：() ()

不可再生資源：() ()

3. 為了減輕颱風引起的災害，我們應該有哪些預防的措施？(4分)

答：

4. 請寫出兩個臺灣的國家公園。(4分)

答：1. () 國家公園 2. () 國家公園

四、勾選題：

1. 下列哪些現象可以說明臺灣都市國際化的情形？正確的請在□中打√。(每格2分共10分)

- (1) 使用可愛的日本文具用品。
- (2) 可以買到美國籃球明星的海報。
- (3) 觀看四年一次的奧運比賽。
- (4) 每天收看感人的韓劇。
- (5) 晚間8點觀賞鄉土劇。

2. 以下是有關臺灣國家公園的描述，正確的請在打√。(每格2分共10分)

- (1) 太魯閣國家公園位於臺灣東部。
- (2) 擁有火山、地熱景觀的是玉山國家公園。
- (3) 臺灣第一高峰位於雪霸國家公園內。
- (4) 東沙環礁國家公園擁有珊瑚礁景觀。
- (5) 位於臺灣離島的兩座國家公園是金門國家公園和雪霸國家公園。

五、活用題：(每格2分共10分)

1. 下列解決環境問題的方法，請將相關的敘述填入最適當的()中。

- ㄅ. 設立水源涵養保安林
- ㄆ. 鼓勵漁民從事箱網養殖
- ㄇ. 監控工業區廢水的排放
- ㄊ. 搭乘大眾運輸工具
- ㄋ. 購物時自備購物袋

- () (1) 減少塑膠袋的使用。
- () (2) 減少空氣汙染。
- () (3) 預防山坡地水土流失。
- () (4) 減緩沿海地層下陷。
- () (5) 避免田地汙染。