
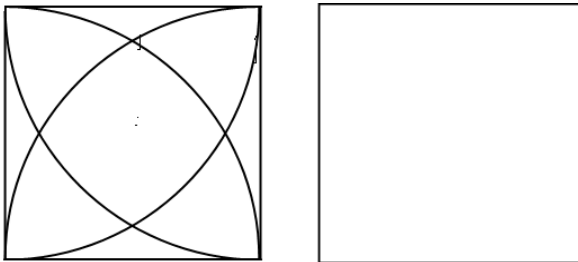


一、畫畫看，做做看：（每題3分，共15分）

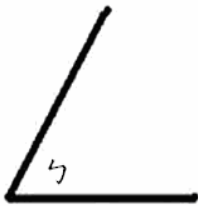
1. 將盒的餅乾塗上顏色。



2. 利用圓規畫出和左邊相同的圖。



3. 畫出一個和∠ㄅ一樣大的角。



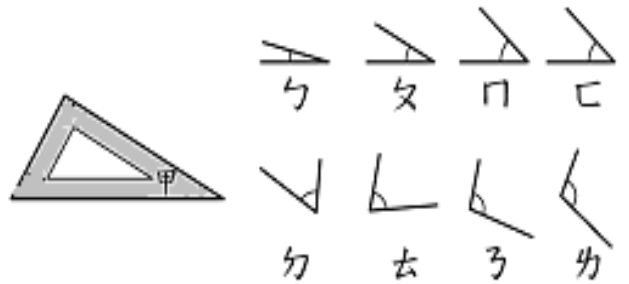
4. 用圓規畫出直徑4公分的圓，並標上圓心、半徑與直徑。

5. 用圓規在下面的直線上，畫出3倍甲線段的長。



三、量量看，再回答問題：（每格1分，共8分）

1. 用圖中的三角板比比看，比∠甲大的角有哪些？請將他圈起來：



四、比比看【在口內填入>、<或=】：（每格2分，共4分）

1.

— □ +

2.

1 □ +

五、寫出直式算算看：（每題2分，共12分）

1. $89 \div 4 = () \cdots ()$

2. $238 \div 4 = () \cdots ()$

3. $936 \div 9 = () \cdots ()$

4. $328 \div 6 = () \cdots ()$

5. $150 \div 3 = () \cdots ()$

6. — = ()

六、把做法和答案記下來：（每題5分，共25分）

1. 水果行有363顆蘋果，先賣出了39顆，剩下

