

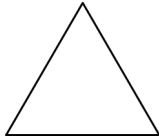


澎湖縣將軍國民小學 100 學年度第 1 學期第三次定期評量
二年級數學科試題 範圍：部編版第三冊 7-9 單元

二年甲班 座號：___ 姓名：___

成績	家長簽名	100分()人	70-79分()人	導師評語
		90-99分()人	60-69分()人	
		80-89分()人	60以下()人	
注意事項	1、本 _次 考 _試 時 _間 為 ₆₀ 分 _鐘 。 2、本 _試 題 _有 3 _頁 ，共 _計 102 _分 。 3、若 _試 卷 _有 任 _何 問 _題 ，請 _留 在 _原 位 _並 舉 _手 發 _問 。			

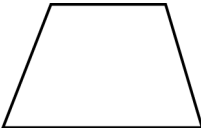
一、連_連看_看：連_出正_確的_名稱₁。(每_小題₂分_，共₆分₎

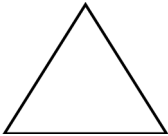
①  ②  ③ 

● ● ●

勺 正_三角_形 夕 正_方形 冂 長_方形

二、圈_圈看_看：依_據出_題的_意思_，圈_出正_確的_答案_。
(每_格2_分，共₁₂分₎

1、
有_()個_邊、()個_角。

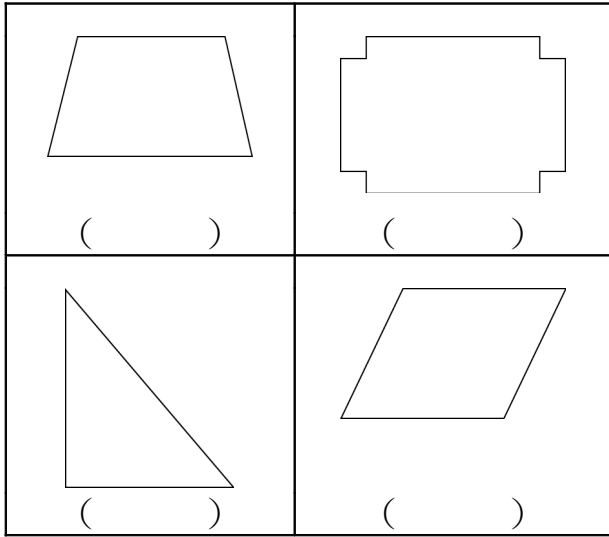
2、
有_()個_邊、()個_角。

3、
有_()個_邊、()個_角。


三、勾_勾看_看：依_據出_題的_意思_，勾_出正_確的_答案_。

(1-4 題每格 1 分，5-6 題每格 2 分，共 18 分)

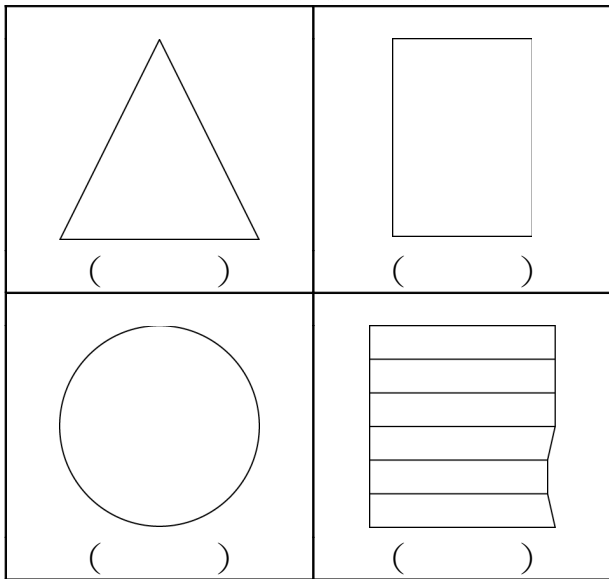
1、下_圖中_有垂_直現_象的_打√。




2、下圖中有垂直現象的打「√」。



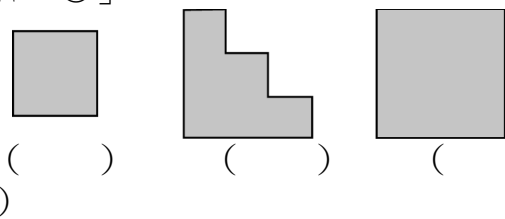
3、下圖中有平行現象的打「√」。



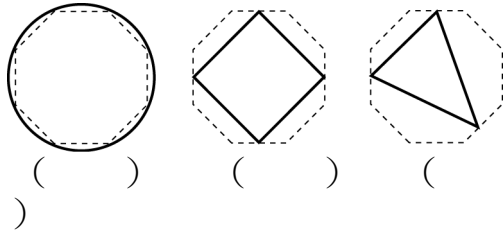
4、下圖中有平行現象的打「√」。



5、最大的一面打「√」，最小的一面畫「○」。



6、由實線圍成的圖形，最大的一面打「√」，最小的一面畫「○」。



四、連連看：將兩邊答案一樣的用線連起來。

(每題 2 分，共 8 分)

- | | |
|--------------|-----------|
| 1、 $8+8+8+8$ | • 9 的 3 倍 |
| 2、 $9+9+9$ | • 8 的 4 倍 |
| 3、 $3+3+3+3$ | • 4 的 3 倍 |
| 4、 $4+4+4$ | • 3 的 4 倍 |

五、填填看：請用九九乘法表完成表格。

(每題 1 分，共 24 分)

×	3	5	7	9
0				
1				
2				
4				
5				
10				

六、做做看：將正確的答案填入 () 中。

(每格 2 分，共 18 分)

1、 $4+4+4+4=4 \times () = ()$

2、 $5 \times () = 8 \times () = 40$

3、 5×6 表示 () 的 () 倍，是 () 個 ()。

4、 10×6 比 10×2 多 () 個 10。

六、應用題：用乘法算式

做做看。

(每題 4 分，共 16 分)

1、一個手搖鈴有 5 個鈴嘴，6 個手搖鈴共有幾個鈴嘴？

算式：

2、每天存2元，一星期可以存多少錢？

算式：

3、一瓶汽水可以分給4個人喝，8瓶汽水可以分給多少人喝？

算式：

4、大哥哥一趟可以搬9本書，54本書要搬幾趟才能搬完？

算式：