

# 澎湖縣將軍國民小學 100 學年度第 1 學期第 2 次定期評量

一年級數學科試題一年甲班 座號：\_\_\_\_\_ 姓名：\_\_\_\_\_

一、圖圖看看：每題4分，共12分

1. 現在是什麼時候？把答案圈起來。




(晚上8點 早上8點)

2. 現在是什麼時候？把答案圈起來。




(晚上12點 中午12點)

3. 現在是什麼時候？把答案圈起來。



(晚上10點半 早上10點半)


二、畫畫看看，做做看看：每題3分，共12分

1. 圈出比  小的數。



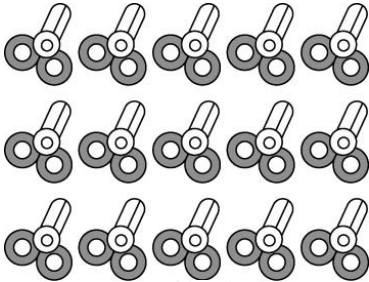
2. 畫畫看看。

【 3點鐘 】




3. 多的畫掉，不夠的畫○補上去。

(1) 21把  。

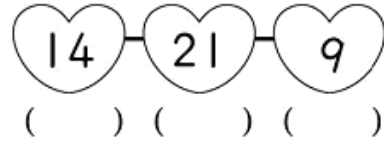


(2) 15隻  。

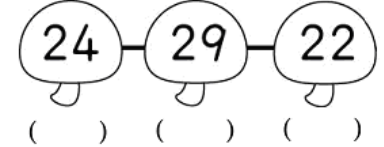


三、比比看看：每題2分，共6分

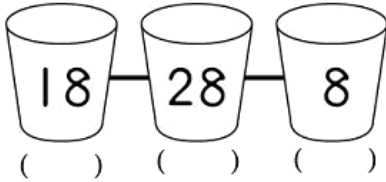
1. 最大的數打√，最小的數打×。



2. 最大的數打√。



3. 最大的數打√。



四、算算看看：每題2分，共8分

1.  $10 - 2 = ( \quad )$

2.  $5 + 11 = ( \quad )$

3.  $19 - 16 = ( \quad )$

4.  $16 + 9 = ( \quad )$

五、把做法和答案記下來：每題4分，共20分

1. 弟弟有9顆糖果，妹妹有3顆糖果，弟弟比妹妹多幾顆糖果？(用算式寫下來)

( )顆

2. 排隊打預防針，其緯排在第12個，其緯前面有幾個小朋友？(可以畫○數數看)

( )個

3. 家嘉有8張愛心貼紙和7張星星貼紙，合起來有幾張貼紙？(用算式寫下來)

( )張貼紙

4. 教室裡有16個學生，其中女生有4個，有幾個男生？(用算式寫下來)

( )個男生

5. 佑宸的前面有7個人，他排在第幾個？

第( )個人

七、選擇題：每題2分，共10分

1. ( ) 16讀作 (1)「一六一又、」 (2)「一六、一又、」 (3)「一六、一又、」 (4)「一六、一又、」

2. ( ) □裡要填入什麼符號才正確？  
3□3=6

(1)+ (2)- (3)= (4)以上都不行

3. ( ) 車上有14個人，3個人下車後，還剩下幾個人？ (1)8個人 (2)9個人 (3)10個人 (4)11個人

4. ( ) 家嘉和姐姐在盪秋千，又銘和泉廷在溜滑梯，一共幾個小朋友？

(1)3個 (2)4個 (3)5個 (4)6個



5. ( ) 請問誰比較早起床？ (1)哥哥 (2)弟弟



八、填填看看：8分

1. 寫出正確的時刻。



( ) 點 鐘

2. 一 年 乙 班 投 票 選 班 長 和 副 班 長 ， 最 多 票 的 當 班 長 ， 第 二 多 票 的 當 副 班 長 。

小 元	阿 石	安 安	小 玉
正	正	正	正
—	正	正	正
	正	下	—

(1) 當 選 班 長 的 是 ( ) 。

(2) 當 選 副 班 長 的 是 ( ) 。

3. 有 20 顆 糖 果 ， 吃 掉 1 顆 ， 剩 下 ( ) 顆 ； 再 吃 掉 1 顆 ， 剩 下 ( ) 顆 。

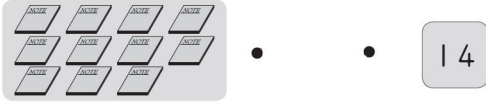
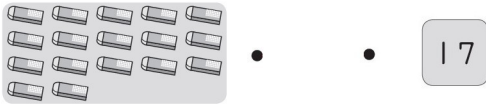
第 3 個



▲ 排 在 第 ( ) 個 ， 它 的 前 面 有 ( ) 個 圖 形 ， 後 面 有 ( ) 個 圖 形 。

九、連連看：每題3分，共12分

1. 數一數，連連看。



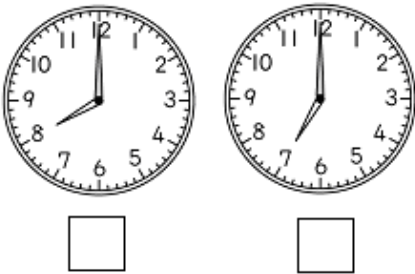
十、看圖回答問題：每題4分，共12分

1. 想一想，做哪一件事情花的時間比較長？在□裡打√。

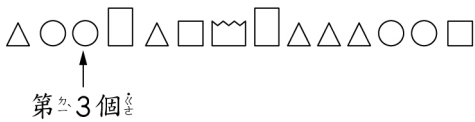


2. 哪一個鐘面是對的？在□裡打√。

(1) 爸爸早上8點出門上班。



3.



第1個圖形是( )形，第12個圖形是( )形。