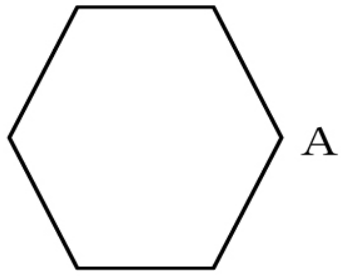


澎湖縣將軍國民小學100學年度第一學期第一次定期評量
 五年級數學科試題 五年甲班____號 姓名：_____

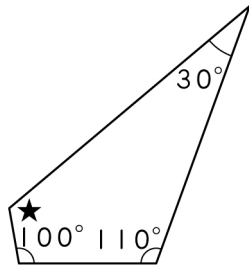
一、畫畫看，做做看：(第一題每題6分，共12分)

(1)從A點開始，先把下面的圖形分成
 三角形，再算出內角和。



可以分成()個三角形
 它的內角合是： $180^\circ \times () = ()^\circ$

(2)圖中★的角是()度。



★的角是()度。

二、算算看：(每題4分，共16分)

1. $499 + 387 + 101 = ()$

2. $(1) 576 - (152 + 13)$

3. $- = ()$

4. $47 \times 13 + 53 \times 13 = ()$

四、把做法和答案記下來：(每題4分，共32分)

1. 冠華喝了公升的可樂，忠恩喝了公升，世豐喝了公升

(1) 請將三人喝的量由多至少排列下來(4分)

() > () > ()

(2) 喝得最多的比喝得最少的多了幾公升?(4分)

2. 咖啡一瓶50元，綠茶一瓶25元

(1) 咖啡和綠茶各買4瓶共要多少錢?(4分)

(2) 芯亞買了4瓶咖啡, 大元買了4瓶綠茶, 心亞比大元多花了多少錢?(4分)

3. 婷婷老師買了1公升裝的可樂, 第一天喝掉公升, 第二天喝掉公升, 請問瓶子裡還剩下幾公升的可樂呢? (4分)

4. 阿緯和小又去肯德基合買了一份299元的外帶全家餐和一份45元的薯條打算, 兩個人商量好後決定平均分攤所有費用, 請問阿緯花了多少錢?(4分)

5. 冬令營有400人報名, 先分成4個梯次, 每個梯次再分成5組, 請問每組會有多少人?(4分)

6. 一張電影票199元, 學校老師團購了215張, 請問一共要付多少元?

六、填填看：(每題2分，共10分)

1.
= = =

2. 下面兩個算式的結果相同嗎？在□中打√。(不須計算)

$$576 \div 12 \div 6$$

$$576 \div 12 \times 6$$

相同 不相同

1. 下面兩個算式的結果相同嗎？在□中打√。(不須計算)

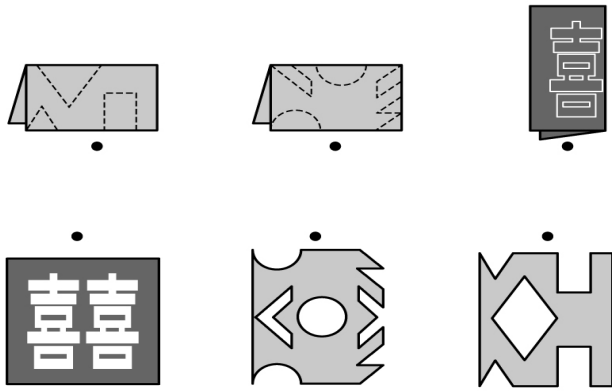
(1) $100 - (55 - 20)$

(2) $100 - 55 - 20$

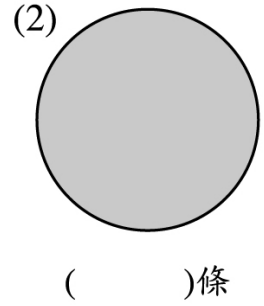
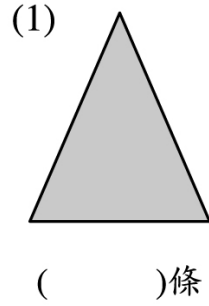
相同 不相同

七、看圖回答問題：(每題2分，共26分)

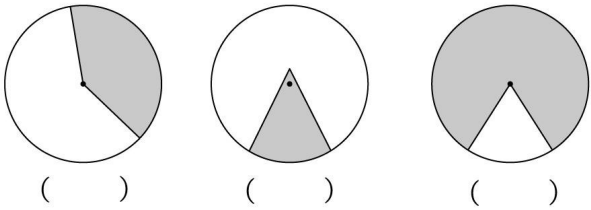
把下面對摺的色紙，沿虛線剪開，
打開後會是什麼圖形？



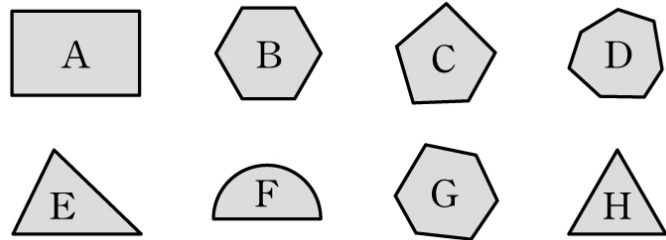
下列圖形各有幾條對稱軸？



1. 下面圖形鋪色部分是扇形的在()裡打
不是的打×。



2. 下面是一些平面圖形。



- (1) 不是多邊形的是()。
 (2) 是五邊形的有()；是六邊形的有()
 (3) 哪個是正三角形？()；哪個是正六邊形？()。