

澎湖縣將軍國民小學 100 學年度第 1 學期第二次定期評量

五年級社會科試題五年甲班 座號：\_\_\_ 姓名：\_\_\_\_\_

1、是非題：(每個答案2分，共16分)

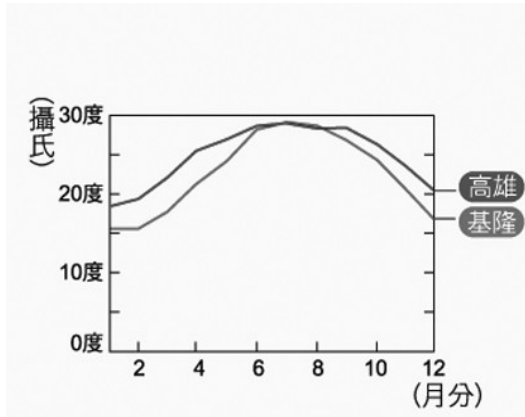
1. ( ) 居住在都市裡，有較多工作機會，又能享受便利的生活機能，所以沒有任何居住上的問題產生。
2. ( ) 現代鄉村居民為了尋找更好的工作機會，大多會遷移到都市找工作。
3. ( ) 鄉村地區所提供的農、漁產品，是我們生活物資的重要來源。
4. ( ) 從人口分布圖和地形圖，我們可以看出臺灣的人口分布，受自然環境的影響很大。
5. ( ) 我們即使不出門，透過閱讀地圖，也能了解臺灣的人口分布與地形。
6. ( ) 佳玲住在高雄縣，如果她想觀察河川的生態，可以到最近的秀姑巒溪。
7. ( ) 目前臺灣主要都會區因為有大量人口居住，形成房價下跌的現象。
8. ( ) 在有高度表的地形圖上，愈偏棕色，表示該地高度愈低。

二、選擇題：(每個答案2分，共22分)

1. ( ) 下列何者是都市居民用來吸收資訊的管道？ (1) 書局和書展 (2) 網際網路 (3) 博物館 (4) 以上皆是。
2. ( ) 為什麼都市會成為各種創新與發明的源頭？ (1) 各行各業競爭激烈 (2) 居民較聰明 (3) 行業屬性單一 (4) 生活較單調，沒有煩惱。
3. ( ) 食品加工業工廠設立在鄉村地區，最主要的原因是什麼？ (1) 農漁村生產相關原料 (2) 政府的政策規定 (3) 世界各國的潮流所趨 (4) 鄉村地區的居民工作速度較快。
4. ( ) 近來，新北市人口增加近一百五十萬人，最主要的因素是下列何者？ (1) 外地大量人口遷移到新北市 (2) 新北市政府鼓勵生育 (3) 提供免費住宿吸引人口遷居 (4) 政府規定。
5. ( ) 關於高雄氣候的敘述，下列何者錯誤？ (1) 冬季乾燥 (2) 冬天比北部溫暖 (3) 五到九月雨量較多 (4) 冬天常會發生午後大雷雨。
6. ( ) 下列者是臺灣中部的大都市？ (1) 高雄市 (2) 臺北市 (3) 臺中市 (4) 花蓮市。
7. ( ) 下列哪一個不屬於現代鄉村的改變？ (1) 設立許多工廠 (2) 有些農田改種花卉 (3) 鄉村民宿逐漸減少 (4) 休閒農場增多。
8. ( ) 臺灣以哪一種地形所占的面積最廣？ (1) 丘陵 (2) 台地 (3) 平原 (4) 山地
9. ( ) 都市居民生活緊張，競爭激烈，下列都市居民所從事行業的相關敘述，何者正確？ (1) 行業複雜、分工精細 (2) 行業單純，始終如一 (3) 種類單純，農業為主 (4) 種類複雜、但以捕魚為主。
10. ( ) 美花想到大都會區開開眼界，下列哪一個地方可能無法讓她滿意？ (1) 臺北市 (2) 臺中市 (3) 高雄市 (4) 馬公市。
11. ( ) 很多都市居民的工作地點和住家是分開的，這種現象可能會造成什麼影響？ (1) 上下班時間，車流量及人潮多 (2) 晚上進入市中心的人潮眾多 (3) 早上離開市中心的人潮眾多 (4) 大街小巷都是空盪盪的。

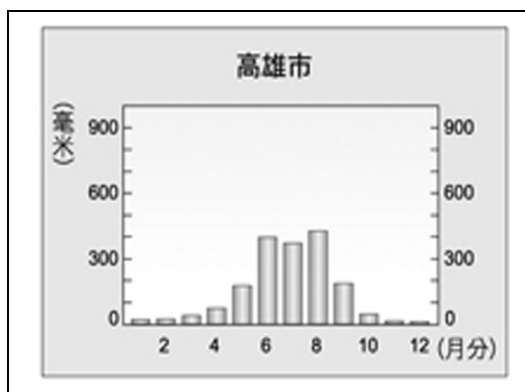
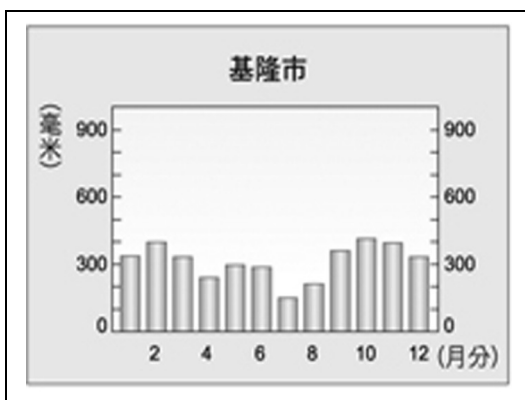
三、看圖回答問題：(每個答案2分，共54分)

1. 觀察「基隆市、高雄市各月平均氣溫圖」，下列哪一個敘述是正確的？(每格2分共4分)



- ( ) (1) 基隆市的氣溫每個月都比高雄低，所以  
 (A) 基隆位在寒帶地區，而高雄則位在熱帶  
 (B) 基隆位在副熱帶地區，而高雄則位在熱帶
- ( ) (2) 基隆的冬天會比高雄冷，主要原因是：  
 (A) 基隆地區有許多的高山  
 (B) 基隆的緯度比較高

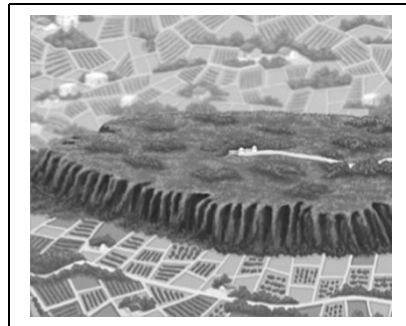

2. 觀察「基隆市及高雄市的雨量圖」，下列哪些敘述是正確的？(對的打勾)(每格2分共8分)




- ( ) (1) 基隆全年有雨，而高雄五到九月雨量較多，十到隔年四月雨量較少。
- ( ) (2) 基隆冬天的雨量較高雄多。
- ( ) (3) 基隆的年雨量較高雄為多。
- ( ) (4) 由此圖可推測冬天時，南部冬天的用水量會較北部吃緊。

3. 以下是臺灣的五種地形，請看圖及說明，將所屬地形種類填入空格中：(每格2分共8分)

- (A) 盆地 (B) 平原 (c) 丘陵 (d) 山地 (e) 台地



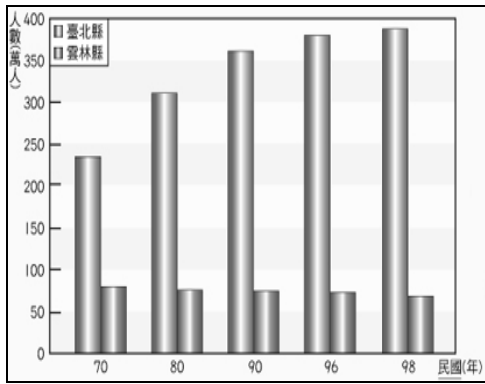
- 地形。 ( ) (2) 海拔高度約在100公尺以上
- ( ) (1) 四周高，中間低的  
 ，1000公尺以下，頂部平坦的  
 高地。



( ) (3) 海拔較高，地勢高峻地形。

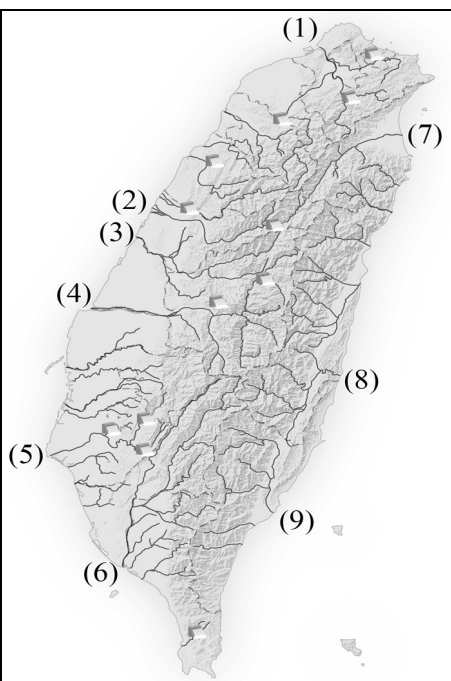
( ) (4) 海拔低，表面平坦起伏小的地形。

4. 下圖是「民國70年到98年，臺北縣(今新北市)和雲林縣的人口統計圖」，請依照圖上的資料，選出正確的答案。(2分)



( ) 由上圖可以推測：

- (1) 新北市人口逐年增加，是因為新北市土地較廣而肥沃，可以種植較多農作物，養活較多的人
- (2) 雲林縣人口沒有什麼改變，是因為此地的出生率較低
- (3) 新北市人口增加很快，是因為新北市醫院較多，人口死亡較少
- (4) 新北市人口逐年增加與人口大量遷移有關。

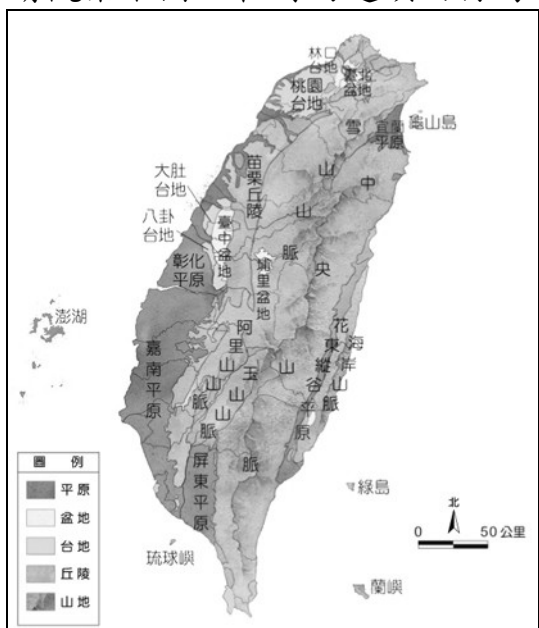


5. 請在下列的臺灣主要河川分布圖上，將臺灣河流名稱對照代號填入空格中。(每格2分 共12分)

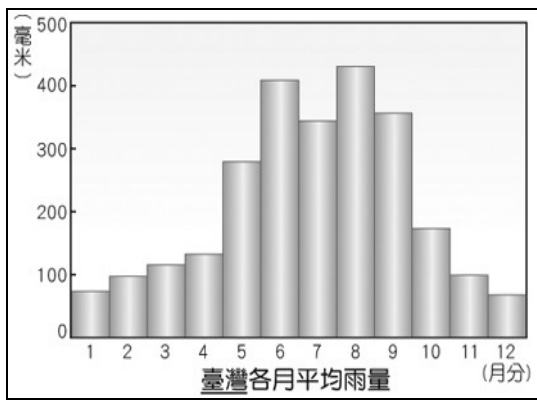
- (1) ( ) (4) ( )  
 (5) ( ) (6) ( )  
 (7) ( ) (8) ( )

(ㄅ)高屏溪 (ㄆ)濁水溪 (ㄇ)淡水河  
 (ㄎ)蘭陽溪 (ㄏ)秀姑巒溪 (ㄏ)曾文溪

6. 請觀察下圖，在對的選項內打勾。(每格2分共8分)



- ( ) (1) 臺灣的地形因為山脈偏在東側，所以東部居民較少
- ( ) (2) 臺灣西部多平原，較利於農業發展
- ( ) (3) 臺灣因為多山，所以四週的海岸幾乎都是岩石海岸
- ( ) (4) 臺灣中部因多山地地形故不利都市發展



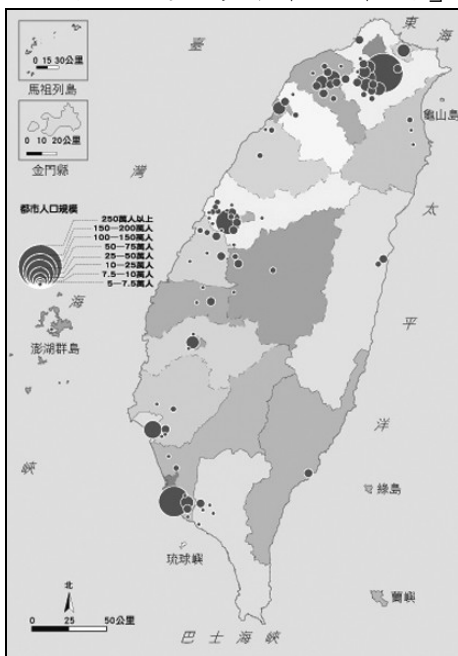
7. 觀察「臺灣各月平均雨量圖」，下列哪一個敘述是正確的？請在( )內打勾(每格2分 共6分)

( ) (1) 八月份雨量多，最主要的原因是東北季風很強

( ) (2) 臺灣在夏季最容易發生缺水的情況

( ) (3) 臺灣各地區的降雨主要集中在夏季。

8. 下圖是「臺灣都市分布圖」，請依照圖上的資料回答下列問題。



(每格2分共6分)

(1) 圈圈的大小代表什麼意思？

答: \_\_\_\_\_

(2) 請寫出圖中人口最多的三個都市

答: ( )、( )、( )

(3) 由圖中最大圈圈代表的都市，可以判斷該都市人口數大約是多少人？

答: ( )

四、回答問題：(每個答案2分，共8分)

1. 都市與鄉村的差異有哪些？請舉出兩個例子。

2. 臺灣的河川有哪些特色？請寫出兩種。