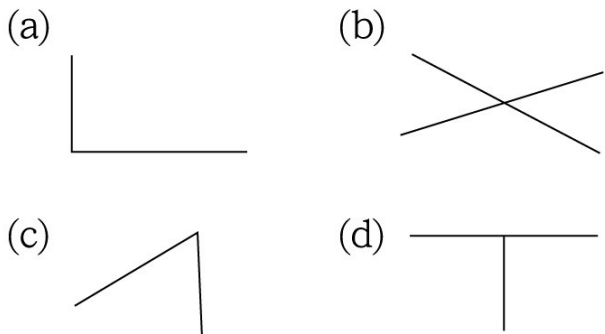


澎湖縣將軍國民小學 100 學年度第 1 學期第二次定期評量

四年級數學科試題年甲班 座號：__ 姓名：_____

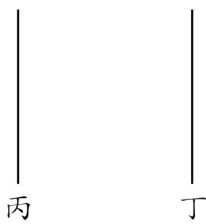
一、畫畫看，做做看：(每個答案1分，共6分)

1. 檢查看看，哪些角是直角？在圖上做記號。



2. 畫出下圖丙、丁兩條平行直線間的距離，並量量看有多長，填在()裡。

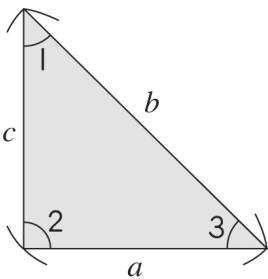
(1)



(2) () 公分

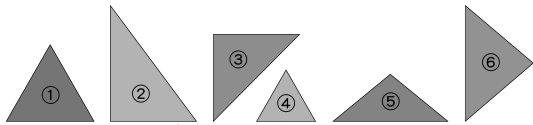
二、量量看，再回答問題：(每個答案2分，共14分)

1. 量量看， $\angle 1 = ()$ 度， $\angle 2 = ()$ 度， $\angle 3 = ()$ 度，所以它是一個()三角形。



2. 量量看，並用代號回答問題。

- (1) 下面是銳角三角形的有()。
 (2) 下面是直角三角形的有()。
 (3) 下面是鈍角三角形的有()。



三、比比看：(每個答案1分，共4分)

1. 在□裡填入 >、< 或 =。

- (1) 3公里 □ 3200公尺
 (2) 240公尺 □ 20公里4公尺
 (3) 8003公尺 □ 8公里3公尺
 (4) 18公里 □ 1公里85公尺

四、算算看：(每題3分，共24分)

1. 2公里900公尺 + 1公里90公尺 = ()公里()公尺

2. 12公里75公尺 - 1公里375公尺 = ()公里()公尺

()公尺

3. 2公里153公尺 $\times 4 = ()$ 公里()公尺

4. 10公里863公尺 $\div 9 = ()$ 公里()公尺

5. $659 - (50 + 139)$

6. $48 \times (24 \div 6)$

7. $301 \times (525 \div 15)$

8. $850 \div (17 \times 5)$

五、把做法和答案記下來：(每題4分，共52分)

1. 阿姨買88顆茶葉蛋，吃掉9顆後，其餘要平分給18戶鄰居，每戶可以分到幾顆？還剩下幾顆？

2. 花農把86盆茉莉花，平分送到14家花店，剩下的茉莉花最後一家花店全都買了，請問最後一家花店買了幾盆茉莉花？
3. 安康公司379人參加團體旅遊，行程中要坐渡輪渡河，渡輪一趟可載35人，要分幾趟才可以讓全部的人完成渡河？
4. 每桶橄欖油有1750毫升，老闆進貨3桶，再平分裝成15瓶，每瓶橄欖油有多少毫升？
5. 紅、藍兩輛車同時同方向從甲地出發，1小時之後，紅車開了73公里，藍車開了82公里600公尺，兩輛車相距多遠？
6. 哥哥練習跑步，在一個長200公尺的操場跑了12圈後，又接著跑2公里的環山道路，他一共跑了多少公里多少公尺？
7. 佳琪有320張貼紙，弟弟的貼紙比佳琪少55張，他們兩人一共有多少張貼紙？
8. 小敏把身上的錢全部買每枝15元的關東煮，剛好可以買30枝；如果改買每個25元的小蛋糕，可以買多少個？
9. 一盒水蜜桃有24顆，香妮買了6盒平分給18個鄰居，每個鄰居可以分到幾顆水蜜桃？
10. 阿姨製作果凍蠟燭，一連做了一星期，每天做5小時，總共做了840個，平均一小時做了多少個果凍蠟燭？
11. 有一個等腰三角形的周長是74公分，它的一腰長是27公分，它的底邊長是幾公分？
12. 把做法和答案記下來，再驗算。
美美冰棒工廠上午生產了3700枝冰棒，每12枝裝一盒，可以裝成幾盒？還剩下多少枝？
驗算：
13. 一箱橘子重6公斤，每輛貨車可載60箱，15輛貨車最多可以載多少公斤的橘子？

