

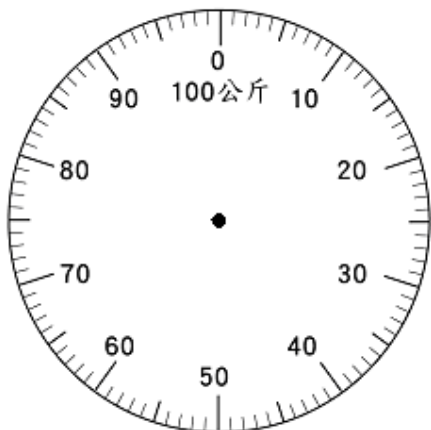
一、回答問題：（共5分）

1. 小婷是一位忙碌的三年級學生，她的右手提了2公斤的便當袋，左手抱著一本3公斤的字典，背上背著一個5公斤的書包，腰上還掛著一個1公斤的水壺。加上這些東西，小婷現在的體重是40公斤，如果想變成35公斤，要放下什麼東西？

答：

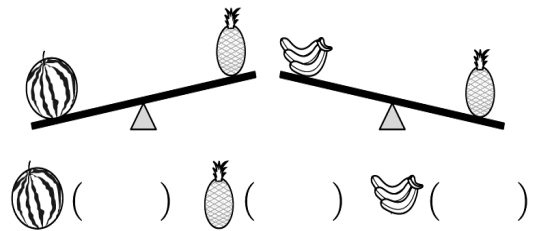
二、畫畫看看，做做看看：（每題5分，共10分）

伶俐的體重是30公斤，佩佩的體重是24公斤，兩個人一起站到體重機上，指針應該指到哪裡？畫畫看看。



三、比比看看：（每題2分，共10分）

1. 比比看看，最重的畫○，最輕的打×。



2. 在□裡填入>、<或=。

(1) 9×55 □ 8×56

(2) 6×14 □ 3×22

四、算算看看：（每題2分，共10分）

1. () + 726 = 2151

2. () - 6270 = 345

3. $3233 + (\quad) = 5050$

4.

$$5 \overline{)32}$$

5. $3877 - (\quad) = 649$

五、寫出直式算式看看：(每題3分，共15分)

1. $35 \div 4 = (\quad) \cdots (\quad)$

2. $713 \times 6 = (\quad)$

3. $25 \div 3 = (\quad) \cdots (\quad)$

4. $36 \div 9 = (\quad) \cdots (\quad)$

5. $3 \times 68 = (\quad)$

六、用算式填充問題記錄問題，再算式看看：(每題6分，共18分)

1. 媽媽採了395顆番茄，她比妹妹多採了158顆，妹妹採了幾顆番茄？

2. 小明讀了一本恐龍百科全書，已經讀了314頁，還要讀幾頁才會讀到680頁？

3. 阿春阿姨這個月賣出1623杯紅茶，奶茶比紅茶多賣出499杯，阿春阿姨賣出幾杯奶茶？

七、先算算看，再用除法算式記記看：（每題6分，共12分）

1. 一個籠子可以裝4隻雞，22隻雞要幾個籠子才夠裝？

2. 39顆糖果，平均分給4個小朋友，每個小朋友可以分到幾顆糖果？還剩下幾顆？

八、填填看：（每格1分，共10分）

1. 在□裡填入適當的數字，使算式完整。

$$\begin{array}{r} 6 \\ \square \overline{) 58} \\ \underline{5 \quad \square} \\ \square \end{array}$$

2. $43 \div 8 = (\quad) \cdots (\quad)$

算式中，
被除數是()，
除數是()，
商是()，
餘數是()，

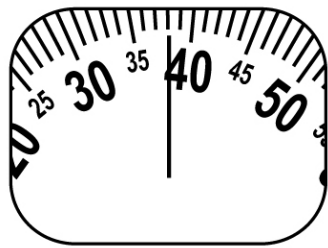
這個算式讀作：()

。

九、看圖回答問題：（每格2分，共10分）

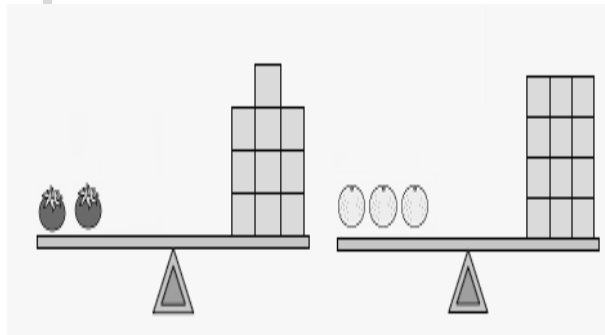
1. 每個禮拜，小任一家人都會量體重，下表是妹妹的體重，請問妹妹的體重是多少公斤？

() 公斤



妹妹

2.



- (1) 和 () 個 一樣重。
- (2) 和 () 個 一樣重。
- (3) 和 一共是 () 個 。

3. 指針指的的位置代表多少重？ () 克

