

澎湖縣將軍國民小學 100 學年度第 1 學期第一次定期評量

四年級數學科試題四年甲班 座號：__ 姓名：__

一、畫畫看，做做看：(每題2分，共4分)

1. 以黑點為頂點，畫出一個55度角。

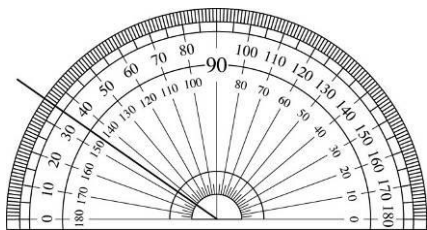


2. 以黑點為頂點，畫出一個132度角。

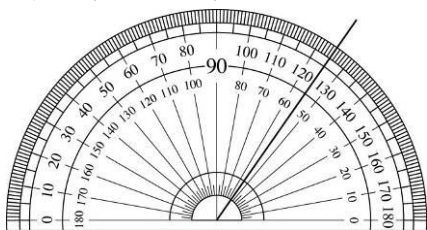


二、看圖回答問題：(每題2分，共4分)

1. 如圖，吸管從外圈35度開始，先順時針方向旋轉50度，再逆時針方向旋轉25度，最後會指在外圈刻度()度。



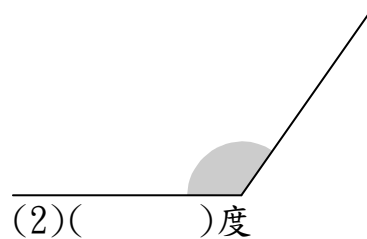
2. 如圖，吸管從內圈55度開始，先逆時針方向旋轉85度，再順時針方向旋轉45度，最後會指在內圈刻度()度。



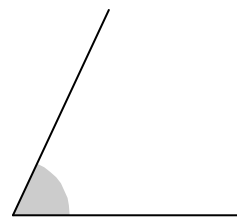
三、量量看，再回答問題：(每個答案2分，共14分)

1. 用量角器量量看，下面的角各是幾度？

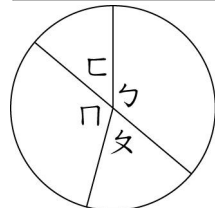
(1)()度



(2)()度



2.



(1) \angle 乙是()度。

(2) \angle 丁是()度。

(3) \angle 甲是()度。

(4) \angle 丙是()度。

(5) \angle 乙 + \angle 甲 + \angle 丁 + \angle 丙 = ()度。

四、填填看：(每個答案1分，共15分)

1. 職棒冠亞軍爭霸賽的七場比賽，總共賣出了「九萬五千八百三十一」張門票，用阿拉伯數字表示是()。

2. 83024可以分成()個萬、()個千、()個百、()個十和()個一。

3. 33333456讀作()。

4. 56702413中的5是表示多少？()

6是表示多少？()

4是表示多少？()

5. 「五千零九萬」用阿拉伯數字記作()。

6. 「一千二百零三萬四千零五」用阿拉伯數字記作()。

7. 用7、8、2、3、0、1排成的六位數中，最大的數是()，最小的數是()。

8. 49000012讀作()。

五、比比看：(每個答案1分，共5分)

1. 在□裡填入>、<或=。

八千萬五千零二□85000002

2. 在□裡填入>、<或=。

600? 308□601? 208

3. 在□裡填入>、<或=。

六百二十九萬□6200019

4. 在□裡填入>、<或=。

八千三百二十五萬□83330000

5. 在□裡填入>、<或=。

六十萬八千九百□700120

六、寫出直式算算看：(每個答案3分，共12分)

1. $736 \times 30 = (\quad)$

2. $3070 \times 56 = (\quad)$

3. $4004 \times 81 = (\quad)$

4. $7003 \times 16 = (\quad)$

七、算算看：(每個答案3分，共18分)

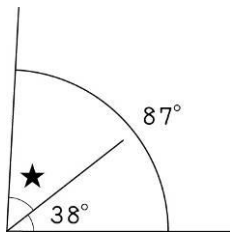
1. 5萬7千 - 3萬4千

2. 11萬5千 + 9萬6千

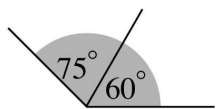
3. $82000 - 19000$

4. $58000 + 4000$

5. 圖中做上★記號的角是幾度？



6. 圖中鋪色部分的角是幾度？



八、把做法和答案記下來：(每個答案4分，共28分)

1. 姐姐寫稿去年的稿費是11萬6千元，今年的稿費比去年多1萬7千元，今年的稿費是多少元？

2. 去年臺北市國際旅遊展為期四天的展覽總共湧入約有20萬人次，其中最後一天約有3萬3千人次，那麼前三天的參觀人次約有多少人次？

3. 農場裡的牛每天吃掉183公斤的牧草，一個月會吃掉多少公斤的牧草？(1個月30天計算)

4. 表哥打工1小時賺115元，一天工作5小時，兩個星期共可以賺多少元？

5. 一包水餃100個，老闆今天做了81包，賣到最後剩下4包，共賣出多少個水餃？

6. 工人鋪路，一星期可以鋪1403公尺，12個星期可以鋪多少公尺的路？

7. 一臺MP3隨身碟賣2019元，全程公司訂了25臺當作員工禮品，一共要付多少元？