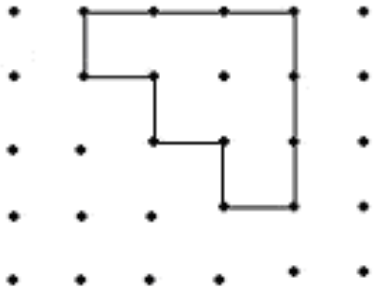



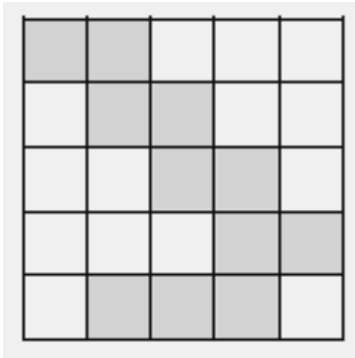
一、看圖回答問題：（共 24 分） 1.

【1】圖中每一個黑點間的距離都是 1 公分。下圖的周長是多少公分？（            ）公分

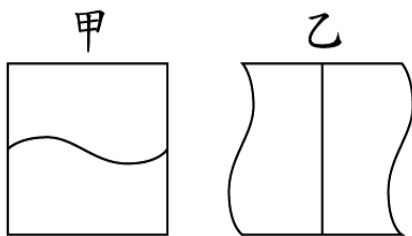


（單位：公分）

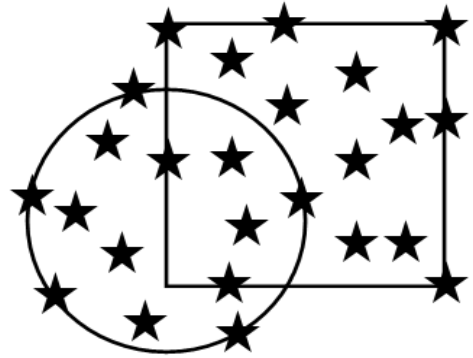
【2】塗色的部分是用（            ）個  拼成的。



【3】把正方形甲剪成兩塊再拼成乙，甲和乙哪一個的面積比較大？（            ）



【4】(1) 正方形的周界上有幾個★？  
 (            )個  
 (2) 圓形的內部有幾個★？  
 (            )個  
 (3) 正方形的外部有幾個★？  
 (            )個



【5】下面是嘉凱全家 5 月分的各項費用支出紀錄表，回答問題。

項 目	花費(元)
伙食費	9026
交通費	5349
水電費	3163
電話費	2■72

- (1) 哪一項的花費最多？(            )。
- (2) 哪一項的花費最少？(            )。
- (3) 5 月分的交通費是多少元？  
 (            )元。
- (4) 5 月分的水電費是多少元？  
 (            )元。
- (5) 5 月分的電話費最多可能是多少元？(            )元；最少可能是多少元？(            )元。

二、畫畫看，做做看：（共 6 分）

【1】「澎湖 5 日遊」將軍旅行社百年優惠價二人同行只要 6000 元，哥哥先付了 3 張  $\boxed{1000}$  作訂金，他還要再付幾張  $\boxed{1000}$  才能付清呢？


【把所需付的錢畫出來】

【2】把圖形的周界用其他顏色的筆描下來。



三、量量看，再回答問題：（共 5 分）

【1】量量看，下面這張卡片的周長是幾公分？



四、比比看【在  $\square$  中填入  $>$ 、 $<$  或  $=$ 】：（共 10 分）

【1】  $5102 \square 5120$

【2】  $6016 \square$  6 個千、1 個百和 6 個一

【3】  $7012 \square$  八千九百

【4】 三千零七十  $\square$  3070

【5】 2 個千、8 個十和 8 個一  $\square$  2008

五、寫出直式算算看：（共 15 分）

【1】用直式算算看並驗算。

$590 - 258 = ( \quad )$

驗算：

【2】  $2652 + 2145 = ( \quad )$

【3】  $8000 - 5550 = ( \quad )$

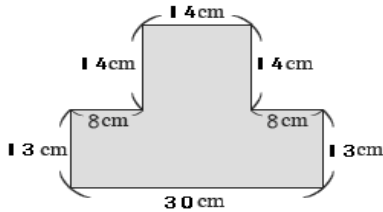
【4】  $5213 + 3287 = ( \quad )$

【 5】  $1005 + 1999 = ( \quad )$

【 4】 澎湖文物展的全票是 250 元，學生票是 150 元，各買一張要多多少元？

六、把做法和答案記下來：（共 20 分）

【 1】 下面圖形的周長是多少公分？



【 2】 阿得有 7500 元的存款，買一雙 3223 元的籃球鞋後，還剩下多少元？

七、填填看：（共 20 分）

【 1】 按照順序填填看。

$2222 - 2221 = ( \quad )$   
 $( \quad ) - 2218 = ( \quad )$

【 2】 5 個千、5 個百、15 個十和 25 個一合起來( )。

【 3】 寫出下列數的正確讀法。將軍國小全校共有「5028」個學生。  
 ( )

【 3】 下面是將軍動物園各館的參觀人數統計表，參觀人數最多的館比最少的多幾人？

	無尾熊館	貓熊館	企鵝館	爬蟲館
參觀人數(人)	2065	6500	3520	1180

【 4】 1 個千、30 個百、25 個十和 4 個一合起來是( )。

【 5】 3649 的千位數字是 ( )，百位數字是( )，十位數字是( )，個位數字是( )。