

澎湖縣將軍國民小學 100 學年度第 1 學期第一次定期評量  
二年級數學科試題

二年甲班 座號：\_\_ 姓名：\_\_\_\_\_

一、比比看，在  $\square$  內填入  $<$ 、 $>$ 、或  $=$

(每題 2 分，共 10 分)

1.  $39 \square 60$

2.  $149 \square 170$

3.  $70 \square 17 + 43$

4.  $36 \square 10 + 25$

5.  $24 + 27 \square 51$

二、把正確的圈起來

(每題 2 分，共 6 分)

1. 圈出個位數是 3 的數

【23、30、32、163】

2. 圈出十位是 0 的數。


【50、101、108、180】

3. 大雄 買了兩種文具用了 31 元，是哪

兩種呢？



13 元



25 元



7 元



18 元

三、做做看

(每題 2 分，共 44 分)

1. 比 199 多 1 的數是 ( )。

2. 比 180 少 1 的數是 ( )。

3. 比 147 少 10 的數是 ( )。

4. 比 133 多 10 的數是 ( )。

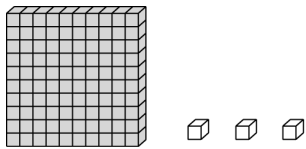
5. 135 其中 1 代表 ( )，3

代表 ( )，5 代表 5。

6.  $15 + 5 = 20$ ，和是 ( )，被加數是 ( )，加數是 ( )。

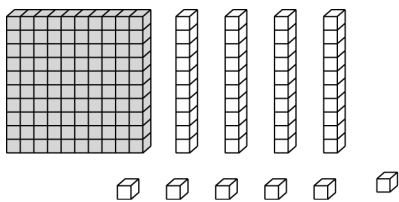
7.  $25 - 5 = 20$ ，差是 ( )，被減數是 ( )，減數是 ( )。

8. 有多少？寫寫看。



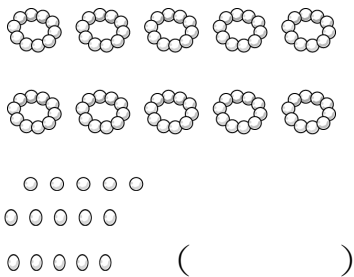
( ) 個百 ( ) 個十 ( )  
個一是 ( )。

9. 有多少？寫寫看。



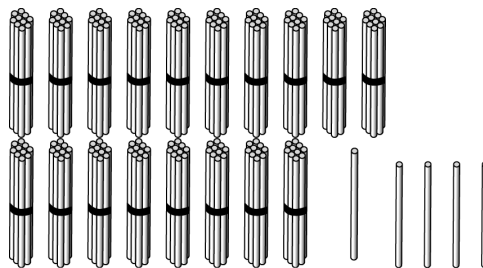
( ) 個百 ( ) 個十 ( )  
個一是 ( )。

10. 有多少？寫寫看。



( )

11. 有多少？寫寫看。



( )

四、在  $\square$  中填入適當數字，完成下列算式

(每題 2 分，共 12 分)

<p>1.</p> $\begin{array}{r} 45 \\ + \square \\ \hline 49 \end{array}$	<p>2.</p> $\begin{array}{r} 16 \\ + \square \\ \hline 22 \end{array}$
<p>3.</p> $\begin{array}{r} 5\square \\ + 23 \\ \hline 73 \end{array}$	<p>4.</p> $\begin{array}{r} 2\square \\ + 25 \\ \hline 50 \end{array}$
<p>5.</p> $\begin{array}{r} 29 \\ - 1\square \\ \hline 15 \end{array}$	<p>6.</p> $\begin{array}{r} 3\square \\ - 12 \\ \hline 18 \end{array}$

五、用直式減一減，再驗算(每題3分，共9分)

1.  $46 - 20 =$

驗算：

2.  $66 - 43 =$

驗算：

3.  $24 - 7 =$

驗算：

六、列出橫式，再用直式計算，並寫出

答案

(每題4分，共20分)

1. 公車靠站後，有8個人下車，車上還有15個人，公車上原來有幾個人？

橫式：

直式：

答：

2. 姐姐買水果，買了8顆蘋

果，10 顆梨子，和 4 顆芭樂，請問她共  
買了幾顆水果？

橫式：

直式：

答：

3. 一打鉛筆有 12 枝，花花買了兩打鉛筆，  
和 3 枝紅筆，她一共買了多少枝筆？

橫式：

直式：

答：

4. 平平有 35 元，平平比小宇  
多 5 元，小宇有幾元呢？

橫式：

直式：

答：

5. 電梯從 16 樓走到 25 樓，電梯走了幾  
樓？

橫式：

直式：

答：