


澎湖縣將軍國民小學 100 學年度第 1 學期第 1 次定期評量(本次試卷滿分 90 分)

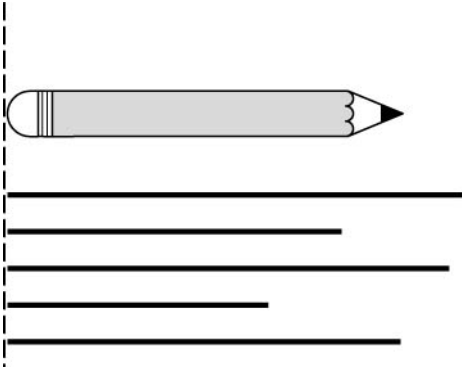
一年級數學科試題 一年甲班 座號：\_\_\_\_\_ 姓名：\_\_\_\_\_

一、圈出圈看：(每個答案 2 分，共 10 分)

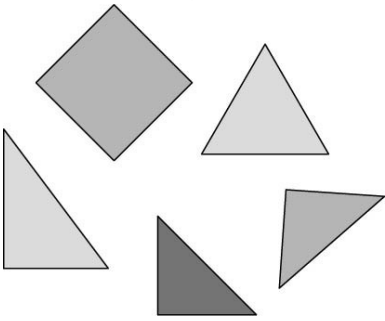
1. 看數字卡片，圈出正確的數量。



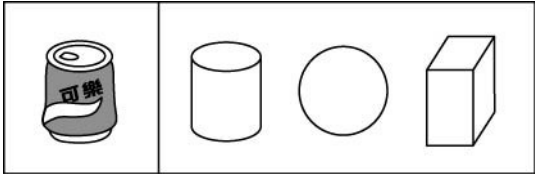
2. 哪一條直線和下面的鉛筆一樣長？把它圈起來。



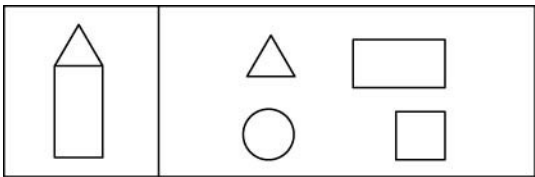
3. 把不一樣形狀圈起來。



4. 圈出和左邊一樣形狀的物體。




5. 下面形體可以印出什麼形狀？圈出圈看。




二、畫畫看看，做做看看：(每個答案 2 分，共 20 分)

1. 數一數，再畫出一樣多的○。

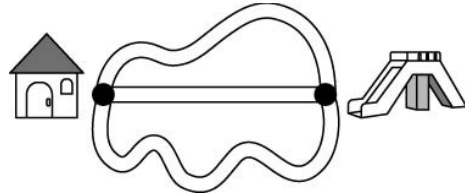


試卷滿分 90 分


2. 數一數，再畫出一樣多的○。數一數，再畫出一樣多的○。



3. 小婷家到公園有 3 條路，哪一條最近？把這條路塗滿顏色。



4. 從左邊數起，把第 6 隻魚圈起來。



5. 把前面 3 個麵包塗上顏色。



第 1 個：

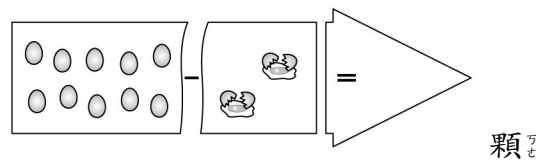
6. 8 可以分成多少和多少？塗塗看看。



( ) 和 ( )


三、算算看看：(每個答案 3 分，共 12 分)

1. 有 10 顆蛋，破了 2 顆，還剩下幾顆蛋？



顆

2. 明明原有 2 顆彈珠，同學又給他 8 顆，明明一共有幾顆彈珠？



( ) 顆

3. 白雪公主左手牽著 5 個小矮人，右手牽著 2 個小矮人，白雪公主一共牽著幾個小矮人？

( )個

4. 8個人在玩球，走了2個人，還剩幾個人在玩球？

( )個


六、選擇題：(每個答案3分，共9分)

1. ( )有3隻，還要多少隻合起來才會是7隻小鳥？




- (1) 2隻 (2) 3隻 (3) 4隻 (4) 5隻

2. ( )森林裡的小動物們在賽跑，獅子跑第幾名？



- (1) 第一名 (2) 第二名 (3) 第三名 (4) 第四名


3. ( )數數看，在山洞裡的是第幾號車廂？



- (1) 第3號 (2) 第4號 (3) 第5號 (4) 第7號

七、填填看看：(每個答案3分，共30分)

1.




(1) 由下面往上數，大象住在第( )層樓。

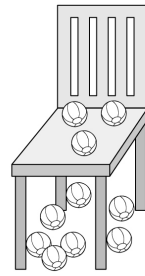
(2) 由上面往下數，兔子住在第( )層樓。

2. 小朋友排隊等車。


拿氣球的小朋友排在從左邊數起第( )個，也可以說是從右邊數起第( )個。




3. 椅子下面有( )顆球。



4. 小朋友的左手拿了( )顆氣球。

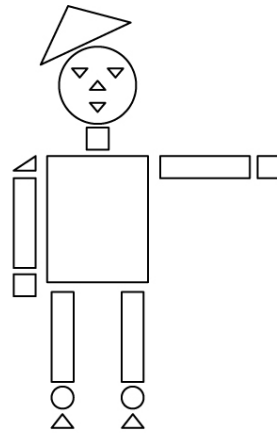


5.



10拿走3，還剩( )。

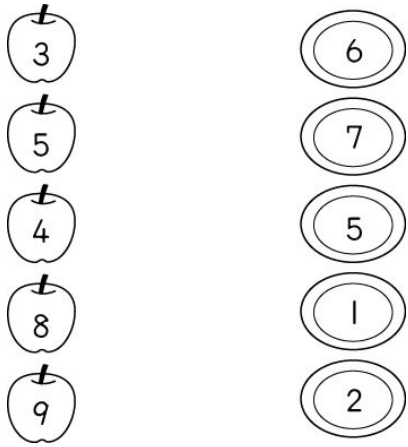
6. 數數看看。



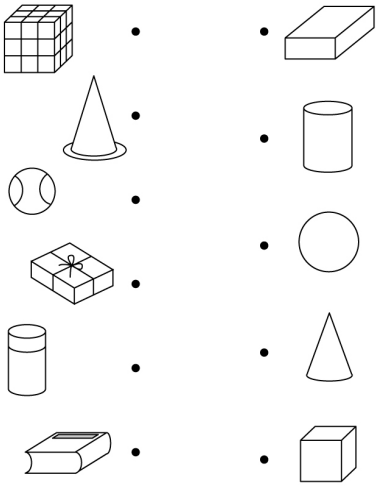
- (1) 有( )個正方形。 (2) 有( )個長方形。 (3) 有( )個三角形。

八、連連看看：(每個答案1分，共11分)

1. 多少和多少合起來是10？連連看看。




2. 把樣子很像的東西連起來。




九、看圖回答問題：(每個答案2分，共8分)

1. 可以比較高矮的打√

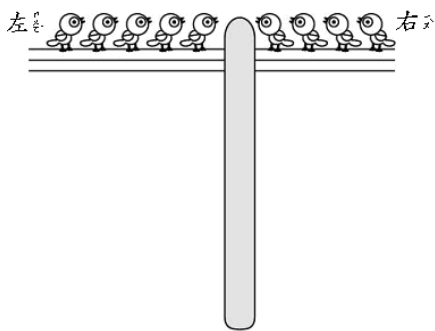


2.



美美拿花的是哪一隻手？  左手  右手

3.



(1) 電線桿的左邊有( )隻鳥。  
 (2) 電線桿的右邊有( )隻鳥。